

SET-X

(Total No. of printed pages : 42)

(DO NOT OPEN THIS QUESTION BOOKLET BEFORE TIME OR UNTIL YOU ARE ASKED TO DO SO)

(PG-EE-2022)

10009

Code

A

ECONOMICS

Sr. No. _____

Time : 1½ Hours

Total Questions : 100

Max. Marks : 100

Roll No. _____ (in figure) _____ (in words)

Name : _____ Father's Name : _____

Mother's Name : _____ Date of Examination : _____

(Signature of the candidate)

(Signature of the Invigilator)

CANDIDATES MUST READ THE FOLLOWING INFORMATION/ INSTRUCTIONS BEFORE STARTING THE QUESTION PAPER.

1. All questions are compulsory.
2. The candidates must return the Question book-let as well as OMR answer-sheet to the Invigilator concerned before leaving the Examination Hall failing which a case of use of unfair-means / mis-behaviour will be registered against him / her, in addition to lodging of an FIR with the police. Further the answer-sheet of such a candidate will not be evaluated.
3. Keeping in view the transparency of the examination system, carbonless OMR Sheet is provided to the candidate so that a copy of OMR Sheet may be kept by the candidate.
4. Question Booklet along with answer key of all the A,B,C and D code will be uploaded on the university website after the conduct of Entrance Examination. In case there is any discrepancy in the Question Booklet/Answer Key, the same may be brought to the notice of the Controller of Examinations in writing within 24 hours of uploading the same on the University Website. Thereafter, no complaint in any case, will be considered.
5. The candidate MUST NOT do any rough work or writing in the OMR Answer-Sheet. Rough work, if any, may be done in the question book-let itself. Answers MUST NOT be ticked in the Question book-let.
6. There will be no negative marking. Each correct answer will be awarded one full mark. Cutting, erasing, overwriting and more than one answer in OMR Answer-Sheet will be treated as incorrect answer.
7. Use only Black or Blue **BALL POINT PEN** of good quality in the OMR Answer-Sheet.
8. BEFORE ANSWERING THE QUESTIONS, THE CANDIDATES SHOULD ENSURE THAT THEY HAVE BEEN SUPPLIED CORRECT AND COMPLETE BOOK-LET. COMPLAINTS, IF ANY, REGARDING MISPRINTING ETC. WILL NOT BE ENTERTAINED 30 MINUTES AFTER STARTING OF THE EXAMINATION.



Question No.	Questions								
1.	<p>Cross elasticity is defined as :</p> <ol style="list-style-type: none">(1) Percentage change in demand for X commodity due to percentage change in income from Y commodity(2) Percentage change in demand of A consumer due to percentage change in income of B consumer(3) Percentage change in demand for X commodity due to percentage change in price of Y commodity.(4) Percentage change in demand for X commodity due to percentage change in price of X commodity. <p>माँग की तिरछी लोच का अर्थ है :</p> <ol style="list-style-type: none">(1) Y वस्तु से आमदनी में प्रतिशत तबदीली के कारण X वस्तु की माँग में होने वाली प्रतिशत तबदीली(2) B उपभोगी की आमदनी में प्रतिशत तबदीली के कारण A उपभोगी की माँग में होने वाली प्रतिशत तबदीली(3) Y वस्तु की कीमत में प्रतिशत तबदीली के कारण X वस्तु की माँग में होने वाली प्रतिशत तबदीली(4) X वस्तु की कीमत में प्रतिशत तबदीली के कारण X वस्तु की माँग में होने वाली प्रतिशत तबदीली								
2.	<p>The problem of scarcity and choice can be found in the definition by :</p> <table border="0" style="width: 100%;"><tr><td>(1) Alfred Marshall</td><td>(2) Lionel Robbins</td></tr><tr><td>(3) J. A. Schumpeter</td><td>(4) Adam Smith</td></tr></table> <p>दुर्लभता और चुनाव की समस्या की चर्चा कौन सी परिभाषा में मिलती है ?</p> <table border="0" style="width: 100%;"><tr><td>(1) अल्फ्रेड मार्शल</td><td>(2) लियोनेल रॉबिन्स</td></tr><tr><td>(3) जे.ए. शुम्पीटर</td><td>(4) एडम स्मिथ</td></tr></table>	(1) Alfred Marshall	(2) Lionel Robbins	(3) J. A. Schumpeter	(4) Adam Smith	(1) अल्फ्रेड मार्शल	(2) लियोनेल रॉबिन्स	(3) जे.ए. शुम्पीटर	(4) एडम स्मिथ
(1) Alfred Marshall	(2) Lionel Robbins								
(3) J. A. Schumpeter	(4) Adam Smith								
(1) अल्फ्रेड मार्शल	(2) लियोनेल रॉबिन्स								
(3) जे.ए. शुम्पीटर	(4) एडम स्मिथ								

Question No.	Questions
3.	<p>If the utility can not be measured in numbers, it is called</p> <ol style="list-style-type: none">(1) Ordinal utility(2) Cardinal utility(3) Ordinary utility(4) Optimum utility <p>अगर हम तुष्टीगुण को अँकों में न माप सकें तो इसे कौन सा नाम देते हैं ?</p> <ol style="list-style-type: none">(1) क्रमवाचक तुष्टीगुण(2) संख्यावाचक तुष्टीगुण(3) साधारण तुष्टीगुण(4) इष्टतम तुष्टीगुण
4.	<p>Consumer surplus can be defined as :</p> <ol style="list-style-type: none">(1) Difference of marginal utility and price(2) Difference of marginal utility and total utility(3) Difference of marginal utility and average utility(4) All of the above <p>उपभोक्ता अधिशेष का अर्थ है :</p> <ol style="list-style-type: none">(1) सीमांत तुष्टीगुण और कीमत में अन्तर(2) सीमांत तुष्टीगुण और कुल तुष्टीगुण में अन्तर(3) सीमांत तुष्टीगुण और औसत तुष्टीगुण में अन्तर(4) उपरोक्त सभी

Question No.	Questions
5.	<p>A consumer is in equilibrium where</p> <ol style="list-style-type: none"> (1) The indifference curve is tangent to the price line (2) The indifference curve is convex to the origin (3) Both (1) and (2) (4) None of the above <p>एक उपभोगी तभी संतुलन हासिल करेगा जब</p> <ol style="list-style-type: none"> (1) उदासीनता वक्र कीमत रेखा को स्पर्श करे (2) उदासीन वक्र मूल बिन्दु की तरफ उत्तल होता है (3) उपरोक्त (1) तथा (2) दोनों (4) उपरोक्त में से कोई नहीं
6.	<p>In case of the inferior goods, for a fall in price</p> <ol style="list-style-type: none"> (1) The price effect is negative due to negative income effect (2) The price effect is positive due to positive income effect (3) The price effect is negative due to negative substitution effect (4) The price effect is positive as positive substitution effect is higher than the negative income effect <p>घटिया वस्तुओं के मामले में कीमत के गिरने से</p> <ol style="list-style-type: none"> (1) आमदनी प्रभाव के ऋणात्मक होने के कारण कीमत प्रभाव भी ऋणात्मक होता है (2) आमदनी प्रभाव के धनात्मक होने के कारण कीमत प्रभाव भी धनात्मक होता है (3) स्थानापन्नता प्रभाव के ऋणात्मक होने के कारण कीमत प्रभाव भी ऋणात्मक होता है (4) धनात्मक स्थानापन्नता प्रभाव ऋणात्मक आमदनी प्रभाव से बड़ा होने के कारण कीमत प्रभाव धनात्मक होता है

Question No.	Questions
7.	<p>The area between the ridge lines show :</p> <ol style="list-style-type: none"> (1) Positive marginal productivity of both the factors (2) Negative marginal productivity of both the factors (3) Negative marginal productivity of factor on Y-axis (4) Negative marginal productivity of factor on X-axis <p>रिज रेखाओं के बीच का क्षेत्र</p> <ol style="list-style-type: none"> (1) दोनों साधनों की धनात्मक सीमांत उत्पादकता को दर्शाता है (2) दोनों साधनों की ऋणात्मक सीमांत उत्पादकता को दर्शाता है (3) Y-धुरे वाले साधन की ऋणात्मक सीमांत उत्पादकता को दर्शाता है (4) X-धुरे वाले साधन की ऋणात्मक सीमांत उत्पादकता को दर्शाता है
8.	<p>In the long run, the returns to scale are increasing because</p> <ol style="list-style-type: none"> (1) The production is experiencing only the economies of scale (2) The production is experiencing only the diseconomies of scale (3) The economies of scale are higher than the diseconomies of scale (4) The diseconomies of scale are higher than the economies of scale <p>लंबे समय में पैमाने के प्रतिफल इस लिए बढ़ते हैं क्योंकि</p> <ol style="list-style-type: none"> (1) उत्पादन में सिर्फ पैमाने की बचतें हासिल हो रही होती हैं (2) उत्पादन में सिर्फ पैमाने की हानियाँ हासिल हो रही होती हैं (3) उत्पादन में पैमाने की बचतें पैमाने की हानियों से अधिक होती हैं (4) उत्पादन में पैमाने की हानियाँ पैमाने की बचतों से अधिक होती हैं

Question No.	Questions
9.	<p>According to the traditional theory of cost, which of the following is not true :</p> <p>(1) Average cost curve is always U-shaped (2) Marginal cost curve is always U-shaped (3) Marginal cost curve is always upward sloping (4) At the minimum average cost, average cost is equal to the marginal cost</p> <p>लागत के पुरातन सिद्धांत के अनुसार कौन सी बात सही नहीं है</p> <p>(1) औसत लागत वक्र हमेशा अंग्रेजी भाषा के यू के आकार का होता है (2) सीमांत लागत वक्र हमेशा अंग्रेजी भाषा के यू के आकार का होता है (3) सीमांत लागत वक्र हमेशा ऊपर की तरफ बढ़ता हुआ वक्र होता है (4) औसत लागत के न्यूनतम बिन्दु पर औसत लागत और सीमांत लागत बराबर होता है</p>
10.	<p>The L-shaped cost curve is also known as :</p> <p>(1) Lerner curve (2) Smith curve (3) Schumpeter curve (4) Kuznet curve</p> <p>अंग्रेजी भाषा के एल अक्षर वाले आकार के लागत वक्र को और कौन से नाम से भी जाना जाता है ?</p> <p>(1) लर्नर वक्र (2) स्मिथ वक्र (3) शुम्पीटर वक्र (4) कुज़नेट वक्र</p>

Question No.	Questions
11.	<p>Which of the following is true</p> <p>(1) Total revenue is maximum when average revenue is maximum</p> <p>(2) Total revenue is maximum when marginal revenue is maximum</p> <p>(3) Total revenue is maximum when average revenue is minimum</p> <p>(4) Total revenue is maximum when marginal revenue is zero</p> <p>नीचे दिए कथनों में से कौन-सा कथन सही है ?</p> <p>(1) कुल आमदनी तभी अधिकतम होती है जब औसत आमदनी अधिकतम हो</p> <p>(2) कुल आमदनी तभी अधिकतम होती है जब सीमांत आमदनी अधिकतम हो</p> <p>(3) कुल आमदनी तभी अधिकतम होती है जब औसत आमदनी न्यूनतम हो</p> <p>(4) कुल आमदनी तभी अधिकतम होती है जब सीमांत आमदनी सिफर हो</p>
12.	<p>At the break-even point :</p> <p>(1) The firm is incurring losses but average revenue is greater than the average variable cost</p> <p>(2) The firm is incurring losses but average revenue is just equal to the the average variable cost</p> <p>(3) The firm is incurring losses but average revenue is lower than the average variable cost</p> <p>(4) The firm is getting just equal to its total cost</p> <p>ब्रेक-ईवन बिन्दु पर</p> <p>(1) फर्म नुकसान झेल रही होती है पर उसकी औसत आमदन औसत परिवर्तनशील लागत से अधिक होती है</p> <p>(2) फर्म नुकसान झेल रही होती है पर उसकी औसत आमदन औसत परिवर्तनशील लागत के बराबर होती है</p> <p>(3) फर्म नुकसान झेल रही होती है पर उसकी औसत आमदन औसत परिवर्तनशील लागत से कम होती है</p> <p>(4) फर्म को बस कुल लागत के बराबर ही आमदन प्राप्त हो रही होती है</p>

Question No.	Questions
13.	<p>Which of the following is not a feature of perfect competition ?</p> <p>(1) Perfect knowledge (2) Perfect mobility (3) Infinite number of buyers (4) Selling cost</p> <p>निम्नलिखित में से कौन-सा पूर्ण मुकाबले का लक्षण नहीं माना जाता ?</p> <p>(1) पूर्ण ज्ञान (2) पूर्ण गतिशीलता (3) खरीदारों की अनन्त संख्या (4) बिक्री लागत</p>
14.	<p>Which of the following is not true under perfect competition ?</p> <p>(1) The firm is price taker (2) Industry is price maker (3) The firm can bear losses in the short term (4) The firm always enjoy supernormal profits in the long run</p> <p>निम्नलिखित में से कौन-सा कथन पूर्ण मुकाबले के अन्तर्गत सही नहीं है ?</p> <p>(1) फर्म कीमत निर्धारण नहीं कर सकती (2) उद्योग कीमत निर्धारण करता है (3) फर्म को थोड़े समय में हानियां सहनी पड़ सकती हैं (4) लम्बे समय में फर्म को हमेशा आसाधारण लाभ होते हैं</p>
15.	<p>Under the price discrimination of the first degree</p> <p>(1) Whole of the consumer surplus is taken by the monopolist (2) Only the marginal units of each group have zero consumer surplus (3) The market is divided on basis of elasticity of demand (4) All of the above</p> <p>पहले दर्जे के कीमत विभेद के अंतर्गत</p> <p>(1) एकाधिकारी उपभोगी का पूर्ण अधिशेष हड़प लेता है (2) किसी भी जनसंख्या समूह की केवल सीमांत इकाइयों का उपभोक्ता अधिशेष होता है (3) पूरी मण्डी को माँग की लोच के आधार पर विभिन्न वर्गों में बाँटा जाता है (4) उपरोक्त सभी</p>

Question No.	Questions
16.	<p>Monopoly power is defined as</p> <p>(1) $(AR - MR)/AR$ (2) $1 - AR/MR$ (3) MR/MC (4) MC/MR</p> <p>एकाधिकारी शक्ति के माप के लिए निम्न में से कौन सा सूत्र सही है ?</p> <p>(1) $(\text{औसत आमदनी}-\text{सीमांत आमदनी})/\text{औसत आमदनी}$ (2) $1 - \text{औसत आमदनी}/\text{सीमांत आमदनी}$ (3) $\text{सीमांत आमदनी}/\text{सीमांत लागत}$ (4) $\text{सीमांत लागत}/\text{सीमांत आमदनी}$</p>
17.	<p>Excess capacity shows :</p> <p>(1) The difference of actual output and equilibrium output (2) Difference of minimum and maximum output (3) Difference of equilibrium output and minimum cost output (4) None of the above</p> <p>निम्न में से अतिरिक्त सामर्थ्य कैसे मापा जा सकता है ?</p> <p>(1) असल और संतुलन वाले उत्पादन के अन्तर से (2) न्यूनतम और अधिकतम उत्पादन के अन्तर से (3) संतुलन वाले उत्पादन और न्यूनतम लागत वाले उत्पादन में अन्तर से (4) उपरोक्त में से कोई भी नहीं</p>

Question No.	Questions
18.	<p>A kink in demand curve under oligopoly shows that</p> <ol style="list-style-type: none">(1) Demand is more elastic for a rise in price(2) Demand is less elastic for a fall in price(3) Both (1) and (2)(4) Neither (1) nor (2) <p>अल्पाधिकार में गाँठदार (किंकी) मांग वक्र क्या दर्शाता है ?</p> <ol style="list-style-type: none">(1) कीमत के बढ़ने से मांग की लचक बढ़ती है(2) कीमत के घटने से मांग की लचक घटती है(3) (1) तथा (2) दोनों(4) न तो (1) न ही (2)
19.	<p>Asymmetric information refers to a situation when</p> <ol style="list-style-type: none">(1) Nobody has the perfect information(2) Everybody has the perfect information.(3) One party has the greater information than the other(4) No information at all <p>असममित सूचना का एक ऐसी स्थिति को दर्शाती है जब</p> <ol style="list-style-type: none">(1) किसी को भी पूर्ण ज्ञान न हो(2) सब को पूर्ण ज्ञान हो(3) एक पक्ष को दूसरे से ज्यादा ज्ञान हो(4) कोई भी सूचना उपलब्ध न हो

Question No.	Questions
20.	<p>The innovation theory of profit was given by</p> <p>(1) Hall and Hitch (2) Marshall</p> <p>(3) Cournot (4) Schumpeter</p> <p>लाभ का नवाचार सिद्धान्त किस ने दिया था ?</p> <p>(1) हॉल और हिच ने (2) मार्शल ने</p> <p>(3) कॉर्नो ने (4) शुम्पीटर ने</p>
21.	<p>The concept of real per capita income means that</p> <p>(1) Per capita income has been adjusted to the inflation rate</p> <p>(2) Per capita income minus taxes</p> <p>(3) Per capita income minus depreciation</p> <p>(4) Net profits of the production sector</p> <p>असल प्रति व्यक्ति आमदनी की अवधारणा का अर्थ है कि</p> <p>(1) प्रति व्यक्ति आमदनी को मुद्रास्फीति दर के लिए समायोजित कर दिया गया है</p> <p>(2) प्रति व्यक्ति आमदनी में से कर घटा दिए गए हैं</p> <p>(3) प्रति व्यक्ति आमदनी में से घिसावट को घटा दिया गया है</p> <p>(4) उत्पादन क्षेत्र के शुद्ध लाभ</p>
22.	<p>National income is also known as</p> <p>(1) GDP at market prices (2) GNP at market prices</p> <p>(3) GNP at factor prices (4) NNP at factor prices</p> <p>राष्ट्रीय आमदनी को यह भी कहा जाता है</p> <p>(1) बाज़ार कीमतों पर सकल घरेलू उत्पाद</p> <p>(2) बाज़ार कीमतों पर सकल राष्ट्रीय उत्पाद</p> <p>(3) साधन कीमतों पर सकल राष्ट्रीय उत्पाद</p> <p>(4) साधन कीमतों पर निवल राष्ट्रीय उत्पाद</p>

Question No.	Questions
23.	<p>In an economy the value of multiplier is higher if</p> <ol style="list-style-type: none">(1) Propensity to save is higher(2) Propensity to invest is higher(3) Propensity to consume is higher(4) All of the above <p>किसी भी अर्थव्यवस्था में गुणक का मूल्य अधिक होता है अगर</p> <ol style="list-style-type: none">(1) बचत की प्रवृत्ति अधिक हो(2) निवेश की प्रवृत्ति अधिक हो(3) उपभोग की प्रवृत्ति अधिक हो(4) उपरोक्त सभी
24.	<p>The MPC is equal to APC, if</p> <ol style="list-style-type: none">(1) The MPC is constant(2) APC is at its minimum(3) APC is at its maximum(4) MPC is at its maximum <p>उपभोग की सीमांत प्रवृत्ति उपभोग की औसत प्रवृत्ति के बराबर होती है अगर</p> <ol style="list-style-type: none">(1) उपभोग की सीमांत प्रवृत्ति स्थिर है(2) उपभोग की औसत प्रवृत्ति अपने न्यूनतम पर है(3) उपभोग की औसत प्रवृत्ति अपने अधिकतम पर है(4) उपभोग की सीमांत प्रवृत्ति अपने अधिकतम पर है

Question No.	Questions				
25.	<p>Autonomous investment means</p> <ol style="list-style-type: none">(1) An investment which grows automatically(2) An investment which grows along with income(3) An investment which is independent of income(4) An investment which is independent of rate of interest <p>स्वचालित निवेश का अर्थ है</p> <ol style="list-style-type: none">(1) ऐसा निवेश जो अपने आप बढ़ता है(2) ऐसा निवेश जो आमदनी के साथ बढ़ता है(3) ऐसा निवेश जो आमदनी से मुक्त है(4) ऐसा निवेश जो ब्याज की दर से मुक्त है				
26.	<p>The unemployment allowance by the government is counted in :</p> <ol style="list-style-type: none">(1) Household income(2) Household consumption expenditure(3) Government expenditure(4) Investment expenditure <p>सरकार द्वारा दिया गया बेरोजगारी भत्ता किसमें शामिल किया जाता है ?</p> <table border="0"><tr><td>(1) घरेलू आमदनी में</td><td>(2) घरेलू उपभोग खर्चों में</td></tr><tr><td>(3) सरकारी खर्चों में</td><td>(4) निवेश खर्चों में</td></tr></table>	(1) घरेलू आमदनी में	(2) घरेलू उपभोग खर्चों में	(3) सरकारी खर्चों में	(4) निवेश खर्चों में
(1) घरेलू आमदनी में	(2) घरेलू उपभोग खर्चों में				
(3) सरकारी खर्चों में	(4) निवेश खर्चों में				

Question No.	Questions
27.	<p>The interest payments on foreign loans are counted in :</p> <p>(1) Balance of payments on current account (2) Balance of payments on capital account (3) Both (1) and (2) (4) Neither (1) nor (2)</p> <p>विदेशी कर्जों पर ब्याज की अदायगी किसमें शामिल की जाती है ?</p> <p>(1) चालू खाते के भुगतान शेष में (2) पूंजी खाते के भुगतान शेष में (3) (1) तथा (2) दोनों (4) न तो (1) न ही (2)</p>
28.	<p>The effective demand necessarily refers to</p> <p>(1) Actual demand (2) Desired demand (3) Aggregate demand just equal to aggregate supply (4) Demand at the level of full employment</p> <p>प्रभावी मांग किस धारणा की तरफ इशारा करती है ?</p> <p>(1) असल मांग (2) वांछित मांग (3) कुल मांग का कुल पूर्ति के बिल्कुल बराबर होना (4) पूर्ण रोजगार की स्थिति में होने वाली मांग</p>
29.	<p>If $MPC = MPS$, then the value of multiplier is</p> <p>(1) Zero (2) One (3) Two (4) Infinite</p> <p>अगर उपभोग की सीमांत प्रवृत्ति बचत की सीमांत प्रवृत्ति के बराबर हो तो गुणक का मूल्य</p> <p>(1) सिर्फ होता है (2) एक के बराबर होता है (3) दो के बराबर होता है (4) अनिश्चित होता है</p>

Question No.	Questions
30.	<p>An increase in tax may lead to</p> <ol style="list-style-type: none">(1) A rightward shift in LM curve(2) A leftward shift in LM curve(3) A leftward shift in IS curve(4) A rightward shift in both IS and LM curve <p>कर में बढ़ोतरी होने से</p> <ol style="list-style-type: none">(1) LM वक्र दाईं तरफ खिसक जाता है(2) LM वक्र बाईं तरफ खिसक जाता है(3) IS वक्र बाईं तरफ खिसक जाता है(4) IS और LM दोनों ही वक्र दाईं तरफ खिसक जाता है
31.	<p>Positive net exports lead to</p> <ol style="list-style-type: none">(1) A rightward shift in aggregate supply(2) A leftward shift in aggregate supply(3) A rightward shift in aggregate demand(4) A leftward shift in aggregate demand <p>निवल निर्यात में धनात्मक तबदीली से</p> <ol style="list-style-type: none">(1) कुल पूर्ति दाईं तरफ खिसक जाती है(2) कुल पूर्ति बाईं तरफ खिसक जाती है(3) कुल मांग दाईं तरफ खिसक जाती है(4) कुल मांग बाईं तरफ खिसक जाती है

Question No.	Questions
32.	<p>If the total receipts are less than the total expenditure of the government, the deficit is called</p> <p>(1) Fiscal deficit (2) Budget deficit (3) Revenue deficit (4) Income deficit</p> <p>अगर सरकारी आमदनी की प्राप्तियां सरकारी खर्चों से कम हो तो घाटे को क्या कहा जाता है ?</p> <p>(1) राजकोषीय घाटा (2) बजट घाटा (3) राजस्व घाटा (4) आमदनी घाटा</p>
33.	<p>The value of multiplier can be found by :</p> <p>(1) Change in investment/change in income (2) $1/(1 - MPC)$ (3) $1/MPC$ (4) $1/(1 - MPS)$</p> <p>गुणक को नीचे दिए किस सूत्र से मापा जा सकता है ?</p> <p>(1) निवेश में तबदीली/आमदनी में तबदीली (2) $1/(1 - उपभोग की सीमांत प्रवृत्ति)$ (3) $1/(उपभोग की सीमांत प्रवृत्ति)$ (4) $1/(1 - बचत की सीमांत प्रवृत्ति)$</p>

Question No.	Questions				
34.	<p>In the short period the aggregate supply curve</p> <ol style="list-style-type: none"> (1) Can be shifted to the rightward direction with help of the fixed factors only (2) Can be shifted to the rightward direction with help of the variable factors only (3) Can be shifted to the rightward direction with help of both the fixed and the variable factors (4) Can not be shifted at all <p>थोड़े समय में पूर्ति वक्र को</p> <ol style="list-style-type: none"> (1) सिर्फ स्थिर साधन को बढ़ा कर दाईं ओर खिसकाया जा सकता है (2) सिर्फ परिवर्तनशील साधन को बढ़ा कर दाईं तरफ खिसकाया जा सकता है (3) स्थिर और परिवर्तनशील दोनों साधनों को बढ़ा कर दाईं तरफ खिसकाया जा सकता है (4) बिलकुल ही नहीं खिसकाया जा सकता 				
35.	<p>The intersection of aggregate supply and aggregate demand shows</p> <ol style="list-style-type: none"> (1) Full employment (2) Equilibrium of the market (3) Equilibrium of a firm (4) Effective demand <p>कुल मांग और कुल पूर्ति का प्रतिच्छेद क्या दर्शाता है ?</p> <table style="width: 100%; border: none;"> <tr> <td style="width: 50%;">(1) पूर्ण रोजगार</td> <td style="width: 50%;">(2) मण्डी का सन्तुलन</td> </tr> <tr> <td>(3) किसी फर्म का सन्तुलन</td> <td>(4) प्रभावी मांग</td> </tr> </table>	(1) पूर्ण रोजगार	(2) मण्डी का सन्तुलन	(3) किसी फर्म का सन्तुलन	(4) प्रभावी मांग
(1) पूर्ण रोजगार	(2) मण्डी का सन्तुलन				
(3) किसी फर्म का सन्तुलन	(4) प्रभावी मांग				

Question No.	Questions
36.	<p>In the theory of liquidity preference, the passive balances refer to</p> <ol style="list-style-type: none">(1) Speculative demand for money(2) Transaction demand for money(3) Precautionary demand for money(4) Both (2) and (3) <p>तरलता तरजीह सिद्धान्त में अक्रियाशील बकाए दर्शाते हैं ?</p> <ol style="list-style-type: none">(1) मुद्रा के लिए परिकल्पी मांग को(2) लेनदेन के उद्देश्य के लिए मुद्रा की मांग को(3) एहतियाती उद्देश्य के लिए मुद्रा की मांग को(4) (2) और (3) दानों
37.	<p>Samuelson's business cycles are based on</p> <ol style="list-style-type: none">(1) The interaction of multiplier and accelerator(2) Interaction of demand and supply(3) Elasticity of demand and supply(4) Interaction of government expenditure and revenue <p>सैम्यूलसन के व्यापार चक्र किस आधार पर दर्शाए जाते हैं ?</p> <ol style="list-style-type: none">(1) गुणक और त्वरक की अंतःक्रिया से(2) मांग और पूर्ति की अंतःक्रिया से(3) मांग और पूर्ति की लचक के हिसाब से(4) राजस्व और सरकारी खर्च की अंतःक्रिया से

Question No.	Questions
38.	<p>The dirty floating refers to</p> <p>(1) Depreciation or appreciation of currency (2) Devaluation or revaluation of currency (3) Illegal exchange of currency (4) None of the above</p> <p>मैली परिवर्तनशीलता का अर्थ है</p> <p>(1) करन्सी के मूल्य का हास या सुधार हो जाना (2) करन्सी के मूल्य में गिरावट या बढ़ोत्तरी करना (3) करन्सी का गैरकानूनी तरीके से विनिमय करना (4) उपरोक्त में से कोई भी नहीं</p>
39.	<p>The theory of comparative advantage is originally named after</p> <p>(1) J.S. Mill (2) Bo Sodersten (3) Heckscher and Ohlin (4) Edgeworth</p> <p>तुलनात्मक लाभ का सिद्धान्त मूलतः किसके नाम से जाना जाता है ?</p> <p>(1) जे. एस. मिल (2) बो सोदरस्टेन (3) हेक्शर और ओह्लिन (4) एज्वर्थ</p>
40.	<p>The incidence of an indirect tax falls on</p> <p>(1) Producer (2) Consumer (3) Wholesaler (4) Retailer</p> <p>अप्रत्यक्ष कर का भार किस पर पड़ता है ?</p> <p>(1) उत्पादक पर (2) उपभोगी पर (3) थोक विक्रेता पर (4) परचून विक्रेता पर</p>

Question No.	Questions
41.	<p>Which of the following is not a component of vicious cycle from demand side</p> <p>(1) Income (2) Savings (3) Investment (4) Employment</p> <p>निम्नलिखित में से कौन-सी चर मांग पक्ष के कुचक्र का हिस्सा नहीं होती ?</p> <p>(1) आमदनी (2) बचत (3) निवेश (4) रोज़गार</p>
42.	<p>According to most of the theories, fall in share of employment in agriculture indicates</p> <p>(1) Crisis in agriculture (2) Structural shifts related to development of the economy (3) Mass unemployment (4) Mass rural poverty</p> <p>विकास के बहुतेरे सिद्धान्तों के अनुसार खेती क्षेत्र में रोज़गार का हिस्सा गिरने का अर्थ है</p> <p>(1) खेती में संकट का होना (2) अर्थव्यवस्था के विकास से सम्बन्धित ढांचागत तबदीली का होना (3) व्यापक बेरोज़गारी का होना (4) व्यापक देहाती गरीबी का होना</p>

Question No.	Questions
43.	<p>Which of the following is not a component of human development index</p> <p>(1) Knowledge (2) Life expectancy (3) Infant mortality (4) Standard of living</p> <p>निम्नलिखित में से कौन-सा चर मानव विकास सूचकांक का अंग नहीं है ?</p> <p>(1) ज्ञान (2) प्रत्याशित जीवन अवधि (3) शिशु मृत्यु दर (4) जीवन स्तर</p>
44.	<p>Human development index was first formulated in</p> <p>(1) 1990 (2) 1970 (3) 1965 (4) 1995</p> <p>मानव विकास सूचकांक सबसे पहले किस साल में सूत्रीकृत किया गया था ?</p> <p>(1) 1990 (2) 1970 (3) 1965 (4) 1995</p>
45.	<p>For international comparison which of the following is considered a better measure</p> <p>(1) Comparing per capita incomes in US\$ terms (2) Comparing national incomes in US\$ terms (3) Comparing the government debt in PPP\$ terms (4) Comparing the per capita incomes in PPP\$ terms</p> <p>अन्तर्राष्ट्रीय तुलना के लिए कौन-सा माप सबसे बेहतर माना जाता है ?</p> <p>(1) अमरीकी डॉलर में प्रति व्यक्ति आमदनी की तुलना करना (2) अमरीकी डॉलर में राष्ट्रीय आमदनी की तुलना करना (3) खरीद शक्ति समता वाले डॉलर में सरकारी कर्ज की तुलना करना (4) खरीद शक्ति समता वाले डॉलर में प्रति व्यक्ति आमदनी की तुलना करना</p>

Question No.	Questions
46.	<p>The Unbalanced Growth Theory was given by</p> <p>(1) Rosenstein Rodan (2) Hirschman</p> <p>(3) Lewis (4) Harrod and Domar</p> <p>असंतुलित विकास का सिद्धान्त किसके द्वारा दिया गया है ?</p> <p>(1) रोसनस्टीन रोडन (2) हर्शमैन</p> <p>(3) लेविस (4) हैरोड और डोमर</p>
47.	<p>Why the balanced growth is required in the underdeveloped economies ?</p> <p>(1) Due to indivisibilities in production</p> <p>(2) Due to indivisibilities in demand</p> <p>(3) Due to indivisibilities in supply of savings</p> <p>(4) All of the above</p> <p>अल्पविकसित अर्थव्यवस्थाओं के विकास के लिए संतुलित विकास की क्यों ज़रूरत पड़ती है ?</p> <p>(1) उत्पादन में अविभाजनताओं के कारण</p> <p>(2) मांग में अविभाजनताओं के कारण</p> <p>(3) बचत की पूर्ति में अविभाजनताओं के कारण</p> <p>(4) उपरोक्त सभी</p>

Question No.	Questions
48.	<p>According to Lewis, the wages in the modern sector are</p> <ol style="list-style-type: none">(1) Just equal to that of the traditional sector(2) Greater by 30-35 per cent of the wages prevailing in the traditional sector(3) Greater by 50-60 per cent of the wages prevailing in the traditional sector(4) Greater by 10-15 per cent of the wages prevailing in the traditional sector <p>लेविस के अनुसार आधुनिक क्षेत्र में मज़दूरी की दर</p> <ol style="list-style-type: none">(1) पारम्परिक क्षेत्र की मज़दूरी की दर के बिलकुल बराबर होती है(2) पारम्परिक क्षेत्र की मज़दूरी की दर से 30-35 प्रतिशत अधिक होती है(3) पारम्परिक क्षेत्र की मज़दूरी की दर से 50-60 प्रतिशत अधिक होती है(4) पारम्परिक क्षेत्र की मज़दूरी की दर से 10-15 प्रतिशत अधिक होती है
49.	<p>The concept of disguised unemployed refers to the workers</p> <ol style="list-style-type: none">(1) Who are voluntarily unemployed(2) Who are involuntarily unemployed(3) Who do not add to total demand(4) Who do not add to total production <p>छुपे हुए बेरोज़गार की धारणा में किन मज़दूरों की बात की जाती है ?</p> <ol style="list-style-type: none">(1) जो कि इच्छित रूप में बेरोज़गार होते हैं(2) जो कि अनिच्छित रूप में बेरोज़गार होते हैं(3) जो कि कुल मांग में कोई हिस्सा नहीं रखते(4) जो कि कुल उत्पादन में कोई हिस्सा नहीं रखते

Question No.	Questions
50.	<p>Below the critical minimum effort</p> <p>(1) Spread effects are greater than the backwash effects</p> <p>(2) Backwash effects are greater than the spread effects</p> <p>(3) Negative externalities are lower than the positive externalities</p> <p>(4) There is too much government interference</p> <p>गंभीर न्यूनतम प्रयास के नीचे वाले बिन्दुओं पर</p> <p>(1) फैलाव प्रभाव प्रक्षिप्त प्रभावों से बड़े होते हैं</p> <p>(2) प्रक्षिप्त प्रभाव फैलाव प्रभावों से बड़े होते हैं</p> <p>(3) ऋणात्मक बाह्यताएं धनात्मक बाह्यताओं से कम होती हैं</p> <p>(4) सरकारी हस्तक्षेप बहुत ज्यादा होता है</p>
51.	<p>When a market failure occurs due to the reason that the user of the public resources do not pay for them, its called</p> <p>(1) The problem of market structures</p> <p>(2) The problem of fiscal deficit</p> <p>(3) The free rider problem</p> <p>(4) The hijacker problem</p> <p>जब मण्डी इस लिए विफल होती है क्योंकि किसी सार्वजनिक साधन को इस्तेमाल करने वाले के द्वारा उसका मूल्य अदा नहीं किया जाता, तो इसे क्या कहा जाता है</p> <p>(1) मण्डी के ढाँचे की समस्या (2) राजकोषीय घाटे की समस्या</p> <p>(3) मुफ्तखोरी की समस्या (4) लूट-पाट की समस्या</p>

Question No.	Questions
52.	<p>A resource is called a renewable resource if</p> <p>(1) It can be replenished (2) It can not be reused</p> <p>(3) It has become outdated (4) It is no longer in use in the economy</p> <p>किसी भी संसाधन को नवीकरणीय संसाधन कहा जा सकता है अगर</p> <p>(1) उसको पुनर्जीवित किया जा सके</p> <p>(2) उसको दोबारा इस्तेमाल न किया जा सके</p> <p>(3) वो साधन पुराना पड़ चुका हो</p> <p>(4) उस साधन की अर्थव्यवस्था में कोई ज़रूरत न रही हो</p>
53.	<p>Sustainable development refers to</p> <p>(1) A constant rate of growth, for present generation</p> <p>(2) A growth without government assistance for present generation at the cost of future generation</p> <p>(3) Higher growth for future generation at the sacrifice of needs of the present generation</p> <p>(4) A growth in present times without sacrificing the needs of the future generation</p> <p>सतत विकास का अर्थ है</p> <p>(1) वर्तमान पीढ़ी के लिए एक स्थिर विकास की दर</p> <p>(2) भविष्य की पीढ़ी की लागत पर, बिना सरकार की सहायता के प्राप्त की गई वर्तमान पीढ़ी की आर्थिक विकास दर</p> <p>(3) वर्तमान पीढ़ी की ज़रूरतों के त्याग से हासिल की जाने वाली भविष्य की पीढ़ी के लिए बेहतर आर्थिक विकास दर</p> <p>(4) भविष्य की पीढ़ी की ज़रूरतों के त्याग के बिना हासिल की गई वर्तमान समय की आर्थिक विकास दर</p>

Question No.	Questions
54.	<p>The UN conference on sustainable development is also known as</p> <p>(1) Rio 2000 (2) Rio 2010 (3) Rio 2012 (4) Rio 2015</p> <p>सतत विकास की संयुक्त राष्ट्र संघ की कॉन्फ्रेंस को और किस नाम से जाना जाता है ?</p> <p>(1) रियो 2000 (2) रियो 2010 (3) रियो 2012 (4) रियो 2015</p>
55.	<p>The Brundtland Commission Report referred to</p> <p>(1) Industrial development (2) Agricultural development (3) Sustainable development (4) Trade and development</p> <p>ब्रन्टलैंड कमिशन की रिपोर्ट किस से सम्बन्धित है ?</p> <p>(1) औद्योगिक विकास से (2) खेती के विकास से (3) सतत विकास से (4) व्यापार और विकास से</p>
56.	<p>When national income accounts incorporate the environment cost and natural resources, it is termed as</p> <p>(1) Social accounting (2) Grey accounting (3) Sustainable accounting (4) Green accounting</p> <p>जब राष्ट्रीय आमदनी लेखे में पर्यावरण की लागत और कुदरती संसाधनों को शामिल किया जाता है, तो इसे क्या कहा जाता है ?</p> <p>(1) समाजिक लेखांकन (2) स्लेटी लेखांकन (3) सतत लेखांकन (4) हरित लेखांकन</p>

Question No.	Questions
57.	<p>The environment-Kuznet curve is</p> <p>(1) U-shaped (2) Upward sloping (3) Downward sloping (4) Inverted U-shaped</p> <p>कुज़नेट के पर्यावरण वक्र का आकार क्या होता है ?</p> <p>(1) अंग्रेज़ी भाषा के यू जैसा (2) ऊपर की तरफ बढ़ता हुआ (3) नीचे की तरफ गिरता हुआ (4) अंग्रेज़ी भाषा के यू का उलट</p>
58.	<p>The recognition of the close link between an organisation's decisions and their impact on the natural environment is called</p> <p>(1) Global environment (2) Greening of management (3) Social responsibility (4) None of the above</p> <p>किसी संगठन के फैसले से पर्यावरण पर होने वाले प्रभाव के निकट सम्बन्ध की पहचान करने की प्रक्रिया को क्या नाम दिया जाता है ?</p> <p>(1) वैश्विक पर्यावरण (2) प्रबन्धन का हरितन (कायाकल्प) (3) समाजिक जिम्मेदारी (4) उपरोक्त में से कोई भी नहीं</p>
59.	<p>Which of the following phenomenon is associated with global warming</p> <p>(1) Southern oscillations (2) El Nino (3) La Nina (4) El Nino Modoki</p> <p>निम्नलिखित में से कौन सी घटना वैश्विक तापन से सम्बन्धित है ?</p> <p>(1) दक्षिण के उतार-चढ़ाव (2) एल नीनो (3) ला नीना (4) एल नीनो मोदोकी</p>

Question No.	Questions
60.	<p>When did the Forest Conservation Act came in to force in India</p> <p>(1) 25 October, 1986 (2) 25 October, 1980</p> <p>(3) 25 October, 1972 (4) 25 October, 1990</p> <p>भारत में वन संरक्षण अधिनियम कब लागू हुआ ?</p> <p>(1) 25 अक्तूबर, 1986 (2) 25 अक्तूबर, 1980</p> <p>(3) 25 अक्तूबर, 1972 (4) 25 अक्तूबर, 1990</p>
61.	<p>Which plan is known as Mahalanobis plan</p> <p>(1) First plan (2) Second plan</p> <p>(3) Fourth plan (4) Eighth plan</p> <p>किस योजना को महालनोबिस योजना का भी नाम दिया जाता है ?</p> <p>(1) पहली योजना (2) दूसरी योजना</p> <p>(3) चौथी योजना (4) आठवीं योजना</p>
62.	<p>The initiation of 'Blue Revolution' is related with</p> <p>(1) Third plan (2) Fifth plan</p> <p>(3) Seventh plan (4) Ninth plan</p> <p>नीली क्रांति की शुरुआत किस योजना से सम्बन्धित है ?</p> <p>(1) तीसरी योजना (2) पांचवीं योजना</p> <p>(3) सातवीं योजना (4) नौवीं योजना</p>

Question No.	Questions
63.	<p>Which period is termed as the 'Plan Holiday' ?</p> <p>(1) 1947-50 (2) 1966-69</p> <p>(3) 1990-92 (4) 2017 onwards</p> <p>किस काल को 'योजना छुट्टी' का काल माना जाता है ?</p> <p>(1) 1947-50 (2) 1966-69</p> <p>(3) 1990-92 (4) 2017 के बाद का समय</p>
64.	<p>When did Niti Aayog came in to force ?</p> <p>(1) 2010 (2) 2015</p> <p>(3) 2017 (4) 2014</p> <p>नीति आयोग ने कब से काम करना शुरू किया ?</p> <p>(1) 2010 (2) 2015</p> <p>(3) 2017 (4) 2014</p>
65.	<p>Which plan was launched with the slogan of 'Garibi Hatao'</p> <p>(1) Third plan (2) Fifth plan</p> <p>(3) Seventh plan (4) Ninth plan</p> <p>कौन सी योजना 'गरीबी हटाओ' के नारे के साथ शुरू की गई थी ?</p> <p>(1) तीसरी योजना (2) पांचवीं योजना</p> <p>(3) सातवीं योजना (4) नौवीं योजना</p>

Question No.	Questions
66.	<p>Which of the following had the highest population density in Census, 2011</p> <p>(1) Delhi (2) Maharashtra (3) West Bengal (4) Uttar Pradesh</p> <p>2011 की जनगणना में किस राज्य की जनसंख्या सघनता सबसे ज्यादा थी ?</p> <p>(1) दिल्ली (2) महाराष्ट्र (3) पश्चिम बंगाल (4) उत्तर प्रदेश</p>
67.	<p>Sex ratio refers to</p> <p>(1) Proportion of females in total population (2) Number of females per thousand of population (3) Number of females per thousand of males (4) Number of males per thousand of females</p> <p>लिंगक अनुपात का अर्थ है</p> <p>(1) कुल जनसंख्या में स्त्रियों का अनुपात (2) प्रति हजार जनसंख्या के पीछे स्त्रियों की गिनती (3) प्रति हजार मर्दों के पीछे स्त्रियों की गिनती (4) प्रति हजार स्त्रियों के पीछे मर्दों की गिनती</p>
68.	<p>The Census 2011 was the ____ National Census Survey conducted by the Census Organisation of India.</p> <p>(1) 7th (2) 15th (3) 10th (4) 11th</p> <p>2011 की जनगणना, भारतीय जनगणना संगठन का कौन सा राष्ट्रीय जनगणना सर्वेक्षण बनता था ?</p> <p>(1) सातवां (2) पंद्रहवां (3) दसवां (4) ग्यारहवां</p>

Question No.	Questions								
69.	<p>Demographic dividend means</p> <ol style="list-style-type: none"> (1) More of the males than the females (2) More of the elderly than children (3) More of the working age population than the dependent population (4) More of the adults than children <p>जनांकिकीय लाभांश का क्या अर्थ है ?</p> <ol style="list-style-type: none"> (1) मर्दों की संख्या औरतों से ज्यादा होना (2) बूढ़े लोगों की बच्चों से ज्यादा गिनती (3) कामकाजी लोगों की निर्भर लोगों से ज्यादा गिनती (4) बालिग लोगों का बच्चों से ज्यादा होना 								
70.	<p>The demographic dividend window of India will be closed on</p> <table style="width: 100%; border: none;"> <tr> <td style="width: 50%;">(1) 2022</td> <td style="width: 50%;">(2) 2050</td> </tr> <tr> <td>(3) 2055</td> <td>(4) 2030</td> </tr> </table> <p>भारत की जनांकिकीय लाभांश खिड़की कब बन्द होने की संभावना है ?</p> <table style="width: 100%; border: none;"> <tr> <td style="width: 50%;">(1) 2022</td> <td style="width: 50%;">(2) 2050</td> </tr> <tr> <td>(3) 2055</td> <td>(4) 2030</td> </tr> </table>	(1) 2022	(2) 2050	(3) 2055	(4) 2030	(1) 2022	(2) 2050	(3) 2055	(4) 2030
(1) 2022	(2) 2050								
(3) 2055	(4) 2030								
(1) 2022	(2) 2050								
(3) 2055	(4) 2030								
71.	<p>In India the Planning Commission used to define the poverty line, mainly on basis of</p> <ol style="list-style-type: none"> (1) Nutritional requirements (2) Per capita income (3) Monthly per capita consumption expenditure (4) Employment earnings <p>भारत का योजना आयोग गरीबी रेखा को मुख्यतः किस आधार पर परिभाषित करता था ?</p> <ol style="list-style-type: none"> (1) पोषक ज़रूरतों के आधार पर (2) प्रति व्यक्ति आमदनी के आधार पर (3) प्रति व्यक्ति माहवार उपभोग खर्च के आधार पर (4) रोज़गार से प्राप्त आमदनी के आधार पर 								

Question No.	Questions
72.	<p>When was MGNREGA launched in India ?</p> <p>(1) February, 2005 (2) February, 2006</p> <p>(3) February, 2004 (4) February, 2014</p> <p>भारत में मनरेगा कब शुरू किया गया था ?</p> <p>(1) फरवरी, 2005 (2) फरवरी, 2006</p> <p>(3) फरवरी, 2004 (4) फरवरी, 2014</p>
73.	<p>The unemployment rate refers to</p> <p>(1) Proportion of unemployed in total population</p> <p>(2) Proportion of unemployed in total work force</p> <p>(3) Proportion of unemployed in total labour force</p> <p>(4) Ratio of unemployed to employed</p> <p>बेरोजगारी की दर का अर्थ है</p> <p>(1) कुल जनसंख्या में बेराजगारों का अनुपात</p> <p>(2) कुल कार्यबल में बेराजगारों का अनुपात</p> <p>(3) कुल श्रमबल में बेरोजगारों का अनुपात</p> <p>(4) कुल बेराजगारों और रोजगार प्राप्त लोगों का अनुपात</p>
74.	<p>During the last many labour force surveys, which state has the largest unemployment rate among all the age groups ?</p> <p>(1) Nagaland (2) Kerala</p> <p>(3) West Bengal (4) Punjab</p> <p>पिछले कई श्रमबल सर्वेक्षणों में सभी आयु वर्गों में कौन से राज्य की बेराजगारी की दर सबसे ज्यादा है ?</p> <p>(1) नागालैंड (2) केरल</p> <p>(3) पश्चिम बंगाल (4) पंजाब</p>

Question No.	Questions
75.	<p>The nutrition based poverty line for rural areas refers to the calories consumption less than</p> <p>(1) 2400 calories (2) 2100 calories (3) 3500 calories (4) 1800 calories</p> <p>पोषक ज़रूरतों पर आधारित देहाती क्षेत्रों हेतु गरीबी रेखा कितनी कैलोरीज के उपभोग से नीचे आँकी जाती है ?</p> <p>(1) 2400 कैलोरीज (2) 2100 कैलोरीज (3) 3500 कैलोरीज (4) 1800 कैलोरीज</p>
76.	<p>Who is known as the father of Indian green revolution ?</p> <p>(1) Jawahar Lal Nehru (2) Swami Vivekanand (3) M.S. Swaminathan (4) N.E. Borlaug</p> <p>भारतीय हरित क्रांति का पितामह किसको माना जाता है ?</p> <p>(1) जवाहरलाल नेहरू (2) स्वामी विवेकानन्द (3) एम. एस. स्वामीनाथन (4) एन. ई. बोरलॉग</p>
77.	<p>Initially the green revolution was concentrated in the states</p> <p>(1) Punjab, Haryana and U.P. (2) Punjab, H.P. and U.P. (3) Punjab, Haryana and M.P. (4) Haryana, H.P. and U.P.</p> <p>शुरुआती दौर में हरित क्रांति कौन से राज्यों तक सीमित थी ?</p> <p>(1) पंजाब, हरियाणा और उत्तर प्रदेश (2) पंजाब, हिमाचल प्रदेश और उत्तर प्रदेश (3) पंजाब, हरियाणा और मध्य प्रदेश (4) हरियाणा, हिमाचल प्रदेश और उत्तर प्रदेश</p>

Question No.	Questions
78.	<p>Who introduced the Farmers (Empowerment and Protection) Agreement on Price Assurance and Farm Services Bill, 2020 and Farmers' Produce Trade and Commerce (Promotion and Facilitation) Bill, 2020 in the Indian Parliament ?</p> <p>(1) Narendra Modi (2) Narendra Tomar</p> <p>(3) Kailash Choudhary (4) Amit Shah</p> <p>भारतीय संसद में किसने कीमत आश्वासन और किसान सेवाओं का किसान (सशक्तिकरण और सुरक्षा) समझौता बिल, 2020 और किसानों की उपज के व्यापार तथा वाणिज्य (बढ़ावा और सहूलियत) बिल, 2020 पेश किए थे ?</p> <p>(1) नरेन्द्र मोदी (2) नरेन्द्र तोमर</p> <p>(3) कैलाश चौधरी (4) अमित शाह</p>
79.	<p>When agriculture was included in WTO agreements ?</p> <p>(1) 1995 (2) 2000</p> <p>(3) 2005 (4) 2010</p> <p>विश्व व्यापार संगठन के समझौते में खेती क्षेत्र को कब शामिल किया गया था ?</p> <p>(1) 1995 (2) 2000</p> <p>(3) 2005 (4) 2010</p>

Question No.	Questions
80.	<p>When NABARD came in to being ?</p> <p>(1) July, 1982 (2) January, 1982 (3) January, 1985 (4) February, 1985</p> <p>नाबार्ड कब अस्तित्त में आया ?</p> <p>(1) जुलाई, 1982 (2) जनवरी, 1982 (3) जनवरी, 1985 (4) फरवरी, 1985</p>
81.	<p>If January 1, 1996, was Monday, what day of the week was January 1, 1997?</p> <p>(1) Tuesday (2) Wednesday (3) Sunday (4) Friday</p> <p>अगर जनवरी 1, 1996 को सोमवार हो तो जनवरी 1, 1997 को कौन सा दिन होगा ?</p> <p>(1) मंगलवार (2) बुधवार (3) रविवार (4) शुक्रवार</p>
82.	<p>How many times, the hands of a clock coincide in a day ?</p> <p>(1) 11 (2) 12 (3) 22 (4) 24</p> <p>एक दिन में घड़ी की दोनों सुईयों कितनी बार आपस में टकराती हैं ?</p> <p>(1) 11 (2) 12 (3) 22 (4) 24</p>

Question No.	Questions
83.	<p>Including stoppages the speed of a bus is 60 km/hr and excluding stoppages its speed is 80 km/hr. For how long the bus stops in an hour ?</p> <p>(1) 20 min. (2) 15 min. (3) 10 min. (4) 12 min.</p> <p>अलग-अलग जगहों पर ठहराव का समय मिला कर किसी बस की गति 60 कि.मी./घण्टा और ठहराव का समय निकालने से 80 कि.मी./घण्टा बनती है। एक घण्टे में उस बस के ठहराव का औसत कितना होगा ?</p> <p>(1) 20 मिनट (2) 15 मिनट (3) 10 मिनट (4) 12 मिनट</p>
84.	<p>A man completes a journey in 5 hours. He completes the first half of the journey at a speed of 20 km/hr and the second half at a speed of 25 km/hr. What is the total journey in km ?</p> <p>(1) 5.4 Km (2) 6.4 Km (3) 2.7 Km (4) 3.2 Km</p> <p>एक आदमी एक सफर 5 घण्टों में पूरा करता है। वह उस सफर का पहला आधा हिस्सा 20 कि.मी./घण्टा के हिसाब से और दूसरा आधा हिस्सा 25 कि.मी./घण्टा की गति से पूरा करता है। उस आदमी का कि.मी. में कुल सफर कितना होगा ?</p> <p>(1) 5.4 कि.मी. (2) 6.4 कि.मी. (3) 2.7 कि.मी. (4) 3.2 कि.मी.</p>

Question No.	Questions
85.	<p>A brother is twice as old as her sister. If 10 years ago, the age of the brother was 6 times the age of the sister, what is the present age of the brother ?</p> <p>(1) 25 yrs (2) 20 yrs (3) 15 yrs (4) 14 yrs</p> <p>एक लड़के की उम्र अपनी बहन की उम्र की दो गुना है। अगर 10 साल पहले उसकी उम्र अपनी बहन की उम्र की छः गुना थी। उसकी वर्तमान उम्र क्या होगी ?</p> <p>(1) 25 साल (2) 20 साल (3) 15 साल (4) 14 साल</p>
86.	<p>Look at this series : 8, 43, 11, 41, __, 39, 17. What number should fill in the blank ?</p> <p>(1) 42 (2) 8 (3) 14 (4) 19</p> <p>इस अंक शृंखला में खाली स्थान भरें : 8, 43, 11, 41, __, 39, 17</p> <p>(1) 42 (2) 8 (3) 14 (4) 19</p>
87.	<p>In a bag, there are 8 red, 7 yellow and 6 green balls. If one ball is picked up at random, what is the probability that it is neither red nor green ?</p> <p>(1) $1/2$ (2) $1/8$ (3) $1/3$ (4) $1/7$</p> <p>एक थैले में 8 लाल, 7 पीली और 6 हरी गेंदें हैं। अगर बेतरतीब ढंग से एक गेंद उठाई जाए तो क्या सम्भावना है कि वो गेंद न लाल हो और न हरी ?</p> <p>(1) $1/2$ (2) $1/8$ (3) $1/3$ (4) $1/7$</p>

Question No.	Questions
88.	<p>If all drink mixes are beverages; all beverages are drinkable and some beverages are red, then which of the following is true ?</p> <p>(1) All beverages are drink mixes (2) All mixes are drinkable (3) All red mixes are drinkable (4) All of the above</p> <p>अगर सब पेय मिश्रण पेय पदार्थ हों, सारे पेय पदार्थ पीने योग्य हों और कुछ पेय पदार्थ लाल हों, तो निम्नलिखित में कौन सा कथन ठीक है ?</p> <p>(1) सारे पेय पदार्थ, पेय मिश्रण होते हैं (2) सारे पेय मिश्रण, पीने योग्य होते हैं (3) सारे लाल मिश्रण पीने योग्य होते हैं (4) उपरोक्त सभी</p>
89.	<p>A fort had provision of food for 150 men for 45 days. After 10 days, 25 men left the fort. The number of days for which the remaining food will last, is</p> <p>(1) 42 days (2) 54 days (3) 37.5 days (4) 47.25 days</p> <p>एक किले में 150 आदमियों के लिए 45 दिन का भोजन रखा है 10 दिन बाद अगर 25 आदमी किला छोड़ कर चले जाएँ तो बाकी बचे आदमियों के लिए बाकी भोजन कितने दिन चलेगा ?</p> <p>(1) 42 दिन (2) 54 दिन (3) 37.5 दिन (4) 47.25 दिन</p>

Question No.	Questions
90.	<p>Fill the series 2, 4, 12, 48, 240,</p> <p>(1) 480 (2) 720</p> <p>(3) 960 (4) 1440</p> <p>इस अंक श्रृंखला को पूरा करें 2, 4, 12, 48, 240,</p> <p>(1) 480 (2) 720</p> <p>(3) 960 (4) 1440</p>
91.	<p>A petal is to flower as</p> <p>(1) Tyre - bicycle (2) Puppy - dog</p> <p>(3) Salt - pepper (4) All of the above</p> <p>जैसे एक पंखुड़ी का सम्बंध फूल से है, वैसे</p> <p>(1) टायर का बाइसाईकल से (2) पिल्ले का कुत्ते से</p> <p>(3) नमक का काली मिर्च से (4) उपरोक्त सभी</p>
92.	<p>Pointing towards a girl, A man said, "She is the daughter of only son of my grandfather". How is that man related to the girl ?</p> <p>(1) Brother (2) Father</p> <p>(3) Uncle (4) Cousin</p> <p>एक लड़की की तरफ इशारा करते हुए आदमी ने कहा 'वो मेरे दादा के इकलौते बेटे की बेटी है'। वो आदमी उस लड़की का रिश्ते में क्या लगता है ?</p> <p>(1) भाई (2) पिता</p> <p>(3) चाचा (4) चचेरा भाई</p>

Question No.	Questions
93.	<p>On what sum will the difference between the simple and the compound interest for 3 years at 5 percent per annum amount to Rs. 24.40 ?</p> <p>(1) 2800 (2) 3200 (3) 3500 (4) 4200</p> <p>कौन सी राशि पर 3 वर्षों के लिए 5 प्रतिशत प्रति वर्ष की दर पर साधारण और मिश्रित ब्याज की दर का अन्तर 24.40 रुपये होगा ?</p> <p>(1) 2800 (2) 3200 (3) 3500 (4) 4200</p>
94.	<p>A grocer has a sale of Rs. 6435, Rs. 6927, Rs. 6855, Rs. 7230 and Rs. 6562 for 5 consecutive months. How much sale must he have in the sixth month so that he gets an average sale of Rs. 6500 ?</p> <p>(1) 4991 (2) 6503 (3) 5543 (4) 6235</p> <p>एक राशन विक्रेता पाँच महीने क्रमवार 6435 रुपए, 6927 रुपए, 6855 रुपए, 7230 रुपए और 6562 रुपए की बिक्री करता है। छठे महीने में उसकी बिक्री क्या होनी चाहिए ताकि उसकी औसत बिक्री 6500 रुपए हो जाए ?</p> <p>(1) 4991 (2) 6503 (3) 5543 (4) 6235</p>
95.	<p>In how many ways, the word 'Success' can be arranged</p> <p>(1) 4920 (2) 420 (3) 490 (4) 920</p> <p>अंग्रेजी के शब्द 'Success' को कितने विभिन्न तरीकों से व्यवस्थित किया जा सकता है ?</p> <p>(1) 4920 (2) 420 (3) 490 (4) 920</p>

Question No.	Questions
96.	<p>$[(3/8 \times 14/2) \div (2.5 - 0.8)]^2 = ?$</p> <p>(1) 2.4 (2) 1.54 (3) 2.25 (4) 2.78</p> <p>$[(3/8 \times 14/2) \div (2.5 - 0.8)]^2 = ?$</p> <p>(1) 2.4 (2) 1.54 (3) 2.25 (4) 2.78</p>
97.	<p>Pankaj is in the East of Ram and Ram is in the North of Jagat. Mani is in the South of Jagat then in which direction of Pankaj is Mani ?</p> <p>(1) South-East (2) South-West (3) South (4) North-East</p> <p>पंकज राम के पूर्व में खड़ा है और राम, जगत के उत्तर में। मनी जगत के दक्षिण में खड़ा है तो मनी पंकज की किस दिशा में खड़ा होगा ?</p> <p>(1) दक्षिण-पूर्व (2) दक्षिण-पश्चिम (3) दक्षिण (4) उत्तर-पूर्व</p>
98.	<p>If DELHI is written as WVOSR then GOA will be</p> <p>(1) HPB (2) IQC (3) TLZ (4) AGH</p> <p>अगर हम DELHI को WVOSR लिखें तो GOA को कैसे लिखा जाएगा ?</p> <p>(1) HPB (2) IQC (3) TLZ (4) AGH</p>

Question No.	Questions
99.	<p>A cube is coloured red on all faces. If it is divided in to 64 small equal sized cubes, then how many cubes will have three red faces</p> <p>(1) 0 (2) 4 (3) 6 (4) 8</p> <p>एक घन टुकड़ी के सारे पासे लाल रंग के हैं। अगर इसको 64 छोटे बराबर टुकड़ों में बाँट दिया जाये, तो कितने घन टुकड़ों के तीन पासे लाल होंगे ?</p> <p>(1) 0 (2) 4 (3) 6 (4) 8</p>
100.	<p>$\frac{\log \sqrt{7}}{\log 7} = ?$</p> <p>(1) 1/2 (2) 7 (3) 1/7 (4) 49</p> <p>$\frac{\log \sqrt{7}}{\log 7} = ?$</p> <p>(1) 1/2 (2) 7 (3) 1/7 (4) 49</p>

SET-X

(Total No. of printed pages : 42)

(DO NOT OPEN THIS QUESTION BOOKLET BEFORE TIME OR UNTIL YOU ARE ASKED TO DO SO)

(PG-EE-2022)

Code

B

ECONOMICS

Sr. No. 10002

Time : 1½ Hours

Total Questions : 100

Max. Marks : 100

Roll No. _____ (in figure) _____ (in words)

Name : _____ Father's Name : _____


Mother's Name : _____ Date of Examination : _____

(Signature of the candidate)

(Signature of the Invigilator)

CANDIDATES MUST READ THE FOLLOWING INFORMATION/ INSTRUCTIONS BEFORE STARTING THE QUESTION PAPER.

1. All questions are compulsory.
2. The candidates must return the Question book-let as well as OMR answer-sheet to the Invigilator concerned before leaving the Examination Hall failing which a case of use of unfair-means / mis-behaviour will be registered against him / her, in addition to lodging of an FIR with the police. Further answer-sheet of such a candidate will not be evaluated.
3. Keeping in view the transparency of the examination system, carbonless OMR Sheet is provided to the candidate so that a copy of OMR Sheet may be kept by the candidate.
4. Question Booklet along with answer key of all the A,B,C and D code will be uploaded on the university website after the conduct of Entrance Examination. In case there is any discrepancy in the Question Booklet/Answer Key, the same may be brought to the notice of the Controller of Examinations in writing within 24 hours of uploading the same on the University Website. Thereafter, no complaint in any case, will be considered.
5. The candidate MUST NOT do any rough work or writing in the OMR Answer-Sheet. Rough work, if any, may be done in the question book-let itself. Answers MUST NOT be ticked in the Question book-let.
6. There will be no negative marking. Each correct answer will be awarded one full mark. Cutting, erasing, overwriting and more than one answer in OMR Answer-Sheet will be treated as incorrect answer.
7. Use only Black or Blue **BALL POINT PEN** of good quality in the OMR Answer-Sheet.
8. BEFORE ANSWERING THE QUESTIONS, THE CANDIDATES SHOULD ENSURE THAT THEY HAVE BEEN SUPPLIED CORRECT AND COMPLETE BOOK-LET. COMPLAINTS, IF ANY, REGARDING MISPRINTING ETC. WILL NOT BE ENTERTAINED 30 MINUTES AFTER STARTING OF THE EXAMINATION.



Question No.	Questions
1.	<p>In India the Planning Commission used to define the poverty line, mainly on basis of</p> <p>(1) Nutritional requirements (2) Per capita income (3) Monthly per capita consumption expenditure (4) Employment earnings</p> <p>भारत का योजना आयोग गरीबी रेखा को मुख्यतः किस आधार पर परिभाषित करता था ?</p> <p>(1) पोषक ज़रूरतों के आधार पर (2) प्रति व्यक्ति आमदनी के आधार पर (3) प्रति व्यक्ति माहवार उपभोग खर्च के आधार पर (4) रोज़गार से प्राप्त आमदनी के आधार पर</p>
2.	<p>When was MGNREGA launched in India ?</p> <p>(1) February, 2005 (2) February, 2006 (3) February, 2004 (4) February, 2014</p> <p>भारत में मनरेगा कब शुरू किया गया था ?</p> <p>(1) फरवरी, 2005 (2) फरवरी, 2006 (3) फरवरी, 2004 (4) फरवरी, 2014</p>
3.	<p>The unemployment rate refers to</p> <p>(1) Proportion of unemployed in total population (2) Proportion of unemployed in total work force (3) Proportion of unemployed in total labour force (4) Ratio of unemployed to employed</p> <p>बेरोजगारी की दर का अर्थ है</p> <p>(1) कुल जनसंख्या में बेरोजगारों का अनुपात (2) कुल कार्यबल में बेरोजगारों का अनुपात (3) कुल श्रमबल में बेरोजगारों का अनुपात (4) कुल बेरोजगारों और रोज़गार प्राप्त लोगों का अनुपात</p>

Question No.	Questions
4.	<p>During the last many labour force surveys, which state has the largest unemployment rate among all the age groups ?</p> <p>(1) Nagaland (2) Kerala (3) West Bengal (4) Punjab</p> <p>पिछले कई श्रमबल सर्वेक्षणों में सभी आयु वर्गों में कौन से राज्य की बेराजगारी की दर सबसे ज्यादा है ?</p> <p>(1) नागालैंड (2) केरल (3) पश्चिम बंगाल (4) पंजाब</p>
5.	<p>The nutrition based poverty line for rural areas refers to the calories consumption less than</p> <p>(1) 2400 calories (2) 2100 calories (3) 3500 calories (4) 1800 calories</p> <p>पोषक जरूरतों पर आधारित देहाती क्षेत्रों हेतु गरीबी रेखा कितनी कैलोरीज के उपभोग से नीचे आंकी जाती है ?</p> <p>(1) 2400 कैलोरीज (2) 2100 कैलोरीज (3) 3500 कैलोरीज (4) 1800 कैलोरीज</p>
6.	<p>Who is known as the father of Indian green revolution ?</p> <p>(1) Jawahar Lal Nehru (2) Swami Vivekanand (3) M.S. Swaminathan (4) N.E. Borlaug</p> <p>भारतीय हरित क्रांति का पितामह किसको माना जाता है ?</p> <p>(1) जवाहरलाल नेहरू (2) स्वामी विवेकानन्द (3) एम. एस. स्वामीनाथन (4) एन. ई. बोरलॉग</p>

Question No.	Questions
7.	<p>Initially the green revolution was concentrated in the states</p> <p>(1) Punjab, Haryana and U.P. (2) Punjab, H.P. and U.P. (3) Punjab, Haryana and M.P. (4) Haryana, H.P. and U.P.</p> <p>शुरुआती दौर में हरित क्रांति कौन से राज्यों तक सीमित थी ?</p> <p>(1) पंजाब, हरियाणा और उत्तर प्रदेश (2) पंजाब, हिमाचल प्रदेश और उत्तर प्रदेश (3) पंजाब, हरियाणा और मध्य प्रदेश (4) हरियाणा, हिमाचल प्रदेश और उत्तर प्रदेश</p>
8.	<p>Who introduced the Farmers (Empowerment and Protection) Agreement on Price Assurance and Farm Services Bill, 2020 and Farmers' Produce Trade and Commerce (Promotion and Facilitation) Bill, 2020 in the Indian Parliament ?</p> <p>(1) Narendra Modi (2) Narendra Tomar (3) Kailash Choudhary (4) Amit Shah</p> <p>भारतीय संसद में किसने कीमत आश्वासन और किसान सेवाओं का किसान (सशक्तिकरण और सुरक्षा) समझौता बिल, 2020 और किसानों की उपज के व्यापार तथा वाणिज्य (बढ़ावा और सहूलियत) बिल, 2020 पेश किए थे ?</p> <p>(1) नरेन्द्र मोदी (2) नरेन्द्र तोमर (3) कैलाश चौधरी (4) अमित शाह</p>
9.	<p>When agriculture was included in WTO agreements ?</p> <p>(1) 1995 (2) 2000 (3) 2005 (4) 2010</p> <p>विश्व व्यापार संगठन के समझौते में खेती क्षेत्र को कब शामिल किया गया था ?</p> <p>(1) 1995 (2) 2000 (3) 2005 (4) 2010</p>

Question No.	Questions
10.	<p>When NABARD came in to being ?</p> <p>(1) July, 1982 (2) January, 1982 (3) January, 1985 (4) February, 1985</p> <p>नाबार्ड कब अस्तित्त में आया ?</p> <p>(1) जुलाई, 1982 (2) जनवरी, 1982 (3) जनवरी, 1985 (4) फरवरी, 1985</p>
11.	<p>When a market failure occurs due to the reason that the user of the public resources do not pay for them, its called</p> <p>(1) The problem of market structures (2) The problem of fiscal deficit (3) The free rider problem (4) The hijacker problem</p> <p>जब मण्डी इस लिए विफल होती है क्योंकि किसी सार्वजनिक साधन को इस्तेमाल करने वाले के द्वारा उसका मूल्य अदा नहीं किया जाता, तो इसे क्या कहा जाता है</p> <p>(1) मण्डी के ढाँचे की समस्या (2) राजकोषीय घाटे की समस्या (3) मुफ्तखोरी की समस्या (4) लूट-पाट की समस्या</p>
12.	<p>A resource is called a renewable resource if</p> <p>(1) It can be replenished (2) It can not be reused (3) It has become outdated (4) It is no longer in use in the economy</p> <p>किसी भी संसाधन को नवीकरणीय संसाधन कहा जा सकता है अगर</p> <p>(1) उसको पुनर्जीवित किया जा सके (2) उसको दोबारा इस्तेमाल न किया जा सके (3) वो साधन पुराना पड़ चुका हो (4) उस साधन की अर्थव्यवस्था में कोई ज़रूरत न रही हो</p>

Question No.	Questions								
13.	<p>Sustainable development refers to</p> <ol style="list-style-type: none"> (1) A constant rate of growth, for present generation (2) A growth without government assistance for present generation at the cost of future generation (3) Higher growth for future generation at the sacrifice of needs of the present generation (4) A growth in present times without sacrificing the needs of the future generation <p>सतत विकास का अर्थ है</p> <ol style="list-style-type: none"> (1) वर्तमान पीढ़ी के लिए एक स्थिर विकास की दर (2) भविष्य की पीढ़ी की लागत पर, बिना सरकार की सहायता के प्राप्त की गई वर्तमान पीढ़ी की आर्थिक विकास दर (3) वर्तमान पीढ़ी की ज़रूरतों के त्याग से हासिल की जाने वाली भविष्य की पीढ़ी के लिए बेहतर आर्थिक विकास दर (4) भविष्य की पीढ़ी की ज़रूरतों के त्याग के बिना हासिल की गई वर्तमान समय की आर्थिक विकास दर 								
14.	<p>The UN conference on sustainable development is also known as</p> <table style="width: 100%; border: none;"> <tr> <td style="width: 50%;">(1) Rio 2000</td> <td style="width: 50%;">(2) Rio 2010</td> </tr> <tr> <td>(3) Rio 2012</td> <td>(4) Rio 2015</td> </tr> </table> <p>सतत विकास की संयुक्त राष्ट्र संघ की कॉन्फ्रेंस को और किस नाम से जाना जाता है ?</p> <table style="width: 100%; border: none;"> <tr> <td style="width: 50%;">(1) रियो 2000</td> <td style="width: 50%;">(2) रियो 2010</td> </tr> <tr> <td>(3) रियो 2012</td> <td>(4) रियो 2015</td> </tr> </table>	(1) Rio 2000	(2) Rio 2010	(3) Rio 2012	(4) Rio 2015	(1) रियो 2000	(2) रियो 2010	(3) रियो 2012	(4) रियो 2015
(1) Rio 2000	(2) Rio 2010								
(3) Rio 2012	(4) Rio 2015								
(1) रियो 2000	(2) रियो 2010								
(3) रियो 2012	(4) रियो 2015								

Question No.	Questions
15.	<p>The Brundtland Commission Report referred to</p> <p>(1) Industrial development (2) Agricultural development</p> <p>(3) Sustainable development (4) Trade and development</p> <p>ब्रन्टलैंड कमिशन की रिपोर्ट किस से सम्बन्धित है ?</p> <p>(1) औद्योगिक विकास से (2) खेती के विकास से</p> <p>(3) सतत विकास से (4) व्यापार और विकास से</p>
16.	<p>When national income accounts incorporate the environment cost and natural resources, it is termed as</p> <p>(1) Social accounting (2) Grey accounting</p> <p>(3) Sustainable accounting (4) Green accounting</p> <p>जब राष्ट्रीय आमदनी लेखे में पर्यावरण की लागत और कुदरती संसाधनों को शामिल किया जाता है, तो इसे क्या कहा जाता है ?</p> <p>(1) समाजिक लेखांकन (2) स्लेटी लेखांकन</p> <p>(3) सतत लेखांकन (4) हरित लेखांकन</p>
17.	<p>The environment-Kuznet curve is</p> <p>(1) U-shaped (2) Upward sloping</p> <p>(3) Downward sloping (4) Inverted U-shaped</p> <p>कुज़नेट के पर्यावरण वक्र का आकार क्या होता है ?</p> <p>(1) अंग्रेजी भाषा के यू जैसा (2) ऊपर की तरफ बढ़ता हुआ</p> <p>(3) नीचे की तरफ गिरता हुआ (4) अंग्रेजी भाषा के यू का उलट</p>

Question No.	Questions
18.	<p>The recognition of the close link between an organisation's decisions and their impact on the natural environment is called</p> <p>(1) Global environment (2) Greening of management (3) Social responsibility (4) None of the above</p> <p>किसी संगठन के फैसले से पर्यावरण पर होने वाले प्रभाव के निकट सम्बन्ध की पहचान करने की प्रक्रिया को क्या नाम दिया जाता है ?</p> <p>(1) वैश्विक पर्यावरण (2) प्रबन्धन का हरितन (कायाकल्प) (3) समाजिक जिम्मेदारी (4) उपरोक्त में से कोई भी नहीं</p>
19.	<p>Which of the following phenomenon is associated with global warming</p> <p>(1) Southern oscillations (2) El Nino (3) La Nina (4) El Nino Modoki</p> <p>निम्नलिखित में से कौन सी घटना वैश्विक तापन से सम्बन्धित है ?</p> <p>(1) दक्षिण के उतार-चढ़ाव (2) एल नीनो (3) ला नीना (4) एल नीनो मोदोकी</p>
20.	<p>When did the Forest Conservation Act came in to force in India</p> <p>(1) 25 October, 1986 (2) 25 October, 1980 (3) 25 October, 1972 (4) 25 October, 1990</p> <p>भारत में वन संरक्षण अधिनियम कब लागू हुआ ?</p> <p>(1) 25 अक्तूबर, 1986 (2) 25 अक्तूबर, 1980 (3) 25 अक्तूबर, 1972 (4) 25 अक्तूबर, 1990</p>

Question No.	Questions
21.	<p>If January 1, 1996, was Monday, what day of the week was January 1, 1997?</p> <p>(1) Tuesday (2) Wednesday (3) Sunday (4) Friday</p> <p>अगर जनवरी 1, 1996 को सोमवार हो तो जनवरी 1, 1997 को कौन सा दिन होगा ?</p> <p>(1) मंगलवार (2) बुधवार (3) रविवार (4) शुक्रवार</p>
22.	<p>How many times, the hands of a clock coincide in a day ?</p> <p>(1) 11 (2) 12 (3) 22 (4) 24</p> <p>एक दिन में घड़ी की दोनों सुईयों कितनी बार आपस में टकराती हैं ?</p> <p>(1) 11 (2) 12 (3) 22 (4) 24</p>
23.	<p>Including stoppages the speed of a bus is 60 km/hr and excluding stoppages its speed is 80 km/hr. For how long the bus stops in an hour ?</p> <p>(1) 20 min. (2) 15 min. (3) 10 min. (4) 12 min.</p> <p>अलग-अलग जगहों पर ठहराव का समय मिला कर किसी बस की गति 60 कि.मी./घण्टा और ठहराव का समय निकालने से 80 कि.मी./घण्टा बनती है। एक घण्टे में उस बस के ठहराव का औसत कितना होगा ?</p> <p>(1) 20 मिनट (2) 15 मिनट (3) 10 मिनट (4) 12 मिनट</p>

Question No.	Questions
24.	<p>A man completes a journey in 5 hours. He completes the first half of the journey at a speed of 20 km/hr and the second half at a speed of 25 km/hr. What is the total journey in km ?</p> <p>(1) 5.4 Km (2) 6.4 Km (3) 2.7 Km (4) 3.2 Km</p> <p>एक आदमी एक सफर 5 घण्टों में पूरा करता है। वह उस सफर का पहला आधा हिस्सा 20 कि.मी./घण्टा के हिसाब से और दूसरा आधा हिस्सा 25 कि.मी./घण्टा की गति से पूरा करता है। उस आदमी का कि.मी. में कुल सफर कितना होगा ?</p> <p>(1) 5.4 कि.मी. (2) 6.4 कि.मी. (3) 2.7 कि.मी. (4) 3.2 कि.मी.</p>
25.	<p>A brother is twice as old as her sister. If 10 years ago, the age of the brother was 6 times the age of the sister, what is the present age of the brother ?</p> <p>(1) 25 yrs (2) 20 yrs (3) 15 yrs (4) 14 yrs</p> <p>एक लड़के की उम्र अपनी बहन की उम्र की दो गुना है। अगर 10 साल पहले उसकी उम्र अपनी बहन की उम्र की छः गुना थी। उसकी वर्तमान उम्र क्या होगी ?</p> <p>(1) 25 साल (2) 20 साल (3) 15 साल (4) 14 साल</p>

Question No.	Questions
26.	<p>Look at this series : 8, 43, 11, 41, __, 39, 17. What number should fill in the blank ?</p> <p>(1) 42 (2) 8 (3) 14 (4) 19</p> <p>इस अंक श्रृंखला में खाली स्थान भरें : 8, 43, 11, 41, __, 39, 17</p> <p>(1) 42 (2) 8 (3) 14 (4) 19</p>
27.	<p>In a bag, there are 8 red, 7 yellow and 6 green balls. If one ball is picked up at random, what is the probability that it is neither red nor green ?</p> <p>(1) $1/2$ (2) $1/8$ (3) $1/3$ (4) $1/7$</p> <p>एक थैले में 8 लाल, 7 पीली और 6 हरी गेंदें हैं। अगर बेतरतीब ढंग से एक गेंद उठाई जाए तो क्या सम्भावना है कि वो गेंद न लाल हो और न हरी ?</p> <p>(1) $1/2$ (2) $1/8$ (3) $1/3$ (4) $1/7$</p>
28.	<p>If all drink mixes are beverages; all beverages are drinkable and some beverages are red, then which of the following is true ?</p> <p>(1) All beverages are drink mixes (2) All mixes are drinkable (3) All red mixes are drinkable (4) All of the above</p> <p>अगर सब पेय मिश्रण पेय पदार्थ हों, सारे पेय पदार्थ पीने योग्य हों और कुछ पेय पदार्थ लाल हों, तो निम्नलिखित में कौन सा कथन ठीक है ?</p> <p>(1) सारे पेय पदार्थ, पेय मिश्रण होते हैं (2) सारे पेय मिश्रण, पीने योग्य होते हैं (3) सारे लाल मिश्रण पीने योग्य होते हैं (4) उपरोक्त सभी</p>

Question No.	Questions
29.	<p>A fort had provision of food for 150 men for 45 days. After 10 days, 25 men left the fort. The number of days for which the remaining food will last, is</p> <p>(1) 42 days (2) 54 days (3) 37.5 days (4) 47.25 days</p> <p>एक किले में 150 आदमियों के लिए 45 दिन का भोजन रखा है 10 दिन बाद अगर 25 आदमी किला छोड़ कर चले जाएँ तो बाकी बचे आदमियों के लिए बाकी भोजन कितने दिन चलेगा ?</p> <p>(1) 42 दिन (2) 54 दिन (3) 37.5 दिन (4) 47.25 दिन</p>
30.	<p>Fill the series 2, 4, 12, 48, 240,</p> <p>(1) 480 (2) 720 (3) 960 (4) 1440</p> <p>इस अंक श्रृंखला को पूरा करें 2, 4, 12, 48, 240,</p> <p>(1) 480 (2) 720 (3) 960 (4) 1440</p>
31.	<p>Which of the following is true</p> <p>(1) Total revenue is maximum when average revenue is maximum (2) Total revenue is maximum when marginal revenue is maximum (3) Total revenue is maximum when average revenue is minimum (4) Total revenue is maximum when marginal revenue is zero</p> <p>नीचे दिए कथनों में से कौन-सा कथन सही है ?</p> <p>(1) कुल आमदनी तभी अधिकतम होती है जब औसत आमदनी अधिकतम हो (2) कुल आमदनी तभी अधिकतम होती है जब सीमांत आमदनी अधिकतम हो (3) कुल आमदनी तभी अधिकतम होती है जब औसत आमदनी न्यूनतम हो (4) कुल आमदनी तभी अधिकतम होती है जब सीमांत आमदनी सिफर हो</p>

Question No.	Questions
32.	<p>At the break-even point :</p> <ol style="list-style-type: none"> (1) The firm is incurring losses but average revenue is greater than the average variable cost (2) The firm is incurring losses but average revenue is just equal to the the average variable cost (3) The firm is incurring losses but average revenue is lower than the average variable cost (4) The firm is getting just equal to its total cost <p>ब्रेक-ईवन बिन्दु पर</p> <ol style="list-style-type: none"> (1) फर्म नुकसान झेल रही होती है पर उसकी औसत आमदन औसत परिवर्तनशील लागत से अधिक होती है (2) फर्म नुकसान झेल रही होती है पर उसकी औसत आमदन औसत परिवर्तनशील लागत के बराबर होती है (3) फर्म नुकसान झेल रही होती है पर उसकी औसत आमदन औसत परिवर्तनशील लागत से कम होती है (4) फर्म को बस कुल लागत के बराबर ही आमदन प्राप्त हो रही होती है
33.	<p>Which of the following is not a feature of perfect competition ?</p> <ol style="list-style-type: none"> (1) Perfect knowledge (2) Perfect mobility (3) Infinite number of buyers (4) Selling cost <p>निम्नलिखित में से कौन-सा पूर्ण मुकाबले का लक्षण नहीं माना जाता ?</p> <ol style="list-style-type: none"> (1) पूर्ण ज्ञान (2) पूर्ण गतिशीलता (3) खरीदारों की अनन्त संख्या (4) बिक्री लागत

Question No.	Questions
34.	<p>Which of the following is not true under perfect competition ?</p> <p>(1) The firm is price taker (2) Industry is price maker (3) The firm can bear losses in the short term (4) The firm always enjoy supernormal profits in the long run</p> <p>निम्नलिखित में से कौन-सा कथन पूर्ण मुकाबले के अन्तर्गत सही नहीं है ?</p> <p>(1) फर्म कीमत निर्धारण नहीं कर सकती (2) उद्योग कीमत निर्धारण करता है (3) फर्म को थोड़े समय में हानियां सहनी पड़ सकती हैं (4) लम्बे समय में फर्म को हमेशा आसाधारण लाभ होते हैं</p>
35.	<p>Under the price discrimination of the first degree</p> <p>(1) Whole of the consumer surplus is taken by the monopolist (2) Only the marginal units of each group have zero consumer surplus (3) The market is divided on basis of elasticity of demand (4) All of the above</p> <p>पहले दर्जे के कीमत विभेद के अंतर्गत</p> <p>(1) एकाधिकारी उपभोगी का पूर्ण अधिशेष हड़प लेता है (2) किसी भी जनसंख्या समूह की केवल सीमांत इकाइयों का उपभोक्ता अधिशेष होता है (3) पूरी मण्डी को माँग की लोच के आधार पर विभिन्न वर्गों में बाँटा जाता है (4) उपरोक्त सभी</p>

Question No.	Questions
38.	<p>A kink in demand curve under oligopoly shows that</p> <ol style="list-style-type: none">(1) Demand is more elastic for a rise in price(2) Demand is less elastic for a fall in price(3) Both (1) and (2)(4) Neither (1) nor (2) <p>अल्पाधिकार में गाँठदार (किंकी) मांग वक्र क्या दर्शाता है ?</p> <ol style="list-style-type: none">(1) कीमत के बढ़ने से मांग की लचक बढ़ती है(2) कीमत के घटने से मांग की लचक घटती है(3) (1) तथा (2) दोनों(4) न तो (1) न ही (2)
39.	<p>Asymmetric information refers to a situation when</p> <ol style="list-style-type: none">(1) Nobody has the perfect information(2) Everybody has the perfect information(3) One party has the greater information than the other(4) No information at all <p>असममित सूचना का एक ऐसी स्थिति को दर्शाती है जब</p> <ol style="list-style-type: none">(1) किसी को भी पूर्ण ज्ञान न हो(2) सब को पूर्ण ज्ञान हो(3) एक पक्ष को दूसरे से ज्यादा ज्ञान हो(4) कोई भी सूचना उपलब्ध न हो

Question No.	Questions
40.	<p>The innovation theory of profit was given by</p> <p>(1) Hall and Hitch (2) Marshall</p> <p>(3) Cournot (4) Schumpeter</p> <p>लाभ का नवाचार सिद्धान्त किस ने दिया था ?</p> <p>(1) हॉल और हिच ने (2) मार्शल ने</p> <p>(3) कॉर्नो ने (4) शुम्पीटर ने</p>
41.	<p>A petal is to flower as</p> <p>(1) Tyre - bicycle (2) Puppy - dog</p> <p>(3) Salt - pepper (4) All of the above</p> <p>जैसे एक पंखुड़ी का सम्बंध फूल से है, वैसे</p> <p>(1) टायर का बाइसाईकल से (2) पिल्ले का कुत्ते से</p> <p>(3) नमक का काली मिर्च से (4) उपरोक्त सभी</p>
42.	<p>Pointing towards a girl, A man said, "She is the daughter of only son of my grandfather". How is that man related to the girl ?</p> <p>(1) Brother (2) Father</p> <p>(3) Uncle (4) Cousin</p> <p>एक लड़की की तरफ इशारा करते हुए आदमी ने कहा 'वो मेरे दादा के इकलौते बेटे की बेटी है'। वो आदमी उस लड़की का रिश्ते में क्या लगता है ?</p> <p>(1) भाई (2) पिता</p> <p>(3) चाचा (4) चचेरा भाई</p>

Question No.	Questions
43.	<p>On what sum will the difference between the simple and the compound interest for 3 years at 5 percent per annum amount to Rs. 24.40 ?</p> <p>(1) 2800 (2) 3200 (3) 3500 (4) 4200</p> <p>कौन सी राशि पर 3 वर्षों के लिए 5 प्रतिशत प्रति वर्ष की दर पर साधारण और मिश्रित ब्याज की दर का अन्तर 24.40 रुपये होगा ?</p> <p>(1) 2800 (2) 3200 (3) 3500 (4) 4200</p>
44.	<p>A grocer has a sale of Rs. 6435, Rs. 6927, Rs. 6855, Rs. 7230 and Rs. 6562 for 5 consecutive months. How much sale must he have in the sixth month so that he gets an average sale of Rs. 6500 ?</p> <p>(1) 4991 (2) 6503 (3) 5543 (4) 6235</p> <p>एक राशन विक्रेता पाँच महीने क्रमवार 6435 रुपए, 6927 रुपए, 6855 रुपए, 7230 रुपए और 6562 रुपए की बिक्री करता है। छठे महीने में उसकी बिक्री क्या होनी चाहिए ताकि उसकी औसत बिक्री 6500 रुपए हो जाए ?</p> <p>(1) 4991 (2) 6503 (3) 5543 (4) 6235</p>
45.	<p>In how many ways, the word 'Success' can be arranged</p> <p>(1) 4920 (2) 420 (3) 490 (4) 920</p> <p>अंग्रेजी के शब्द 'Success' को कितने विभिन्न तरीकों से व्यवस्थित किया जा सकता है ?</p> <p>(1) 4920 (2) 420 (3) 490 (4) 920</p>

Question No.	Questions
46.	<p>$[(3/8 \times 14/2) \div (2.5 - 0.8)]^2 = ?$</p> <p>(1) 2.4 (2) 1.54 (3) 2.25 (4) 2.78</p> <p>$[(3/8 \times 14/2) \div (2.5 - 0.8)]^2 = ?$</p> <p>(1) 2.4 (2) 1.54 (3) 2.25 (4) 2.78</p>
47.	<p>Pankaj is in the East of Ram and Ram is in the North of Jagat. Mani is in the South of Jagat then in which direction of Pankaj is Mani ?</p> <p>(1) South-East (2) South-West (3) South (4) North-East</p> <p>पंकज राम के पूर्व में खड़ा है और राम, जगत के उत्तर में। मनी जगत के दक्षिण में खड़ा है तो मनी पंकज की किस दिशा में खड़ा होगा ?</p> <p>(1) दक्षिण-पूर्व (2) दक्षिण-पश्चिम (3) दक्षिण (4) उत्तर-पूर्व</p>
48.	<p>If DELHI is written as WVOSR then GOA will be</p> <p>(1) HPB (2) IQC (3) TLZ (4) AGH</p> <p>अगर हम DELHI को WVOSR लिखें तो GOA को कैसे लिखा जाएगा ?</p> <p>(1) HPB (2) IQC (3) TLZ (4) AGH</p>

Question No.	Questions
49.	<p>A cube is coloured red on all faces. If it is divided in to 64 small equal sized cubes, then how many cubes will have three red faces</p> <p>(1) 0 (2) 4 (3) 6 (4) 8</p> <p>एक घन टुकड़ी के सारे पासे लाल रंग के हैं। अगर इसको 64 छोटे बराबर टुकड़ों में बाँट दिया जाये, तो कितने घन टुकड़ों के तीन पासे लाल होंगे ?</p> <p>(1) 0 (2) 4 (3) 6 (4) 8</p>
50.	<p>$\frac{\log \sqrt{7}}{\log 7} = ?$</p> <p>(1) 1/2 (2) 7 (3) 1/7 (4) 49</p> <p>$\frac{\log \sqrt{7}}{\log 7} = ?$</p> <p>(1) 1/2 (2) 7 (3) 1/7 (4) 49</p>

Question No.	Questions
51.	<p>Which plan is known as Mahalanobis plan</p> <p>(1) First plan (2) Second plan</p> <p>(3) Fourth plan (4) Eighth plan</p> <p>किस योजना को महालनोबिस योजना का भी नाम दिया जाता है ?</p> <p>(1) पहली योजना (2) दूसरी योजना</p> <p>(3) चौथी योजना (4) आठवीं योजना</p>
52.	<p>The initiation of 'Blue Revolution' is related with</p> <p>(1) Third plan (2) Fifth plan</p> <p>(3) Seventh plan (4) Ninth plan</p> <p>नीली क्रांति की शुरुआत किस योजना से सम्बन्धित है ?</p> <p>(1) तीसरी योजना (2) पांचवीं योजना</p> <p>(3) सातवीं योजना (4) नौवीं योजना</p>
53.	<p>Which period is termed as the 'Plan Holiday' ?</p> <p>(1) 1947-50 (2) 1966-69</p> <p>(3) 1990-92 (4) 2017 onwards</p> <p>किस काल को 'योजना छुट्टी' का काल माना जाता है ?</p> <p>(1) 1947-50 (2) 1966-69</p> <p>(3) 1990-92 (4) 2017 के बाद का समय</p>

Question No.	Questions
54.	<p>When did Niti Aayog came in to force ?</p> <p>(1) 2010 (2) 2015</p> <p>(3) 2017 (4) 2014</p> <p>नीति आयोग ने कब से काम करना शुरू किया ?</p> <p>(1) 2010 (2) 2015</p> <p>(3) 2017 (4) 2014</p>
55.	<p>Which plan was launched with the slogan of 'Garibi Hatao'</p> <p>(1) Third plan (2) Fifth plan</p> <p>(3) Seventh plan (4) Ninth plan</p> <p>कौन सी योजना 'गरीबी हटाओ' के नारे के साथ शुरू की गई थी ?</p> <p>(1) तीसरी योजना (2) पांचवीं योजना</p> <p>(3) सातवीं योजना (4) नौवीं योजना</p>
56.	<p>Which of the following had the highest population density in Census, 2011</p> <p>(1) Delhi (2) Maharashtra</p> <p>(3) West Bengal (4) Uttar Pradesh</p> <p>2011 की जनगणना में किस राज्य की जनसंख्या घनता सबसे ज्यादा थी ?</p> <p>(1) दिल्ली (2) महाराष्ट्र</p> <p>(3) पश्चिम बंगाल (4) उत्तर प्रदेश</p>

Question No.	Questions
57.	<p>Sex ratio refers to</p> <p>(1) Proportion of females in total population</p> <p>(2) Number of females per thousand of population</p> <p>(3) Number of females per thousand of males</p> <p>(4) Number of males per thousand of females</p> <p>लिंगक अनुपात का अर्थ है</p> <p>(1) कुल जनसंख्या में स्त्रियों का अनुपात</p> <p>(2) प्रति हजार जनसंख्या के पीछे स्त्रियों की गिनती</p> <p>(3) प्रति हजार मर्दों के पीछे स्त्रियों की गिनती</p> <p>(4) प्रति हजार स्त्रियों के पीछे मर्दों की गिनती</p>
58.	<p>The Census 2011 was the ____ National Census Survey conducted by the Census Organisation of India.</p> <p>(1) 7th (2) 15th</p> <p>(3) 10th (4) 11th</p> <p>2011 की जनगणना, भारतीय जनगणना संगठन का कौन सा राष्ट्रीय जनगणना सर्वेक्षण बनता था ?</p> <p>(1) सातवां (2) पंद्रहवां</p> <p>(3) दसवां (4) ग्यारहवां</p>

Question No.	Questions
59.	<p>Demographic dividend means</p> <p>(1) More of the males than the females (2) More of the elderly than children (3) More of the working age population than the dependent population (4) More of the adults than children</p> <p>जनांकिकीय लाभांश का क्या अर्थ है ?</p> <p>(1) मर्दों की संख्या औरतों से ज्यादा होना (2) बूढ़े लोगों की बच्चों से ज्यादा गिनती (3) कामकाजी लोगों की निर्भर लोगों से ज्यादा गिनती (4) बालिग लोगों का बच्चों से ज्यादा होना</p>
60.	<p>The demographic dividend window of India will be closed on</p> <p>(1) 2022 (2) 2050 (3) 2055 (4) 2030</p> <p>भारत की जनांकिकीय लाभांश खिड़की कब बन्द होने की संभावना है ?</p> <p>(1) 2022 (2) 2050 (3) 2055 (4) 2030</p>
61.	<p>Positive net exports lead to</p> <p>(1) A rightward shift in aggregate supply (2) A leftward shift in aggregate supply (3) A rightward shift in aggregate demand (4) A leftward shift in aggregate demand</p> <p>निवल निर्यात में धनात्मक तबदीली से</p> <p>(1) कुल पूर्ति दाईं तरफ खिसक जाती है (2) कुल पूर्ति बाईं तरफ खिसक जाती है (3) कुल मांग दाईं तरफ खिसक जाती है (4) कुल मांग बाईं तरफ खिसक जाती है</p>

Question No.	Questions
62.	<p>If the total receipts are less than the total expenditure of the government, the deficit is called</p> <p>(1) Fiscal deficit (2) Budget deficit (3) Revenue deficit (4) Income deficit</p> <p>अगर सरकारी आमदनी की प्राप्तियां सरकारी खर्च से कम हो तो घाटे को क्या कहा जाता है ?</p> <p>(1) राजकोषीय घाटा (2) बजट घाटा (3) राजस्व घाटा (4) आमदनी घाटा</p>
63.	<p>The value of multiplier can be found by :</p> <p>(1) Change in investment/change in income (2) $1/(1 - MPC)$ (3) $1/MPC$ (4) $1/(1 - MPS)$</p> <p>गुणक को नीचे दिए किस सूत्र से मापा जा सकता है ?</p> <p>(1) निवेश में तबदीली/आमदनी में तबदीली (2) $1/(1 - उपभोग की सीमांत प्रवृत्ति)$ (3) $1/(उपभोग की सीमांत प्रवृत्ति)$ (4) $1/(1 - बचत की सीमांत प्रवृत्ति)$</p>

Question No.	Questions				
64.	<p>In the short period the aggregate supply curve</p> <ol style="list-style-type: none">(1) Can be shifted to the rightward direction with help of the fixed factors only(2) Can be shifted to the rightward direction with help of the variable factors only(3) Can be shifted to the rightward direction with help of both the fixed and the variable factors(4) Can not be shifted at all <p>थोड़े समय में पूर्ति वक्र को</p> <ol style="list-style-type: none">(1) सिर्फ स्थिर साधन को बढ़ा कर दाईं ओर खिसकाया जा सकता है(2) सिर्फ परिवर्तनशील साधन को बढ़ा कर दाईं तरफ खिसकाया जा सकता है(3) स्थिर और परिवर्तनशील दोनों साधनों को बढ़ा कर दाईं तरफ खिसकाया जा सकता है(4) बिलकुल ही नहीं खिसकाया जा सकता				
65.	<p>The intersection of aggregate supply and aggregate demand shows</p> <ol style="list-style-type: none">(1) Full employment(2) Equilibrium of the market(3) Equilibrium of a firm(4) Effective demand <p>कुल मांग और कुल पूर्ति का प्रतिच्छेद क्या दर्शाता है ?</p> <table border="0"><tr><td>(1) पूर्ण रोज़गार</td><td>(2) मण्डी का सन्तुलन</td></tr><tr><td>(3) किसी फर्म का सन्तुलन</td><td>(4) प्रभावी मांग</td></tr></table>	(1) पूर्ण रोज़गार	(2) मण्डी का सन्तुलन	(3) किसी फर्म का सन्तुलन	(4) प्रभावी मांग
(1) पूर्ण रोज़गार	(2) मण्डी का सन्तुलन				
(3) किसी फर्म का सन्तुलन	(4) प्रभावी मांग				

Question No.	Questions
66.	<p>In the theory of liquidity preference, the passive balances refer to</p> <ol style="list-style-type: none">(1) Speculative demand for money(2) Transaction demand for money(3) Precautionary demand for money(4) Both (2) and (3) <p>तरलता तरजीह सिद्धान्त में अक्रियाशील बकाए दर्शाते हैं ?</p> <ol style="list-style-type: none">(1) मुद्रा के लिए परिकल्पनी मांग को(2) लेनदेन के उद्देश्य के लिए मुद्रा की मांग को(3) एहतियाती उद्देश्य के लिए मुद्रा की मांग को(4) (2) और (3) दानों
67.	<p>Samuelson's business cycles are based on</p> <ol style="list-style-type: none">(1) The interaction of multiplier and accelerator(2) Interaction of demand and supply(3) Elasticity of demand and supply(4) Interaction of government expenditure and revenue <p>सैम्यूलसन के व्यापार चक्र किस आधार पर दर्शाए जाते हैं ?</p> <ol style="list-style-type: none">(1) गुणक और त्वरक की अंतःक्रिया से(2) मांग और पूर्ति की अंतःक्रिया से(3) मांग और पूर्ति की लचक के हिसाब से(4) राजस्व और सरकारी खर्च की अंतःक्रिया से

Question No.	Questions
68.	<p>The dirty floating refers to</p> <ol style="list-style-type: none">(1) Depreciation or appreciation of currency(2) Devaluation or revaluation of currency(3) Illegal exchange of currency(4) None of the above <p>मैली परिवर्तनशीलता का अर्थ है</p> <ol style="list-style-type: none">(1) करन्सी के मूल्य का हास या सुधार हो जाना(2) करन्सी के मूल्य में गिरावट या बढ़ोत्तरी करना(3) करन्सी का गैरकानूनी तरीके से विनिमय करना(4) उपरोक्त में से कोई भी नहीं
69.	<p>The theory of comparative advantage is originally named after</p> <ol style="list-style-type: none">(1) J.S. Mill(2) Bo Sodersten(3) Heckscher and Ohlin(4) Edgeworth <p>तुलनात्मक लाभ का सिद्धान्त मूलतः किसके नाम से जाना जाता है ?</p> <ol style="list-style-type: none">(1) जे. एस. मिल(2) बो सोदरस्टेन(3) हेक्शर और ओह्लिन(4) एज्वर्थ
70.	<p>The incidence of an indirect tax falls on</p> <ol style="list-style-type: none">(1) Producer(2) Consumer(3) Wholesaler(4) Retailer <p>अप्रत्यक्ष कर का भार किस पर पड़ता है ?</p> <ol style="list-style-type: none">(1) उत्पादक पर(2) उपभोगी पर(3) थोक विक्रेता पर(4) परचून विक्रेता पर

Question No.	Questions
71.	<p>Which of the following is not a component of vicious cycle from demand side</p> <p>(1) Income (2) Savings (3) Investment (4) Employment</p> <p>निम्नलिखित में से कौन-सी चर मांग पक्ष के कुचक्र का हिस्सा नहीं होती ?</p> <p>(1) आमदनी (2) बचत (3) निवेश (4) रोज़गार</p>
72.	<p>According to most of the theories, fall in share of employment in agriculture indicates</p> <p>(1) Crisis in agriculture (2) Structural shifts related to development of the economy (3) Mass unemployment (4) Mass rural poverty</p> <p>विकास के बहुतेरे सिद्धान्तों के अनुसार खेती क्षेत्र में रोज़गार का हिस्सा गिरने का अर्थ है</p> <p>(1) खेती में संकट का होना (2) अर्थव्यवस्था के विकास से सम्बन्धित ढांचागत तबदीली का होना (3) व्यापक बेरोज़गारी का होना (4) व्यापक देहाती गरीबी का होना</p>

Question No.	Questions
73.	<p>Which of the following is not a component of human development index</p> <p>(1) Knowledge (2) Life expectancy (3) Infant mortality (4) Standard of living</p> <p>निम्नलिखित में से कौन-सा चर मानव विकास सूचकांक का अंग नहीं है ?</p> <p>(1) ज्ञान (2) प्रत्याशित जीवन अवधि (3) शिशु मृत्यु दर (4) जीवन स्तर</p>
74.	<p>Human development index was first formulated in</p> <p>(1) 1990 (2) 1970 (3) 1965 (4) 1995</p> <p>मानव विकास सूचकांक सबसे पहले किस साल में सूत्रीकृत किया गया था ?</p> <p>(1) 1990 (2) 1970 (3) 1965 (4) 1995</p>
75.	<p>For international comparison which of the following is considered a better measure</p> <p>(1) Comparing per capita incomes in US\$ terms (2) Comparing national incomes in US\$ terms (3) Comparing the government debt in PPP\$ terms (4) Comparing the per capita incomes in PPP\$ terms</p> <p>अन्तर्राष्ट्रीय तुलना के लिए कौन-सा माप सबसे बेहतर माना जाता है ?</p> <p>(1) अमरीकी डॉलर में प्रति व्यक्ति आमदनी की तुलना करना (2) अमरीकी डॉलर में राष्ट्रीय आमदनी की तुलना करना (3) खरीद शक्ति समता वाले डॉलर में सरकारी कर्ज की तुलना करना (4) खरीद शक्ति समता वाले डॉलर में प्रति व्यक्ति आमदनी की तुलना करना</p>

Question No.	Questions
76.	<p>The Unbalanced Growth Theory was given by</p> <p>(1) Rosenstein Rodan (2) Hirschman (3) Lewis (4) Harrod and Domar</p> <p>असंतुलित विकास का सिद्धान्त किसके द्वारा दिया गया है ?</p> <p>(1) रोसनेस्टीन रोडन (2) हर्शमैन (3) लेविस (4) हैरोड और डोमर</p>
77.	<p>Why the balanced growth is required in the underdeveloped economies ?</p> <p>(1) Due to indivisibilities in production (2) Due to indivisibilities in demand (3) Due to indivisibilities in supply of savings (4) All of the above</p> <p>अल्पविकसित अर्थव्यवस्थाओं के विकास के लिए संतुलित विकास की क्यों ज़रूरत पड़ती है ?</p> <p>(1) उत्पादन में अविभाजनताओं के कारण (2) मांग में अविभाजनताओं के कारण (3) बचत की पूर्ति में अविभाजनताओं के कारण (4) उपरोक्त सभी</p>

Question No.	Questions
78.	<p>According to Lewis, the wages in the modern sector are</p> <ol style="list-style-type: none">(1) Just equal to that of the traditional sector(2) Greater by 30-35 per cent of the wages prevailing in the traditional sector(3) Greater by 50-60 per cent of the wages prevailing in the traditional sector(4) Greater by 10-15 per cent of the wages prevailing in the traditional sector <p>लेविस के अनुसार आधुनिक क्षेत्र में मज़दूरी की दर</p> <ol style="list-style-type: none">(1) पारम्परिक क्षेत्र की मज़दूरी की दर के बिलकुल बराबर होती है(2) पारम्परिक क्षेत्र की मज़दूरी की दर से 30-35 प्रतिशत अधिक होती है(3) पारम्परिक क्षेत्र की मज़दूरी की दर से 50-60 प्रतिशत अधिक होती है(4) पारम्परिक क्षेत्र की मज़दूरी की दर से 10-15 प्रतिशत अधिक होती है
79.	<p>The concept of disguised unemployed refers to the workers</p> <ol style="list-style-type: none">(1) Who are voluntarily unemployed(2) Who are involuntarily unemployed(3) Who do not add to total demand(4) Who do not add to total production <p>छुपे हुए बेरोजगार की धारणा में किन मज़दूरों की बात की जाती है ?</p> <ol style="list-style-type: none">(1) जो कि इच्छित रूप में बेरोजगार होते हैं(2) जो कि अनिच्छित रूप में बेरोजगार होते हैं(3) जो कि कुल मांग में कोई हिस्सा नहीं रखते(4) जो कि कुल उत्पादन में कोई हिस्सा नहीं रखते

Question No.	Questions
80.	<p>Below the critical minimum effort</p> <ol style="list-style-type: none"> (1) Spread effects are greater than the backwash effects (2) Backwash effects are greater than the spread effects (3) Negative externalities are lower than the positive externalities (4) There is too much government interference <p>गंभीर न्यूनतम प्रयास के नीचे वाले बिन्दुओं पर</p> <ol style="list-style-type: none"> (1) फैलाव प्रभाव प्रक्षिप्त प्रभावों से बड़े होते हैं (2) प्रक्षिप्त प्रभाव फैलाव प्रभावों से बड़े होते हैं (3) ऋणात्मक बाह्यताएं धनात्मक बाह्यताओं से कम होती हैं (4) सरकारी हस्तक्षेप बहुत ज्यादा होता है
81.	<p>The concept of real per capita income means that</p> <ol style="list-style-type: none"> (1) Per capita income has been adjusted to the inflation rate (2) Per capita income minus taxes (3) Per capita income minus depreciation (4) Net profits of the production sector <p>असल प्रति व्यक्ति आमदनी की अवधारणा का अर्थ है कि</p> <ol style="list-style-type: none"> (1) प्रति व्यक्ति आमदनी को मुद्रास्फीति दर के लिए समायोजित कर दिया गया है (2) प्रति व्यक्ति आमदनी में से कर घटा दिए गए हैं (3) प्रति व्यक्ति आमदनी में से घिसावट को घटा दिया गया है (4) उत्पादन क्षेत्र के शुद्ध लाभ

Question No.	Questions
82.	<p>National income is also known as</p> <p>(1) GDP at market prices (2) GNP at market prices (3) GNP at factor prices (4) NNP at factor prices</p> <p>राष्ट्रीय आमदनी को यह भी कहा जाता है</p> <p>(1) बाज़ार कीमतों पर सकल घरेलू उत्पाद (2) बाज़ार कीमतों पर सकल राष्ट्रीय उत्पाद (3) साधन कीमतों पर सकल राष्ट्रीय उत्पाद (4) साधन कीमतों पर निवल राष्ट्रीय उत्पाद</p>
83.	<p>In an economy the value of multiplier is higher if</p> <p>(1) Propensity to save is higher (2) Propensity to invest is higher (3) Propensity to consume is higher (4) All of the above</p> <p>किसी भी अर्थव्यवस्था में गुणक का मूल्य अधिक होता है अगर</p> <p>(1) बचत की प्रवृत्ति अधिक हो (2) निवेश की प्रवृत्ति अधिक हो (3) उपभोग की प्रवृत्ति अधिक हो (4) उपरोक्त सभी</p>

Question No.	Questions
84.	<p>The MPC is equal to APC, if</p> <ol style="list-style-type: none"> (1) The MPC is constant (2) APC is at its minimum (3) APC is at its maximum (4) MPC is at its maximum <p>उपभोग की सीमांत प्रवृत्ति उपभोग की औसत प्रवृत्ति के बराबर होती है अगर</p> <ol style="list-style-type: none"> (1) उपभोग की सीमांत प्रवृत्ति स्थिर है (2) उपभोग की औसत प्रवृत्ति अपने न्यूनतम पर है (3) उपभोग की औसत प्रवृत्ति अपने अधिकतम पर है (4) उपभोग की सीमांत प्रवृत्ति अपने अधिकतम पर है
85.	<p>Autonomous investment means</p> <ol style="list-style-type: none"> (1) An investment which grows automatically (2) An investment which grows along with income (3) An investment which is independent of income (4) An investment which is independent of rate of interest <p>स्वचालित निवेश का अर्थ है</p> <ol style="list-style-type: none"> (1) ऐसा निवेश जो अपने आप बढ़ता है (2) ऐसा निवेश जो आमदनी के साथ बढ़ता है (3) ऐसा निवेश जो आमदनी से मुक्त है (4) ऐसा निवेश जो ब्याज की दर से मुक्त है

Question No.	Questions
89.	<p>If $MPC = MPS$, then the value of multiplier is</p> <p>(1) Zero (2) One (3) Two (4) Infinite</p> <p>अगर उपभोग की सीमांत प्रवृत्ति बचत की सीमांत प्रवृत्ति के बराबर हो तो गुणक का मूल्य</p> <p>(1) सिफर होता है (2) एक के बराबर होता है (3) दो के बराबर होता है (4) अनिश्चित होता है</p>
90.	<p>An increase in tax may lead to</p> <p>(1) A rightward shift in LM curve (2) A leftward shift in LM curve (3) A leftward shift in IS curve (4) A rightward shift in both IS and LM curve</p> <p>कर में बढ़ोतरी होने से</p> <p>(1) LM वक्र दाईं तरफ खिसक जाता है (2) LM वक्र बाईं तरफ खिसक जाता है (3) IS वक्र बाईं तरफ खिसक जाता है (4) IS और LM दोनों ही वक्र दाईं तरफ खिसक जाता है</p>

Question No.	Questions								
91.	<p>Cross elasticity is defined as :</p> <ol style="list-style-type: none"> (1) Percentage change in demand for X commodity due to percentage change in income from Y commodity (2) Percentage change in demand of A consumer due to percentage change in income of B consumer (3) Percentage change in demand for X commodity due to percentage change in price of Y commodity. (4) Percentage change in demand for X commodity due to percentage change in price of X commodity. <p>माँग की तिरछी लोच का अर्थ है :</p> <ol style="list-style-type: none"> (1) Y वस्तु से आमदनी में प्रतिशत तबदीली के कारण X वस्तु की माँग में होने वाली प्रतिशत तबदीली (2) B उपभोगी की आमदनी में प्रतिशत तबदीली के कारण A उपभोगी की माँग में होने वाली प्रतिशत तबदीली (3) Y वस्तु की कीमत में प्रतिशत तबदीली के कारण X वस्तु की माँग में होने वाली प्रतिशत तबदीली (4) X वस्तु की कीमत में प्रतिशत तबदीली के कारण X वस्तु की माँग में होने वाली प्रतिशत तबदीली 								
92.	<p>The problem of scarcity and choice can be found in the definition by :</p> <table style="width: 100%; border: none;"> <tr> <td style="width: 50%;">(1) Alfred Marshall</td> <td style="width: 50%;">(2) Lionel Robbins</td> </tr> <tr> <td>(3) J. A. Schumpeter</td> <td>(4) Adam Smith</td> </tr> </table> <p>दुर्लभता और चुनाव की समस्या की चर्चा कौन सी परिभाषा में मिलती है ?</p> <table style="width: 100%; border: none;"> <tr> <td style="width: 50%;">(1) अल्फ्रेड मार्शल</td> <td style="width: 50%;">(2) लियोनेल रॉबिन्स</td> </tr> <tr> <td>(3) जे.ए. शुम्पीटर</td> <td>(4) एडम स्मिथ</td> </tr> </table>	(1) Alfred Marshall	(2) Lionel Robbins	(3) J. A. Schumpeter	(4) Adam Smith	(1) अल्फ्रेड मार्शल	(2) लियोनेल रॉबिन्स	(3) जे.ए. शुम्पीटर	(4) एडम स्मिथ
(1) Alfred Marshall	(2) Lionel Robbins								
(3) J. A. Schumpeter	(4) Adam Smith								
(1) अल्फ्रेड मार्शल	(2) लियोनेल रॉबिन्स								
(3) जे.ए. शुम्पीटर	(4) एडम स्मिथ								

Question No.	Questions
93.	<p>If the utility can not be measured in numbers, it is called</p> <p>(1) Ordinal utility (2) Cardinal utility (3) Ordinary utility (4) Optimum utility</p> <p>अगर हम तुष्टीगुण को अँकों में न माप सकें तो इसे कौन सा नाम देते हैं ?</p> <p>(1) क्रमवाचक तुष्टीगुण (2) संख्यावाचक तुष्टीगुण (3) साधारण तुष्टीगुण (4) इष्टतम तुष्टीगुण</p>
94.	<p>Consumer surplus can be defined as :</p> <p>(1) Difference of marginal utility and price (2) Difference of marginal utility and total utility (3) Difference of marginal utility and average utility (4) All of the above</p> <p>उपभोक्ता अधिशेष का अर्थ है :</p> <p>(1) सीमांत तुष्टीगुण और कीमत में अन्तर (2) सीमांत तुष्टीगुण और कुल तुष्टीगुण में अन्तर (3) सीमांत तुष्टीगुण और औसत तुष्टीगुण में अन्तर (4) उपरोक्त सभी</p>

Question No.	Questions
95.	<p>A consumer is in equilibrium where</p> <ol style="list-style-type: none"> (1) The indifference curve is tangent to the price line (2) The indifference curve is convex to the origin (3) Both (1) and (2) (4) None of the above <p>एक उपभोगी तभी संतुलन हासिल करेगा जब</p> <ol style="list-style-type: none"> (1) उदासीनता वक्र कीमत रेखा को स्पर्श करे (2) उदासीन वक्र मूल बिन्दु की तरफ उत्तल होता है (3) उपरोक्त (1) तथा (2) दोनों (4) उपरोक्त में से कोई नहीं
96.	<p>In case of the inferior goods, for a fall in price</p> <ol style="list-style-type: none"> (1) The price effect is negative due to negative income effect (2) The price effect is positive due to positive income effect (3) The price effect is negative due to negative substitution effect (4) The price effect is positive as positive substitution effect is higher than the negative income effect <p>घटिया वस्तुओं के मामले में कीमत के गिरने से</p> <ol style="list-style-type: none"> (1) आमदनी प्रभाव के ऋणात्मक होने के कारण कीमत प्रभाव भी ऋणात्मक होता है (2) आमदनी प्रभाव के धनात्मक होने के कारण कीमत प्रभाव भी धनात्मक होता है (3) स्थानापन्नता प्रभाव के ऋणात्मक होने के कारण कीमत प्रभाव भी ऋणात्मक होता है (4) धनात्मक स्थानापन्नता प्रभाव ऋणात्मक आमदनी प्रभाव से बड़ा होने के कारण कीमत प्रभाव धनात्मक होता है

Question No.	Questions
97.	<p>The area between the ridge lines show :</p> <ol style="list-style-type: none"> (1) Positive marginal productivity of both the factors (2) Negative marginal productivity of both the factors (3) Negative marginal productivity of factor on Y-axis (4) Negative marginal productivity of factor on X-axis <p>रिज रेखाओं के बीच का क्षेत्र</p> <ol style="list-style-type: none"> (1) दोनों साधनों की धनात्मक सीमांत उत्पादकता को दर्शाता है (2) दोनों साधनों की ऋणात्मक सीमांत उत्पादकता को दर्शाता है (3) Y-धुरे वाले साधन की ऋणात्मक सीमांत उत्पादकता को दर्शाता है (4) X-धुरे वाले साधन की ऋणात्मक सीमांत उत्पादकता को दर्शाता है
98.	<p>In the long run, the returns to scale are increasing because</p> <ol style="list-style-type: none"> (1) The production is experiencing only the economies of scale (2) The production is experiencing only the diseconomies of scale (3) The economies of scale are higher than the diseconomies of scale (4) The diseconomies of scale are higher than the economies of scale <p>लंबे समय में पैमाने के प्रतिफल इस लिए बढ़ते हैं क्योंकि</p> <ol style="list-style-type: none"> (1) उत्पादन में सिर्फ पैमाने की बचतें हासिल हो रही होती हैं (2) उत्पादन में सिर्फ पैमाने की हानियाँ हासिल हो रही होती हैं (3) उत्पादन में पैमाने की बचतें पैमाने की हानियों से अधिक होती हैं (4) उत्पादन में पैमाने की हानियाँ पैमाने की बचतों से अधिक होती हैं



SET-X

(Total No. of printed pages : 42)

(DO NOT OPEN THIS QUESTION BOOKLET BEFORE TIME OR UNTIL YOU ARE ASKED TO DO SO)

(PG-EE-2022)

10015

Code

C

ECONOMICS

Sr. No. _____

Time : 1½ Hours

Total Questions : 100

Max. Marks : 100

Roll No. _____ (in figure) _____ (in words)

Name : _____ Father's Name : _____


Mother's Name : _____ Date of Examination : _____

(Signature of the candidate)

(Signature of the Invigilator)

CANDIDATES MUST READ THE FOLLOWING INFORMATION INSTRUCTIONS BEFORE STARTING THE QUESTION PAPER.

1. All questions are compulsory.
2. The candidates must return the Question book-let as well as OMR answer-sheet to the Invigilator concerned before leaving the Examination Hall failing which a case of use of unfair-means / mis-behaviour will be registered against him / her, in addition to lodging of an FIR with the police. Further the answer-sheet of such a candidate will not be evaluated.
3. Keeping in view the transparency of the examination system, carbonless OMR Sheet is provided to the candidate so that a copy of OMR Sheet may be kept by the candidate.
4. Question Booklet along with answer key of all the A,B,C and D code will be uploaded on the university website after the conduct of Entrance Examination. In case there is any discrepancy in the Question Booklet/Answer Key, the same may be brought to the notice of the Controller of Examinations in writing within 24 hours of uploading the same on the University Website. Thereafter, no complaint in any case, will be considered.
5. The candidate MUST NOT do any rough work or writing in the OMR Answer-Sheet. Rough work, if any, may be done in the question book-let itself. Answers MUST NOT be ticked in the Question book-let.
6. There will be no negative marking. Each correct answer will be awarded one full mark. Cutting, erasing, overwriting and more than one answer in OMR Answer-Sheet will be treated as incorrect answer.
7. Use only Black or Blue **BALL POINT PEN** of good quality in the OMR Answer-Sheet.
8. BEFORE ANSWERING THE QUESTIONS, THE CANDIDATES SHOULD ENSURE THAT THEY HAVE BEEN SUPPLIED CORRECT AND COMPLETE BOOK-LET. COMPLAINTS, IF ANY, REGARDING MISPRINTING ETC. WILL NOT BE ENTERTAINED 30 MINUTES AFTER STARTING OF THE EXAMINATION.



Question No.	Questions
1.	<p>Which of the following is not a component of vicious cycle from demand side</p> <p>(1) Income (2) Savings</p> <p>(3) Investment (4) Employment</p> <p>निम्नलिखित में से कौन-सी चर मांग पक्ष के कुचक्र का हिस्सा नहीं होती ?</p> <p>(1) आमदनी (2) बचत</p> <p>(3) निवेश (4) रोज़गार</p>
2.	<p>According to most of the theories, fall in share of employment in agriculture indicates</p> <p>(1) Crisis in agriculture</p> <p>(2) Structural shifts related to development of the economy</p> <p>(3) Mass unemployment</p> <p>(4) Mass rural poverty</p> <p>विकास के बहुतेरे सिद्धान्तों के अनुसार खेती क्षेत्र में रोज़गार का हिस्सा गिरने का अर्थ है</p> <p>(1) खेती में संकट का होना</p> <p>(2) अर्थव्यवस्था के विकास से सम्बन्धित ढांचागत तबदीली का होना</p> <p>(3) व्यापक बेरोज़गारी का होना</p> <p>(4) व्यापक देहाती गरीबी का होना</p>

Question No.	Questions
3.	<p>Which of the following is not a component of human development index</p> <p>(1) Knowledge (2) Life expectancy (3) Infant mortality (4) Standard of living</p> <p>निम्नलिखित में से कौन-सा चर मानव विकास सूचकांक का अंग नहीं है ?</p> <p>(1) ज्ञान (2) प्रत्याशित जीवन अवधि (3) शिशु मृत्यु दर (4) जीवन स्तर</p>
4.	<p>Human development index was first formulated in</p> <p>(1) 1990 (2) 1970 (3) 1965 (4) 1995</p> <p>मानव विकास सूचकांक सबसे पहले किस साल में सूत्रीकृत किया गया था ?</p> <p>(1) 1990 (2) 1970 (3) 1965 (4) 1995</p>
5.	<p>For international comparison which of the following is considered a better measure</p> <p>(1) Comparing per capita incomes in US\$ terms (2) Comparing national incomes in US\$ terms (3) Comparing the government debt in PPP\$ terms (4) Comparing the per capita incomes in PPP\$ terms</p> <p>अन्तर्राष्ट्रीय तुलना के लिए कौन-सा माप सबसे बेहतर माना जाता है ?</p> <p>(1) अमरीकी डॉलर में प्रति व्यक्ति आमदनी की तुलना करना (2) अमरीकी डॉलर में राष्ट्रीय आमदनी की तुलना करना (3) खरीद शक्ति समता वाले डॉलर में सरकारी कर्ज की तुलना करना (4) खरीद शक्ति समता वाले डॉलर में प्रति व्यक्ति आमदनी की तुलना करना</p>

Question No.	Questions
6.	<p>The Unbalanced Growth Theory was given by</p> <p>(1) Rosenstein Rodan (2) Hirschman</p> <p>(3) Lewis (4) Harrod and Domar</p> <p>असंतुलित विकास का सिद्धान्त किसके द्वारा दिया गया है ?</p> <p>(1) रोसनेस्टीन रोडन (2) हर्शमैन</p> <p>(3) लेविस (4) हैरोड और डोमर</p>
7.	<p>Why the balanced growth is required in the underdeveloped economies ?</p> <p>(1) Due to indivisibilities in production</p> <p>(2) Due to indivisibilities in demand</p> <p>(3) Due to indivisibilities in supply of savings</p> <p>(4) All of the above</p> <p>अल्पविकसित अर्थव्यवस्थाओं के विकास के लिए संतुलित विकास की क्यों ज़रूरत पड़ती है ?</p> <p>(1) उत्पादन में अविभाजनताओं के कारण</p> <p>(2) मांग में अविभाजनताओं के कारण</p> <p>(3) बचत की पूर्ति में अविभाजनताओं के कारण</p> <p>(4) उपरोक्त सभी</p>

Question No.	Questions
8.	<p>According to Lewis, the wages in the modern sector are</p> <ol style="list-style-type: none">(1) Just equal to that of the traditional sector(2) Greater by 30-35 per cent of the wages prevailing in the traditional sector(3) Greater by 50-60 per cent of the wages prevailing in the traditional sector(4) Greater by 10-15 per cent of the wages prevailing in the traditional sector <p>लेविस के अनुसार आधुनिक क्षेत्र में मज़दूरी की दर</p> <ol style="list-style-type: none">(1) पारम्परिक क्षेत्र की मज़दूरी की दर के बिल्कुल बराबर होती है(2) पारम्परिक क्षेत्र की मज़दूरी की दर से 30-35 प्रतिशत अधिक होती है(3) पारम्परिक क्षेत्र की मज़दूरी की दर से 50-60 प्रतिशत अधिक होती है(4) पारम्परिक क्षेत्र की मज़दूरी की दर से 10-15 प्रतिशत अधिक होती है
9.	<p>The concept of disguised unemployed refers to the workers</p> <ol style="list-style-type: none">(1) Who are voluntarily unemployed(2) Who are involuntarily unemployed(3) Who do not add to total demand(4) Who do not add to total production <p>छुपे हुए बेरोजगार की धारणा में किन मज़दूरों की बात की जाती है ?</p> <ol style="list-style-type: none">(1) जो कि इच्छित रूप में बेरोजगार होते हैं(2) जो कि अनिच्छित रूप में बेरोजगार होते हैं(3) जो कि कुल मांग में कोई हिस्सा नहीं रखते(4) जो कि कुल उत्पादन में कोई हिस्सा नहीं रखते

Question No.	Questions
10.	<p>Below the critical minimum effort</p> <ol style="list-style-type: none">(1) Spread effects are greater than the backwash effects(2) Backwash effects are greater than the spread effects(3) Negative externalities are lower than the positive externalities(4) There is too much government interference <p>गंभीर न्यूनतम प्रयास के नीचे वाले बिन्दुओं पर</p> <ol style="list-style-type: none">(1) फैलाव प्रभाव प्रक्षिप्त प्रभावों से बड़े होते हैं(2) प्रक्षिप्त प्रभाव फैलाव प्रभावों से बड़े होते हैं(3) ऋणात्मक बाह्यताएं धनात्मक बाह्यताओं से कम होती हैं(4) सरकारी हस्तक्षेप बहुत ज्यादा होता है
11.	<p>The concept of real per capita income means that</p> <ol style="list-style-type: none">(1) Per capita income has been adjusted to the inflation rate(2) Per capita income minus taxes(3) Per capita income minus depreciation(4) Net profits of the production sector <p>असल प्रति व्यक्ति आमदनी की अवधारणा का अर्थ है कि</p> <ol style="list-style-type: none">(1) प्रति व्यक्ति आमदनी को मुद्रास्फीति दर के लिए समायोजित कर दिया गया है(2) प्रति व्यक्ति आमदनी में से कर घटा दिए गए हैं(3) प्रति व्यक्ति आमदनी में से घिसावट को घटा दिया गया है(4) उत्पादन क्षेत्र के शुद्ध लाभ

Question No.	Questions
12.	<p>National income is also known as</p> <p>(1) GDP at market prices (2) GNP at market prices (3) GNP at factor prices (4) NNP at factor prices</p> <p>राष्ट्रीय आमदनी को यह भी कहा जाता है</p> <p>(1) बाज़ार कीमतों पर सकल घरेलू उत्पाद (2) बाज़ार कीमतों पर सकल राष्ट्रीय उत्पाद (3) साधन कीमतों पर सकल राष्ट्रीय उत्पाद (4) साधन कीमतों पर निवल राष्ट्रीय उत्पाद</p>
13.	<p>In an economy the value of multiplier is higher if</p> <p>(1) Propensity to save is higher (2) Propensity to invest is higher (3) Propensity to consume is higher (4) All of the above</p> <p>किसी भी अर्थव्यवस्था में गुणक का मूल्य अधिक होता है अगर</p> <p>(1) बचत की प्रवृत्ति अधिक हो (2) निवेश की प्रवृत्ति अधिक हो (3) उपभोग की प्रवृत्ति अधिक हो (4) उपरोक्त सभी</p>

Question No.	Questions
14.	<p>The MPC is equal to APC, if</p> <ol style="list-style-type: none">(1) The MPC is constant(2) APC is at its minimum(3) APC is at its maximum(4) MPC is at its maximum <p>उपभोग की सीमांत प्रवृत्ति उपभोग की औसत प्रवृत्ति के बराबर होती है अगर</p> <ol style="list-style-type: none">(1) उपभोग की सीमांत प्रवृत्ति स्थिर है(2) उपभोग की औसत प्रवृत्ति अपने न्यूनतम पर है(3) उपभोग की औसत प्रवृत्ति अपने अधिकतम पर है(4) उपभोग की सीमांत प्रवृत्ति अपने अधिकतम पर है
15.	<p>Autonomous investment means</p> <ol style="list-style-type: none">(1) An investment which grows automatically(2) An investment which grows along with income(3) An investment which is independent of income(4) An investment which is independent of rate of interest <p>स्वचालित निवेश का अर्थ है</p> <ol style="list-style-type: none">(1) ऐसा निवेश जो अपने आप बढ़ता है(2) ऐसा निवेश जो आमदनी के साथ बढ़ता है(3) ऐसा निवेश जो आमदनी से मुक्त है(4) ऐसा निवेश जो ब्याज की दर से मुक्त है

Question No.	Questions
16.	<p>The unemployment allowance by the government is counted in :</p> <p>(1) Household income (2) Household consumption expenditure (3) Government expenditure (4) Investment expenditure</p> <p>सरकार द्वारा दिया गया बेरोजगारी भत्ता किसमें शामिल किया जाता है ?</p> <p>(1) घरेलू आमदनी में (2) घरेलू उपभोग खर्च में (3) सरकारी खर्च में (4) निवेश खर्च में</p>
17.	<p>The interest payments on foreign loans are counted in :</p> <p>(1) Balance of payments on current account (2) Balance of payments on capital account (3) Both (1) and (2) (4) Neither (1) nor (2)</p> <p>विदेशी कर्जों पर ब्याज की अदायगी किसमें शामिल की जाती है ?</p> <p>(1) चालू खाते के भुगतान शेष में (2) पूंजी खाते के भुगतान शेष में (3) (1) तथा (2) दोनों (4) न तो (1) न ही (2)</p>
18.	<p>The effective demand necessarily refers to</p> <p>(1) Actual demand (2) Desired demand (3) Aggregate demand just equal to aggregate supply (4) Demand at the level of full employment</p> <p>प्रभावी मांग किस धारणा की तरफ इशारा करती है ?</p> <p>(1) असल मांग (2) वांछित मांग (3) कुल मांग का कुल पूर्ति के बिलकुल बराबर होना (4) पूर्ण रोजगार की स्थिति में होने वाली मांग</p>

Question No.	Questions
19.	<p>If $MPC = MPS$, then the value of multiplier is</p> <p>(1) Zero (2) One (3) Two (4) Infinite</p> <p>अगर उपभोग की सीमांत प्रवृत्ति बचत की सीमांत प्रवृत्ति के बराबर हो तो गुणक का मूल्य</p> <p>(1) सिफर होता है (2) एक के बराबर होता है (3) दो के बराबर होता है (4) अनिश्चित होता है</p>
20.	<p>An increase in tax may lead to</p> <p>(1) A rightward shift in LM curve (2) A leftward shift in LM curve (3) A leftward shift in IS curve (4) A rightward shift in both IS and LM curve</p> <p>कर में बढ़ोतरी होने से</p> <p>(1) LM वक्र दाईं तरफ खिसक जाता है (2) LM वक्र बाईं तरफ खिसक जाता है (3) IS वक्र बाईं तरफ खिसक जाता है (4) IS और LM दोनों ही वक्र दाईं तरफ खिसक जाता है</p>

Question No.	Questions								
21.	<p>Cross elasticity is defined as :</p> <ol style="list-style-type: none"> (1) Percentage change in demand for X commodity due to percentage change in income from Y commodity (2) Percentage change in demand of A consumer due to percentage change in income of B consumer (3) Percentage change in demand for X commodity due to percentage change in price of Y commodity. (4) Percentage change in demand for X commodity due to percentage change in price of X commodity. <p>माँग की तिरछी लोच का अर्थ है :</p> <ol style="list-style-type: none"> (1) Y वस्तु से आमदनी में प्रतिशत तबदीली के कारण X वस्तु की माँग में होने वाली प्रतिशत तबदीली (2) B उपभोगी की आमदनी में प्रतिशत तबदीली के कारण A उपभोगी की माँग में होने वाली प्रतिशत तबदीली (3) Y वस्तु की कीमत में प्रतिशत तबदीली के कारण X वस्तु की माँग में होने वाली प्रतिशत तबदीली (4) X वस्तु की कीमत में प्रतिशत तबदीली के कारण X वस्तु की माँग में होने वाली प्रतिशत तबदीली 								
22.	<p>The problem of scarcity and choice can be found in the definition by :</p> <table style="width: 100%; border: none;"> <tr> <td style="width: 50%;">(1) Alfred Marshall</td> <td style="width: 50%;">(2) Lionel Robbins</td> </tr> <tr> <td>(3) J. A. Schumpeter</td> <td>(4) Adam Smith</td> </tr> </table> <p>दुर्लभता और चुनाव की समस्या की चर्चा कौन सी परिभाषा में मिलती है ?</p> <table style="width: 100%; border: none;"> <tr> <td style="width: 50%;">(1) अल्फ्रेड मार्शल</td> <td style="width: 50%;">(2) लियोनेल रॉबिन्स</td> </tr> <tr> <td>(3) जे.ए. शुम्पीटर</td> <td>(4) एडम स्मिथ</td> </tr> </table>	(1) Alfred Marshall	(2) Lionel Robbins	(3) J. A. Schumpeter	(4) Adam Smith	(1) अल्फ्रेड मार्शल	(2) लियोनेल रॉबिन्स	(3) जे.ए. शुम्पीटर	(4) एडम स्मिथ
(1) Alfred Marshall	(2) Lionel Robbins								
(3) J. A. Schumpeter	(4) Adam Smith								
(1) अल्फ्रेड मार्शल	(2) लियोनेल रॉबिन्स								
(3) जे.ए. शुम्पीटर	(4) एडम स्मिथ								

Question No.	Questions
23.	<p>If the utility can not be measured in numbers, it is called</p> <ol style="list-style-type: none">(1) Ordinal utility(2) Cardinal utility(3) Ordinary utility(4) Optimum utility <p>अगर हम तुष्टीगुण को अँकों में न माप सकें तो इसे कौन सा नाम देते हैं ?</p> <ol style="list-style-type: none">(1) क्रमवाचक तुष्टीगुण(2) संख्यावाचक तुष्टीगुण(3) साधारण तुष्टीगुण(4) इष्टतम तुष्टीगुण
24.	<p>Consumer surplus can be defined as :</p> <ol style="list-style-type: none">(1) Difference of marginal utility and price(2) Difference of marginal utility and total utility(3) Difference of marginal utility and average utility(4) All of the above <p>उपभोक्ता अधिशेष का अर्थ है :</p> <ol style="list-style-type: none">(1) सीमांत तुष्टीगुण और कीमत में अन्तर(2) सीमांत तुष्टीगुण और कुल तुष्टीगुण में अन्तर(3) सीमांत तुष्टीगुण और औसत तुष्टीगुण में अन्तर(4) उपरोक्त सभी

Question No.	Questions
25.	<p>A consumer is in equilibrium where</p> <ol style="list-style-type: none">(1) The indifference curve is tangent to the price line(2) The indifference curve is convex to the origin(3) Both (1) and (2)(4) None of the above <p>एक उपभोगी तभी संतुलन हासिल करेगा जब</p> <ol style="list-style-type: none">(1) उदासीनता वक्र कीमत रेखा को स्पर्श करे(2) उदासीन वक्र मूल बिन्दु की तरफ उत्तल होता है(3) उपरोक्त (1) तथा (2) दोनों(4) उपरोक्त में से कोई नहीं
26.	<p>In case of the inferior goods, for a fall in price</p> <ol style="list-style-type: none">(1) The price effect is negative due to negative income effect(2) The price effect is positive due to positive income effect(3) The price effect is negative due to negative substitution effect(4) The price effect is positive as positive substitution effect is higher than the negative income effect <p>घटिया वस्तुओं के मामले में कीमत के गिरने से</p> <ol style="list-style-type: none">(1) आमदनी प्रभाव के ऋणात्मक होने के कारण कीमत प्रभाव भी ऋणात्मक होता है(2) आमदनी प्रभाव के धनात्मक होने के कारण कीमत प्रभाव भी धनात्मक होता है(3) स्थानापन्नता प्रभाव के ऋणात्मक होने के कारण कीमत प्रभाव भी ऋणात्मक होता है(4) धनात्मक स्थानापन्नता प्रभाव ऋणात्मक आमदनी प्रभाव से बड़ा होने के कारण कीमत प्रभाव धनात्मक होता है

Question No.	Questions
27.	<p>The area between the ridge lines show :</p> <ol style="list-style-type: none">(1) Positive marginal productivity of both the factors(2) Negative marginal productivity of both the factors(3) Negative marginal productivity of factor on Y-axis(4) Negative marginal productivity of factor on X-axis <p>रिज रेखाओं के बीच का क्षेत्र</p> <ol style="list-style-type: none">(1) दोनों साधनों की धनात्मक सीमांत उत्पादकता को दर्शाता है(2) दोनों साधनों की ऋणात्मक सीमांत उत्पादकता को दर्शाता है(3) Y-धुरे वाले साधन की ऋणात्मक सीमांत उत्पादकता को दर्शाता है(4) X-धुरे वाले साधन की ऋणात्मक सीमांत उत्पादकता को दर्शाता है
28.	<p>In the long run, the returns to scale are increasing because</p> <ol style="list-style-type: none">(1) The production is experiencing only the economies of scale(2) The production is experiencing only the diseconomies of scale(3) The economies of scale are higher than the diseconomies of scale(4) The diseconomies of scale are higher than the economies of scale <p>लंबे समय में पैमाने के प्रतिफल इस लिए बढ़ते हैं क्योंकि</p> <ol style="list-style-type: none">(1) उत्पादन में सिर्फ पैमाने की बचतें हासिल हो रही होती हैं(2) उत्पादन में सिर्फ पैमाने की हानियाँ हासिल हो रही होती हैं(3) उत्पादन में पैमाने की बचतें पैमाने की हानियों से अधिक होती हैं(4) उत्पादन में पैमाने की हानियाँ पैमाने की बचतों से अधिक होती हैं

Question No.	Questions
29.	<p>According to the traditional theory of cost, which of the following is not true :</p> <ol style="list-style-type: none"> (1) Average cost curve is always U-shaped (2) Marginal cost curve is always U-shaped (3) Marginal cost curve is always upward sloping (4) At the minimum average cost, average cost is equal to the marginal cost <p>लागत के पुरातन सिद्धांत के अनुसार कौन सी बात सही नहीं है</p> <ol style="list-style-type: none"> (1) औसत लागत वक्र हमेशा अंग्रेजी भाषा के यू के आकार का होता है (2) सीमांत लागत वक्र हमेशा अंग्रेजी भाषा के यू के आकार का होता है (3) सीमांत लागत वक्र हमेशा ऊपर की तरफ बढ़ता हुआ वक्र होता है (4) औसत लागत के न्यूनतम बिन्दु पर औसत लागत और सीमांत लागत बराबर होता है
30.	<p>The L-shaped cost curve is also known as :</p> <ol style="list-style-type: none"> (1) Lerner curve (2) Smith curve (3) Schumpeter curve (4) Kuznet curve <p>अंग्रेजी भाषा के एल अक्षर वाले आकार के लागत वक्र को और कौन से नाम से भी जाना जाता है ?</p> <ol style="list-style-type: none"> (1) लर्नर वक्र (2) स्मिथ वक्र (3) शुम्पीटर वक्र (4) कुज़नेट वक्र

Question No.	Questions
31.	<p>A petal is to flower as</p> <p>(1) Tyre - bicycle (2) Puppy - dog</p> <p>(3) Salt - pepper (4) All of the above</p> <p>जैसे एक पंखुड़ी का सम्बंध फूल से है, वैसे</p> <p>(1) टायर का बाइसाइकल से (2) पिल्ले का कुत्ते से</p> <p>(3) नमक का काली मिर्च से (4) उपरोक्त सभी</p>
32.	<p>Pointing towards a girl, A man said, "She is the daughter of only son of my grandfather". How is that man related to the girl ?</p> <p>(1) Brother (2) Father</p> <p>(3) Uncle (4) Cousin</p> <p>एक लड़की की तरफ इशारा करते हुए आदमी ने कहा 'वो मेरे दादा के इकलौते बेटे की बेटी है'। वो आदमी उस लड़की का रिश्ते में क्या लगता है ?</p> <p>(1) भाई (2) पिता</p> <p>(3) चाचा (4) चचेरा भाई</p>
33.	<p>On what sum will the difference between the simple and the compound interest for 3 years at 5 percent per annum amount to Rs. 24.40 ?</p> <p>(1) 2800 (2) 3200</p> <p>(3) 3500 (4) 4200</p> <p>कौन सी राशि पर 3 वर्षों के लिए 5 प्रतिशत प्रति वर्ष की दर पर साधारण और मिश्रित ब्याज की दर का अन्तर 24.40 रुपये होगा ?</p> <p>(1) 2800 (2) 3200</p> <p>(3) 3500 (4) 4200</p>

Question No.	Questions
34.	<p>A grocer has a sale of Rs. 6435, Rs. 6927, Rs. 6855, Rs. 7230 and Rs. 6562 for 5 consecutive months. How much sale must he have in the sixth month so that he gets an average sale of Rs. 6500 ?</p> <p>(1) 4991 (2) 6503 (3) 5543 (4) 6235</p> <p>एक राशन विक्रेता पाँच महीने क्रमवार 6435 रुपए, 6927 रुपए, 6855 रुपए, 7230 रुपए और 6562 रुपए की बिक्री करता है। छठे महीने में उसकी बिक्री क्या होनी चाहिए ताकि उसकी औसत बिक्री 6500 रुपए हो जाए ?</p> <p>(1) 4991 (2) 6503 (3) 5543 (4) 6235</p>
35.	<p>In how many ways, the word 'Success' can be arranged</p> <p>(1) 4920 (2) 420 (3) 490 (4) 920</p> <p>अंग्रेजी के शब्द 'Success' को कितने विभिन्न तरीकों से व्यवस्थित किया जा सकता है ?</p> <p>(1) 4920 (2) 420 (3) 490 (4) 920</p>
36.	<p>$[(3/8 \times 14/2) \div (2.5 - 0.8)]^2 = ?$</p> <p>(1) 2.4 (2) 1.54 (3) 2.25 (4) 2.78</p> <p>$[(3/8 \times 14/2) \div (2.5 - 0.8)]^2 = ?$</p> <p>(1) 2.4 (2) 1.54 (3) 2.25 (4) 2.78</p>

Question No.	Questions
37.	<p>Pankaj is in the East of Ram and Ram is in the North of Jagat. Mani is in the South of Jagat then in which direction of Pankaj is Mani ?</p> <p>(1) South-East (2) South-West (3) South (4) North-East</p> <p>पंकज राम के पूर्व में खड़ा है और राम, जगत के उत्तर में। मनी जगत के दक्षिण में खड़ा है तो मनी पंकज की किस दिशा में खड़ा होगा ?</p> <p>(1) दक्षिण-पूर्व (2) दक्षिण-पश्चिम (3) दक्षिण (4) उत्तर-पूर्व</p>
38.	<p>If DELHI is written as WVOSR then GOA will be</p> <p>(1) HPB (2) IQC (3) TLZ (4) AGH</p> <p>अगर हम DELHI को WVOSR लिखें तो GOA को कैसे लिखा जाएगा ?</p> <p>(1) HPB (2) IQC (3) TLZ (4) AGH</p>
39.	<p>A cube is coloured red on all faces. If it is divided into 64 small equal sized cubes, then how many cubes will have three red faces</p> <p>(1) 0 (2) 4 (3) 6 (4) 8</p> <p>एक घन टुकड़ी के सारे पासे लाल रंग के हैं। अगर इसको 64 छोटे बराबर टुकड़ों में बाँट दिया जाये, तो कितने घन टुकड़ों के तीन पासे लाल होंगे ?</p> <p>(1) 0 (2) 4 (3) 6 (4) 8</p>

Question No.	Questions
40.	$\frac{\log \sqrt{7}}{\log 7} = ?$ (1) 1/2 (2) 7 (3) 1/7 (4) 49 $\frac{\log \sqrt{7}}{\log 7} = ?$ (1) 1/2 (2) 7 (3) 1/7 (4) 49
41.	Which plan is known as Mahalanobis plan (1) First plan (2) Second plan (3) Fourth plan (4) Eighth plan किस योजना को महालनोबिस योजना का भी नाम दिया जाता है ? (1) पहली योजना (2) दूसरी योजना (3) चौथी योजना (4) आठवीं योजना
42.	The initiation of 'Blue Revolution' is related with (1) Third plan (2) Fifth plan (3) Seventh plan (4) Ninth plan नीली क्रांति की शुरुआत किस योजना से सम्बन्धित है ? (1) तीसरी योजना (2) पांचवीं योजना (3) सातवीं योजना (4) नौवीं योजना

Question No.	Questions
43.	<p>Which period is termed as the 'Plan Holiday' ?</p> <p>(1) 1947-50 (2) 1966-69</p> <p>(3) 1990-92 (4) 2017 onwards</p> <p>किस काल को 'योजना छुट्टी' का काल माना जाता है ?</p> <p>(1) 1947-50 (2) 1966-69</p> <p>(3) 1990-92 (4) 2017 के बाद का समय</p>
44.	<p>When did Niti Aayog came in to force ?</p> <p>(1) 2010 (2) 2015</p> <p>(3) 2017 (4) 2014</p> <p>नीति आयोग ने कब से काम करना शुरू किया ?</p> <p>(1) 2010 (2) 2015</p> <p>(3) 2017 (4) 2014</p>
45.	<p>Which plan was launched with the slogan of 'Garibi Hatao' ?</p> <p>(1) Third plan (2) Fifth plan</p> <p>(3) Seventh plan (4) Ninth plan</p> <p>कौन सी योजना 'गरीबी हटाओ' के नारे के साथ शुरू की गई थी ?</p> <p>(1) तीसरी योजना (2) पांचवीं योजना</p> <p>(3) सातवीं योजना (4) नौवीं योजना</p>

Question No.	Questions
46.	<p>Which of the following had the highest population density in Census, 2011</p> <p>(1) Delhi (2) Maharashtra (3) West Bengal (4) Uttar Pradesh</p> <p>2011 की जनगणना में किस राज्य की जनसंख्या सघनता सबसे ज्यादा थी ?</p> <p>(1) दिल्ली (2) महाराष्ट्र (3) पश्चिम बंगाल (4) उत्तर प्रदेश</p>
47.	<p>Sex ratio refers to</p> <p>(1) Proportion of females in total population (2) Number of females per thousand of population (3) Number of females per thousand of males (4) Number of males per thousand of females</p> <p>लिंगक अनुपात का अर्थ है</p> <p>(1) कुल जनसंख्या में स्त्रियों का अनुपात (2) प्रति हजार जनसंख्या के पीछे स्त्रियों की गिनती (3) प्रति हजार मर्दों के पीछे स्त्रियों की गिनती (4) प्रति हजार स्त्रियों के पीछे मर्दों की गिनती</p>
48.	<p>The Census 2011 was the ____ National Census Survey conducted by the Census Organisation of India.</p> <p>(1) 7th (2) 15th (3) 10th (4) 11th</p> <p>2011 की जनगणना, भारतीय जनगणना संगठन का कौन सा राष्ट्रीय जनगणना सर्वेक्षण बनता था ?</p> <p>(1) सातवां (2) पंद्रहवां (3) दसवां (4) ग्यारहवां</p>

Question No.	Questions
54.	<p>In the short period the aggregate supply curve</p> <ol style="list-style-type: none"> (1) Can be shifted to the rightward direction with help of the fixed factors only (2) Can be shifted to the rightward direction with help of the variable factors only (3) Can be shifted to the rightward direction with help of both the fixed and the variable factors (4) Can not be shifted at all <p>थोड़े समय में पूर्ति वक्र को</p> <ol style="list-style-type: none"> (1) सिर्फ स्थिर साधन को बढ़ा कर दाईं ओर खिसकाया जा सकता है (2) सिर्फ परिवर्तनशील साधन को बढ़ा कर दाईं तरफ खिसकाया जा सकता है (3) स्थिर और परिवर्तनशील दोनों साधनों को बढ़ा कर दाईं तरफ खिसकाया जा सकता है (4) बिलकुल ही नहीं खिसकाया जा सकता
55.	<p>The intersection of aggregate supply and aggregate demand shows</p> <ol style="list-style-type: none"> (1) Full employment (2) Equilibrium of the market (3) Equilibrium of a firm (4) Effective demand <p>कुल मांग और कुल पूर्ति का प्रतिच्छेद क्या दर्शाता है ?</p> <ol style="list-style-type: none"> (1) पूर्ण रोजगार (2) मण्डी का सन्तुलन (3) किसी फर्म का सन्तुलन (4) प्रभावी मांग

Question No.	Questions
56.	<p>In the theory of liquidity preference, the passive balances refer to</p> <ol style="list-style-type: none">(1) Speculative demand for money(2) Transaction demand for money(3) Precautionary demand for money(4) Both (2) and (3) <p>तरलता तरजीह सिद्धान्त में अक्रियाशील बकाए दर्शाते हैं ?</p> <ol style="list-style-type: none">(1) मुद्रा के लिए परिकल्पी मांग को(2) लेनदेन के उद्देश्य के लिए मुद्रा की मांग को(3) एहतियाती उद्देश्य के लिए मुद्रा की मांग को(4) (2) और (3) दानों
57.	<p>Samuelson's business cycles are based on</p> <ol style="list-style-type: none">(1) The interaction of multiplier and accelerator(2) Interaction of demand and supply(3) Elasticity of demand and supply(4) Interaction of government expenditure and revenue <p>सैम्यूलसन के व्यापार चक्र किस आधार पर दर्शाए जाते हैं ?</p> <ol style="list-style-type: none">(1) गुणक और त्वरक की अंतःक्रिया से(2) मांग और पूर्ति की अंतःक्रिया से(3) मांग और पूर्ति की लचक के हिसाब से(4) राजस्व और सरकारी खर्च की अंतःक्रिया से

Question No.	Questions
58.	<p>The dirty floating refers to</p> <p>(1) Depreciation or appreciation of currency (2) Devaluation or revaluation of currency (3) Illegal exchange of currency (4) None of the above</p> <p>मैली परिवर्तनशीलता का अर्थ है</p> <p>(1) करन्सी के मूल्य का हास या सुधार हो जाना (2) करन्सी के मूल्य में गिरावट या बढ़ोत्तरी करना (3) करन्सी का गैरकानूनी तरीके से विनिमय करना (4) उपरोक्त में से कोई भी नहीं</p>
59.	<p>The theory of comparative advantage is originally named after</p> <p>(1) J.S. Mill (2) Bo Sodersten (3) Heckscher and Ohlin (4) Edgeworth</p> <p>तुलनात्मक लाभ का सिद्धान्त मूलतः किसके नाम से जाना जाता है ?</p> <p>(1) जे. एस. मिल (2) बो सोदरस्टेन (3) हेक्शर और ओह्लिन (4) एज्वर्थ</p>
60.	<p>The incidence of an indirect tax falls on</p> <p>(1) Producer (2) Consumer (3) Wholesaler (4) Retailer</p> <p>अप्रत्यक्ष कर का भार किस पर पड़ता है ?</p> <p>(1) उत्पादक पर (2) उपभोगी पर (3) थोक विक्रेता पर (4) परचून विक्रेता पर</p>

Question No.	Questions
61.	<p>In India the Planning Commission used to define the poverty line, mainly on basis of</p> <ol style="list-style-type: none"> (1) Nutritional requirements (2) Per capita income (3) Monthly per capita consumption expenditure (4) Employment earnings <p>भारत का योजना आयोग गरीबी रेखा को मुख्यतः किस आधार पर परिभाषित करता था ?</p> <ol style="list-style-type: none"> (1) पोषक ज़रूरतों के आधार पर (2) प्रति व्यक्ति आमदनी के आधार पर (3) प्रति व्यक्ति माहवार उपभोग खर्च के आधार पर (4) रोज़गार से प्राप्त आमदनी के आधार पर
62.	<p>When was MGNREGA launched in India ?</p> <ol style="list-style-type: none"> (1) February, 2005 (2) February, 2006 (3) February, 2004 (4) February, 2014 <p>भारत में मनरेगा कब शुरू किया गया था ?</p> <ol style="list-style-type: none"> (1) फरवरी, 2005 (2) फरवरी, 2006 (3) फरवरी, 2004 (4) फरवरी, 2014
63.	<p>The unemployment rate refers to</p> <ol style="list-style-type: none"> (1) Proportion of unemployed in total population (2) Proportion of unemployed in total work force (3) Proportion of unemployed in total labour force (4) Ratio of unemployed to employed <p>बेरोजगारी की दर का अर्थ है</p> <ol style="list-style-type: none"> (1) कुल जनसंख्या में बेरोजगारों का अनुपात (2) कुल कार्यबल में बेरोजगारों का अनुपात (3) कुल श्रमबल में बेरोजगारों का अनुपात (4) कुल बेरोजगारों और रोज़गार प्राप्त लोगों का अनुपात

Question No.	Questions
64.	<p>During the last many labour force surveys, which state has the largest unemployment rate among all the age groups ?</p> <p>(1) Nagaland (2) Kerala (3) West Bengal (4) Punjab</p> <p>पिछले कई श्रमबल सर्वेक्षणों में सभी आयु वर्गों में कौन से राज्य की बेराजगारी की दर सबसे ज्यादा है ?</p> <p>(1) नागालैंड (2) केरल (3) पश्चिम बंगाल (4) पंजाब</p>
65.	<p>The nutrition based poverty line for rural areas refers to the calories consumption less than</p> <p>(1) 2400 calories (2) 2100 calories (3) 3500 calories (4) 1800 calories</p> <p>पोषक जरूरतों पर आधारित देहाती क्षेत्रों हेतु गरीबी रेखा कितनी कैलोरीज के उपभोग से नीचे आँकी जाती है ?</p> <p>(1) 2400 कैलोरीज (2) 2100 कैलोरीज (3) 3500 कैलोरीज (4) 1800 कैलोरीज</p>
66.	<p>Who is known as the father of Indian green revolution ?</p> <p>(1) Jawahar Lal Nehru (2) Swami Vivekanand (3) M.S. Swaminathan (4) N.E. Borlaug</p> <p>भारतीय हरित क्रांति का पितामह किसको माना जाता है ?</p> <p>(1) जवाहरलाल नेहरू (2) स्वामी विवेकानन्द (3) एम. एस. स्वामीनाथन (4) एन. ई. बोरलॉग</p>

Question No.	Questions
67.	<p>Initially the green revolution was concentrated in the states</p> <p>(1) Punjab, Haryana and U.P. (2) Punjab, H.P. and U.P. (3) Punjab, Haryana and M.P. (4) Haryana, H.P. and U.P.</p> <p>शुरुआती दौर में हरित क्रांति कौन से राज्यों तक सीमित थी ?</p> <p>(1) पंजाब, हरियाणा और उत्तर प्रदेश (2) पंजाब, हिमाचल प्रदेश और उत्तर प्रदेश (3) पंजाब, हरियाणा और मध्य प्रदेश (4) हरियाणा, हिमाचल प्रदेश और उत्तर प्रदेश</p>
68.	<p>Who introduced the Farmers (Empowerment and Protection) Agreement on Price Assurance and Farm Services Bill, 2020 and Farmers' Produce Trade and Commerce (Promotion and Facilitation) Bill, 2020 in the Indian Parliament ?</p> <p>(1) Narendra Modi (2) Narendra Tomar (3) Kailash Choudhary (4) Amit Shah</p> <p>भारतीय संसद में किसने कीमत आश्वासन और किसान सेवाओं का किसान (सशक्तिकरण और सुरक्षा) समझौता बिल, 2020 और किसानों की उपज के व्यापार तथा वाणिज्य (बढ़ावा और सहूलियत) बिल, 2020 पेश किए थे ?</p> <p>(1) नरेन्द्र मोदी (2) नरेन्द्र तोमर (3) कैलाश चौधरी (4) अमित शाह</p>

Question No.	Questions
69.	<p>When agriculture was included in WTO agreements ?</p> <p>(1) 1995 (2) 2000 (3) 2005 (4) 2010</p> <p>विश्व व्यापार संगठन के समझौते में खेती क्षेत्र को कब शामिल किया गया था ?</p> <p>(1) 1995 (2) 2000 (3) 2005 (4) 2010</p>
70.	<p>When NABARD came in to being ?</p> <p>(1) July, 1982 (2) January, 1982 (3) January, 1985 (4) February, 1985</p> <p>नाबार्ड कब अस्तित्त में आया ?</p> <p>(1) जुलाई, 1982 (2) जनवरी, 1982 (3) जनवरी, 1985 (4) फरवरी, 1985</p>
71.	<p>If January 1, 1996, was Monday, what day of the week was January 1, 1997 ?</p> <p>(1) Tuesday (2) Wednesday (3) Sunday (4) Friday</p> <p>अगर जनवरी 1, 1996 को सोमवार हो तो जनवरी 1, 1997 को कौन सा दिन होगा ?</p> <p>(1) मंगलवार (2) बुधवार (3) रविवार (4) शुक्रवार</p>

Question No.	Questions
72.	<p>How many times, the hands of a clock coincide in a day ?</p> <p>(1) 11 (2) 12 (3) 22 (4) 24</p> <p>एक दिन में घड़ी की दोनों सुईयों कितनी बार आपस में टकराती हैं ?</p> <p>(1) 11 (2) 12 (3) 22 (4) 24</p>
73.	<p>Including stoppages the speed of a bus is 60 km/hr and excluding stoppages its speed is 80 km/hr. For how long the bus stops in an hour ?</p> <p>(1) 20 min. (2) 15 min. (3) 10 min. (4) 12 min.</p> <p>अलग-अलग जगहों पर ठहराव का समय मिला कर किसी बस की गति 60 कि.मी./घण्टा और ठहराव का समय निकालने से 80 कि.मी./घण्टा बनती है। एक घण्टे में उस बस के ठहराव का औसत कितना होगा ?</p> <p>(1) 20 मिनट (2) 15 मिनट (3) 10 मिनट (4) 12 मिनट</p>
74.	<p>A man completes a journey in 5 hours. He completes the first half of the journey at a speed of 20 km/hr and the second half at a speed of 25 km/hr. What is the total journey in km ?</p> <p>(1) 5.4 Km (2) 6.4 Km (3) 2.7 Km (4) 3.2 Km</p> <p>एक आदमी एक सफर 5 घण्टों में पूरा करता है। वह उस सफर का पहला आधा हिस्सा 20 कि.मी./घण्टा के हिसाब से और दूसरा आधा हिस्सा 25 कि.मी./घण्टा की गति से पूरा करता है। उस आदमी का कि.मी. में कुल सफर कितना होगा ?</p> <p>(1) 5.4 कि.मी. (2) 6.4 कि.मी. (3) 2.7 कि.मी. (4) 3.2 कि.मी.</p>

Question No.	Questions
75.	<p>A brother is twice as old as her sister. If 10 years ago, the age of the brother was 6 times the age of the sister, what is the present age of the brother ?</p> <p>(1) 25 yrs (2) 20 yrs (3) 15 yrs (4) 14 yrs</p> <p>एक लड़के की उम्र अपनी बहन की उम्र की दो गुना है। अगर 10 साल पहले उसकी उम्र अपनी बहन की उम्र की छः गुना थी। उसकी वर्तमान उम्र क्या होगी ?</p> <p>(1) 25 साल (2) 20 साल (3) 15 साल (4) 14 साल</p>
76.	<p>Look at this series : 8, 43, 11, 41, __, 39, 17. What number should fill in the blank ?</p> <p>(1) 42 (2) 8 (3) 14 (4) 19</p> <p>इस अंक श्रृंखला में खाली स्थान भरें : 8, 43, 11, 41, __, 39, 17</p> <p>(1) 42 (2) 8 (3) 14 (4) 19</p>
77.	<p>In a bag, there are 8 red, 7 yellow and 6 green balls. If one ball is picked up at random, what is the probability that it is neither red nor green ?</p> <p>(1) 1/2 (2) 1/8 (3) 1/3 (4) 1/7</p> <p>एक थैले में 8 लाल, 7 पीली और 6 हरी गेंदें हैं। अगर बेतरतीब ढंग से एक गेंद उठाई जाए तो क्या सम्भावना है कि वो गेंद न लाल हो और न हरी ?</p> <p>(1) 1/2 (2) 1/8 (3) 1/3 (4) 1/7</p>

Question No.	Questions
80.	<p>Fill the series 2, 4, 12, 48, 240,</p> <p>(1) 480 (2) 720</p> <p>(3) 960 (4) 1440</p> <p>इस अंक श्रृंखला को पूरा करें 2, 4, 12, 48, 240,</p> <p>(1) 480 (2) 720</p> <p>(3) 960 (4) 1440</p>
81.	<p>Which of the following is true</p> <p>(1) Total revenue is maximum when average revenue is maximum</p> <p>(2) Total revenue is maximum when marginal revenue is maximum</p> <p>(3) Total revenue is maximum when average revenue is minimum</p> <p>(4) Total revenue is maximum when marginal revenue is zero</p> <p>नीचे दिए कथनों में से कौन-सा कथन सही है ?</p> <p>(1) कुल आमदनी तभी अधिकतम होती है जब औसत आमदनी अधिकतम हो</p> <p>(2) कुल आमदनी तभी अधिकतम होती है जब सीमांत आमदनी अधिकतम हो</p> <p>(3) कुल आमदनी तभी अधिकतम होती है जब औसत आमदनी न्यूनतम हो</p> <p>(4) कुल आमदनी तभी अधिकतम होती है जब सीमांत आमदनी सिफर हो</p>

Question No.	Questions
82.	<p>At the break-even point :</p> <ol style="list-style-type: none"> (1) The firm is incurring losses but average revenue is greater than the average variable cost (2) The firm is incurring losses but average revenue is just equal to the the average variable cost (3) The firm is incurring losses but average revenue is lower than the average variable cost (4) The firm is getting just equal to its total cost <p>ब्रेक-ईवन बिन्दु पर</p> <ol style="list-style-type: none"> (1) फर्म नुकसान झेल रही होती है पर उसकी औसत आमदन औसत परिवर्तनशील लागत से अधिक होती है (2) फर्म नुकसान झेल रही होती है पर उसकी औसत आमदन औसत परिवर्तनशील लागत के बराबर होती है (3) फर्म नुकसान झेल रही होती है पर उसकी औसत आमदन औसत परिवर्तनशील लागत से कम होती है (4) फर्म को बस कुल लागत के बराबर ही आमदन प्राप्त हो रही होती है
83.	<p>Which of the following is not a feature of perfect competition ?</p> <ol style="list-style-type: none"> (1) Perfect knowledge (2) Perfect mobility (3) Infinite number of buyers (4) Selling cost <p>निम्नलिखित में से कौन-सा पूर्ण मुकाबले का लक्षण नहीं माना जाता ?</p> <ol style="list-style-type: none"> (1) पूर्ण ज्ञान (2) पूर्ण गतिशीलता (3) खरीदारों की अनन्त संख्या (4) बिक्री लागत

Question No.	Questions
84.	<p>Which of the following is not true under perfect competition ?</p> <ol style="list-style-type: none">(1) The firm is price taker(2) Industry is price maker(3) The firm can bear losses in the short term(4) The firm always enjoy supernormal profits in the long run <p>निम्नलिखित में से कौन-सा कथन पूर्ण मुकाबले के अन्तर्गत सही नहीं है ?</p> <ol style="list-style-type: none">(1) फर्म कीमत निर्धारण नहीं कर सकती(2) उद्योग कीमत निर्धारण करता है(3) फर्म को थोड़े समय में हानियां सहनी पड़ सकती हैं(4) लम्बे समय में फर्म को हमेशा आसाधारण लाभ होते हैं
85.	<p>Under the price discrimination of the first degree</p> <ol style="list-style-type: none">(1) Whole of the consumer surplus is taken by the monopolist(2) Only the marginal units of each group have zero consumer surplus(3) The market is divided on basis of elasticity of demand(4) All of the above <p>पहले दर्जे के कीमत विभेद के अंतर्गत</p> <ol style="list-style-type: none">(1) एकाधिकारी उपभोगी का पूर्ण अधिशेष हड़प लेता है(2) किसी भी जनसंख्या समूह की केवल सीमांत इकाइयों का उपभोक्ता अधिशेष होता है(3) पूरी मण्डी को माँग की लोच के आधार पर विभिन्न वर्गों में बाँटा जाता है(4) उपरोक्त सभी

Question No.	Questions
86.	<p>Monopoly power is defined as</p> <p>(1) $(AR - MR)/AR$ (2) $1 - AR/MR$</p> <p>(3) MR/MC (4) MC/MR</p> <p>एकाधिकारी शक्ती के माप के लिए निम्न में से कौन सा सूत्र सही है ?</p> <p>(1) (औसत आमदनी-सीमांत आमदनी)/औसत आमदनी</p> <p>(2) $1 -$ औसत आमदनी/सीमांत आमदनी</p> <p>(3) सीमांत आमदनी/सीमांत लागत</p> <p>(4) सीमांत लागत/सीमांत आमदनी</p>
87.	<p>Excess capacity shows :</p> <p>(1) The difference of actual output and equilibrium output</p> <p>(2) Difference of minimum and maximum output</p> <p>(3) Difference of equilibrium output and minimum cost output</p> <p>(4) None of the above</p> <p>निम्न में से अतिरिक्त सामर्थ्य कैसे मापा जा सकता है ?</p> <p>(1) असल और संतुलन वाले उत्पादन के अन्तर से</p> <p>(2) न्यूनतम और अधिकतम उत्पादन के अन्तर से</p> <p>(3) संतुलन वाले उत्पादन और न्यूनतम लागत वाले उत्पादन में अन्तर से</p> <p>(4) उपरोक्त में से कोई भी नहीं</p>


Question No.	Questions
88.	<p>A kink in demand curve under oligopoly shows that</p> <ol style="list-style-type: none">(1) Demand is more elastic for a rise in price(2) Demand is less elastic for a fall in price(3) Both (1) and (2)(4) Neither (1) nor (2) <p>अल्पाधिकार में गाँठदार (किंकी) मांग वक्र क्या दर्शाता है ?</p> <ol style="list-style-type: none">(1) कीमत के बढ़ने से मांग की लचक बढ़ती है(2) कीमत के घटने से मांग की लचक घटती है(3) (1) तथा (2) दोनों(4) न तो (1) न ही (2)
89.	<p>Asymmetric information refers to a situation when</p> <ol style="list-style-type: none">(1) Nobody has the perfect information(2) Everybody has the perfect information(3) One party has the greater information than the other(4) No information at all <p>असममित सूचना का एक ऐसी स्थिति को दर्शाती है जब</p> <ol style="list-style-type: none">(1) किसी को भी पूर्ण ज्ञान न हो(2) सब को पूर्ण ज्ञान हो(3) एक पक्ष को दूसरे से ज्यादा ज्ञान हो(4) कोई भी सूचना उपलब्ध न हो

Question No.	Questions
90.	<p>The innovation theory of profit was given by</p> <p>(1) Hall and Hitch (2) Marshall (3) Cournot (4) Schumpeter</p> <p>लाभ का नवाचार सिद्धान्त किस ने दिया था ?</p> <p>(1) हॉल और हिच ने (2) मार्शल ने (3) कॉर्नो ने (4) शुम्पीटर ने</p>
91.	<p>When a market failure occurs due to the reason that the user of the public resources do not pay for them, its called</p> <p>(1) The problem of market structures (2) The problem of fiscal deficit (3) The free rider problem (4) The hijacker problem</p> <p>जब मण्डी इस लिए विफल होती है क्योंकि किसी सार्वजनिक साधन को इस्तेमाल करने वाले के द्वारा उसका मूल्य अदा नहीं किया जाता, तो इसे क्या कहा जाता है</p> <p>(1) मण्डी के ढाँचे की समस्या (2) राजकोषीय घाटे की समस्या (3) मुफ्तखोरी की समस्या (4) लूट-पाट की समस्या</p>
92.	<p>A resource is called a renewable resource if</p> <p>(1) It can be replenished (2) It can not be reused (3) It has become outdated (4) It is no longer in use in the economy</p> <p>किसी भी संसाधन को नवीकरणीय संसाधन कहा जा सकता है अगर</p> <p>(1) उसको पुनर्जीवित किया जा सके (2) उसको दोबारा इस्तेमाल न किया जा सके (3) वो साधन पुराना पड़ चुका हो (4) उस साधन की अर्थव्यवस्था में कोई ज़रूरत न रही हो</p>

Question No.	Questions
93.	<p>Sustainable development refers to</p> <ol style="list-style-type: none"> (1) A constant rate of growth, for present generation (2) A growth without government assistance for present generation at the cost of future generation (3) Higher growth for future generation at the sacrifice of needs of the present generation (4) A growth in present times without sacrificing the needs of the future generation <p>सतत विकास का अर्थ है</p> <ol style="list-style-type: none"> (1) वर्तमान पीढ़ी के लिए एक स्थिर विकास की दर (2) भविष्य की पीढ़ी की लागत पर, बिना सरकार की सहायता के प्राप्त की गई वर्तमान पीढ़ी की आर्थिक विकास दर (3) वर्तमान पीढ़ी की ज़रूरतों के त्याग से हासिल की जाने वाली भविष्य की पीढ़ी के लिए बेहतर आर्थिक विकास दर (4) भविष्य की पीढ़ी की ज़रूरतों के त्याग के बिना हासिल की गई वर्तमान समय की आर्थिक विकास दर
94.	<p>The UN conference on sustainable development is also known as</p> <ol style="list-style-type: none"> (1) Rio 2000 (2) Rio 2010 (3) Rio 2012 (4) Rio 2015 <p>सतत विकास की संयुक्त राष्ट्र संघ की कॉन्फ्रेंस को और किस नाम से जाना जाता है ?</p> <ol style="list-style-type: none"> (1) रियो 2000 (2) रियो 2010 (3) रियो 2012 (4) रियो 2015

Question No.	Questions
95.	<p>The Brundtland Commission Report referred to</p> <p>(1) Industrial development (2) Agricultural development (3) Sustainable development (4) Trade and development</p> <p>ब्रन्टलैंड कमिशन की रिपोर्ट किस से सम्बन्धित है ?</p> <p>(1) औद्योगिक विकास से (2) खेती के विकास से (3) सतत विकास से (4) व्यापार और विकास से</p>
96.	<p>When national income accounts incorporate the environment cost and natural resources, it is termed as</p> <p>(1) Social accounting (2) Grey accounting (3) Sustainable accounting (4) Green accounting</p> <p>जब राष्ट्रीय आमदनी लेखे में पर्यावरण की लागत और कुदरती संसाधनों को शामिल किया जाता है, तो इसे क्या कहा जाता है ?</p> <p>(1) समाजिक लेखांकन (2) स्लेटी लेखांकन (3) सतत लेखांकन (4) हरित लेखांकन</p>
97.	<p>The environment-Kuznet curve is</p> <p>(1) U-shaped (2) Upward sloping (3) Downward sloping (4) Inverted U-shaped</p> <p>कुज़नेट के पर्यावरण वक्र का आकार क्या होता है ?</p> <p>(1) अंग्रेज़ी भाषा के यू जैसा (2) ऊपर की तरफ बढ़ता हुआ (3) नीचे की तरफ गिरता हुआ (4) अंग्रेज़ी भाषा के यू का उलट</p>

Question No.	Questions
98.	<p>The recognition of the close link between an organisation's decisions and their impact on the natural environment is called</p> <p>(1) Global environment (2) Greening of management (3) Social responsibility (4) None of the above</p> <p>किसी संगठन के फैसले से पर्यावरण पर होने वाले प्रभाव के निकट सम्बन्ध की पहचान करने की प्रक्रिया को क्या नाम दिया जाता है ?</p> <p>(1) वैश्विक पर्यावरण (2) प्रबन्धन का हरितन (कायाकल्प) (3) समाजिक जिम्मेदारी (4) उपरोक्त में से कोई भी नहीं</p>
99.	<p>Which of the following phenomenon is associated with global warming</p> <p>(1) Southern oscillations (2) El Nino (3) La Nina (4) El Nino Modoki</p> <p>निम्नलिखित में से कौन सी घटना वैश्विक तापन से सम्बन्धित है ?</p> <p>(1) दक्षिण के उतार-चढ़ाव (2) एल नीनो (3) ला नीना (4) एल नीनो मोदोकी</p>
100.	<p>When did the Forest Conservation Act came in to force in India</p> <p>(1) 25 October, 1986 (2) 25 October, 1980 (3) 25 October, 1972 (4) 25 October, 1990</p> <p>भारत में वन संरक्षण अधिनियम कब लागू हुआ ?</p> <p>(1) 25 अक्तूबर, 1986 (2) 25 अक्तूबर, 1980 (3) 25 अक्तूबर, 1972 (4) 25 अक्तूबर, 1990</p>



SET-X

(Total No. of printed pages : 42)

DO NOT OPEN THIS QUESTION BOOKLET BEFORE TIME OR UNTIL YOU ARE ASKED TO DO SO)

(PG-EE-2022)

Code

D

ECONOMICS

Sr. No. 10020

Time : 1½ Hours

Total Questions : 100

Max. Marks : 100

Roll No. _____ (in figure) _____ (in words)

Name : _____ Father's Name : _____

Mother's Name : _____ Date of Examination : _____

(Signature of the candidate)

(Signature of the Invigilator)

**CANDIDATES MUST READ THE FOLLOWING INFORMATION/
INSTRUCTIONS BEFORE STARTING THE QUESTION PAPER.**

1. All questions are compulsory.
2. The candidates must return the Question book-let as well as OMR answer-sheet to the Invigilator concerned before leaving the Examination Hall, failing which a case of use of unfair-means / mis-behaviour will be registered against him / her, in addition to lodging of an FIR with the police. Further the answer-sheet of such a candidate will not be evaluated.
3. Keeping in view the transparency of the examination system, carbonless OMR Sheet is provided to the candidate so that a copy of OMR Sheet may be kept by the candidate.
4. Question Booklet along with answer key of all the A,B,C and D code will be uploaded on the university website after the conduct of Entrance Examination. In case there is any discrepancy in the Question Booklet/Answer Key, the same may be brought to the notice of the Controller of Examinations in writing within 24 hours of uploading the same on the University Website. Thereafter, no complaint in any case, will be considered.
5. The candidate **MUST NOT** do any rough work or writing in the OMR Answer-Sheet. Rough work, if any, may be done in the question book-let itself. Answers **MUST NOT** be ticked in the Question book-let.
6. There will be no negative marking. Each correct answer will be awarded one full mark. Cutting, erasing, overwriting and more than one answer in OMR Answer-Sheet will be treated as incorrect answer.
7. Use only Black or Blue **BALL POINT PEN** of good quality in the OMR Answer-Sheet.
8. **BEFORE ANSWERING THE QUESTIONS, THE CANDIDATES SHOULD ENSURE THAT THEY HAVE BEEN SUPPLIED CORRECT AND COMPLETE BOOK-LET. COMPLAINTS, IF ANY, REGARDING MISPRINTING ETC. WILL NOT BE ENTERTAINED 30 MINUTES AFTER STARTING OF THE EXAMINATION.**





Question No.	Questions
1.	<p>Which of the following is true</p> <p>(1) Total revenue is maximum when average revenue is maximum</p> <p>(2) Total revenue is maximum when marginal revenue is maximum</p> <p>(3) Total revenue is maximum when average revenue is minimum</p> <p>(4) Total revenue is maximum when marginal revenue is zero</p> <p>नीचे दिए कथनों में से कौन-सा कथन सही है ?</p> <p>(1) कुल आमदनी तभी अधिकतम होती है जब औसत आमदनी अधिकतम हो</p> <p>(2) कुल आमदनी तभी अधिकतम होती है जब सीमांत आमदनी अधिकतम हो</p> <p>(3) कुल आमदनी तभी अधिकतम होती है जब औसत आमदनी न्यूनतम हो</p> <p>(4) कुल आमदनी तभी अधिकतम होती है जब सीमांत आमदनी सिफर हो</p>
2.	<p>At the break-even point :</p> <p>(1) The firm is incurring losses but average revenue is greater than the average variable cost</p> <p>(2) The firm is incurring losses but average revenue is just equal to the the average variable cost</p> <p>(3) The firm is incurring losses but average revenue is lower than the average variable cost</p> <p>(4) The firm is getting just equal to its total cost</p> <p>ब्रेक-ईवन बिन्दु पर</p> <p>(1) फर्म नुकसान झेल रही होती है पर उसकी औसत आमदन औसत परिवर्तनशील लागत से अधिक होती है</p> <p>(2) फर्म नुकसान झेल रही होती है पर उसकी औसत आमदन औसत परिवर्तनशील लागत के बराबर होती है</p> <p>(3) फर्म नुकसान झेल रही होती है पर उसकी औसत आमदन औसत परिवर्तनशील लागत से कम होती है</p> <p>(4) फर्म को बस कुल लागत के बराबर ही आमदन प्राप्त हो रही होती है</p>

Question No.	Questions
3.	<p>Which of the following is not a feature of perfect competition ?</p> <p>(1) Perfect knowledge (2) Perfect mobility (3) Infinite number of buyers (4) Selling cost</p> <p>निम्नलिखित में से कौन-सा पूर्ण मुकाबले का लक्षण नहीं माना जाता ?</p> <p>(1) पूर्ण ज्ञान. (2) पूर्ण गतिशीलता (3) खरीदारों की अनन्त संख्या (4) बिक्री लागत</p>
4.	<p>Which of the following is not true under perfect competition ?</p> <p>(1) The firm is price taker (2) Industry is price maker (3) The firm can bear losses in the short term (4) The firm always enjoy supernormal profits in the long run</p> <p>निम्नलिखित में से कौन-सा कथन पूर्ण मुकाबले के अन्तर्गत सही नहीं है ?</p> <p>(1) फर्म कीमत निर्धारण नहीं कर सकती (2) उद्योग कीमत निर्धारण करता है (3) फर्म को थोड़े समय में हानियां सहनी पड़ सकती हैं (4) लम्बे समय में फर्म को हमेशा आसाधारण लाभ होते हैं</p>
5.	<p>Under the price discrimination of the first degree</p> <p>(1) Whole of the consumer surplus is taken by the monopolist (2) Only the marginal units of each group have zero consumer surplus (3) The market is divided on basis of elasticity of demand (4) All of the above</p> <p>पहले दर्जे के कीमत विभेद के अंतर्गत</p> <p>(1) एकाधिकारी उपभोगी का पूर्ण अधिशेष हड़प लेता है (2) किसी भी जनसंख्या समूह की केवल सीमांत इकाइयों का उपभोक्ता अधिशेष होता है (3) पूरी मण्डी को माँग की लोच के आधार पर विभिन्न वर्गों में बाँटा जाता है (4) उपरोक्त सभी</p>

Question No.	Questions
6.	<p>Monopoly power is defined as</p> <p>(1) $(AR - MR)/AR$ (2) $1 - AR/MR$ (3) MR/MC (4) MC/MR</p> <p>एकाधिकारी शक्ती के माप के लिए निम्न में से कौन सा सूत्र सही है ?</p> <p>(1) $(\text{औसत आमदनी}-\text{सीमांत आमदनी})/\text{औसत आमदनी}$ (2) $1 - \text{औसत आमदनी}/\text{सीमांत आमदनी}$ (3) $\text{सीमांत आमदनी}/\text{सीमांत लागत}$ (4) $\text{सीमांत लागत}/\text{सीमांत आमदनी}$</p>
7.	<p>Excess capacity shows :</p> <p>(1) The difference of actual output and equilibrium output (2) Difference of minimum and maximum output (3) Difference of equilibrium output and minimum cost output (4) None of the above</p> <p>निम्न में से अतिरिक्त सामर्थ्य कैसे मापा जा सकता है ?</p> <p>(1) असल और संतुलन वाले उत्पादन के अन्तर से (2) न्यूनतम और अधिकतम उत्पादन के अन्तर से (3) संतुलन वाले उत्पादन और न्यूनतम लागत वाले उत्पादन में अन्तर से (4) उपरोक्त में से कोई भी नहीं</p>

Question No.	Questions
8.	<p>A kink in demand curve under oligopoly shows that</p> <ol style="list-style-type: none">(1) Demand is more elastic for a rise in price(2) Demand is less elastic for a fall in price(3) Both (1) and (2)(4) Neither (1) nor (2) <p>अल्पाधिकार में गाँठदार (किंकी) मांग वक्र क्या दर्शाता है ?</p> <ol style="list-style-type: none">(1) कीमत के बढ़ने से मांग की लचक बढ़ती है(2) कीमत के घटने से मांग की लचक घटती है(3) (1) तथा (2) दोनों(4) न तो (1) न ही (2)
9.	<p>Asymmetric information refers to a situation when</p> <ol style="list-style-type: none">(1) Nobody has the perfect information(2) Everybody has the perfect information(3) One party has the greater information than the other(4) No information at all <p>असममित सूचना का एक ऐसी स्थिति को दर्शाती है जब</p> <ol style="list-style-type: none">(1) किसी को भी पूर्ण ज्ञान न हो(2) सब को पूर्ण ज्ञान हो(3) एक पक्ष को दूसरे से ज्यादा ज्ञान हो(4) कोई भी सूचना उपलब्ध न हो

Question No.	Questions
10.	<p>The innovation theory of profit was given by</p> <p>(1) Hall and Hitch (2) Marshall</p> <p>(3) Cournot (4) Schumpeter</p> <p>लाभ का नवाचार सिद्धान्त किस ने दिया था ?</p> <p>(1) हॉल और हिच ने (2) मार्शल ने</p> <p>(3) कॉर्नो ने (4) शुम्पीटर ने</p>
11.	<p>A petal is to flower as</p> <p>(1) Tyre - bicycle (2) Puppy - dog</p> <p>(3) Salt - pepper (4) All of the above</p> <p>जैसे एक पंखुड़ी का सम्बंध फूल से है, वैसे</p> <p>(1) टायर का बाइसाइकल से (2) पिल्ले का कुत्ते से</p> <p>(3) नमक का काली मिर्च से (4) उपरोक्त सभी</p>
12.	<p>Pointing towards a girl, A man said, "She is the daughter of only son of my grandfather". How is that man related to the girl ?</p> <p>(1) Brother (2) Father</p> <p>(3) Uncle (4) Cousin</p> <p>-एक लड़की की तरफ इशारा करते हुए आदमी ने कहा 'वो मेरे दादा के इकलौते बेटे की बेटी है'। वो आदमी उस लड़की का रिश्ते में क्या लगता है ?</p> <p>(1) भाई (2) पिता</p> <p>(3) चाचा (4) चचेरा भाई</p>

Question No.	Questions
16.	$[(3/8 \times 14/2) \div (2.5 - 0.8)]^2 = ?$ (1) 2.4 (2) 1.54 (3) 2.25 (4) 2.78 $[(3/8 \times 14/2) \div (2.5 - 0.8)]^2 = ?$ (1) 2.4 (2) 1.54 (3) 2.25 (4) 2.78
17.	<p>Pankaj is in the East of Ram and Ram is in the North of Jagat. Mani is in the South of Jagat then in which direction of Pankaj is Mani ?</p> (1) South-East (2) South-West (3) South (4) North-East <p>पंकज राम के पूर्व में खड़ा है और राम, जगत के उत्तर में। मनी जगत के दक्षिण में खड़ा है तो मनी पंकज की किस दिशा में खड़ा होगा ?</p> (1) दक्षिण-पूर्व (2) दक्षिण-पश्चिम (3) दक्षिण (4) उत्तर-पूर्व
18.	<p>If DELHI is written as WVOSR then GOA will be</p> (1) HPB (2) IQC (3) TLZ (4) AGH <p>अगर हम DELHI को WVOSR लिखें तो GOA को कैसे लिखा जाएगा ?</p> (1) HPB (2) IQC (3) TLZ (4) AGH

Question No.	Questions
19.	<p>A cube is coloured red on all faces. If it is divided in to 64 small equal sized cubes, then how many cubes will have three red faces</p> <p>(1) 0 (2) 4 (3) 6 (4) 8</p> <p>एक घन टुकड़ी के सारे पासे लाल रंग के हैं। अगर इसको 64 छोटे बराबर टुकड़ों में बाँट दिया जाये, तो कितने घन टुकड़ों के तीन पासे लाल होंगे ?</p> <p>(1) 0 (2) 4 (3) 6 (4) 8</p>
20.	<p>$\frac{\log \sqrt{7}}{\log 7} = ?$</p> <p>(1) 1/2 (2) 7 (3) 1/7 (4) 49</p> <p>$\frac{\log \sqrt{7}}{\log 7} = ?$</p> <p>(1) 1/2 (2) 7 (3) 1/7 (4) 49</p>

Question No.	Questions
21.	<p>In India the Planning Commission used to define the poverty line, mainly on basis of</p> <p>(1) Nutritional requirements (2) Per capita income (3) Monthly per capita consumption expenditure (4) Employment earnings</p> <p>भारत का योजना आयोग गरीबी रेखा को मुख्यतः किस आधार पर परिभाषित करता था ?</p> <p>(1) पोषक ज़रूरतों के आधार पर (2) प्रति व्यक्ति आमदनी के आधार पर (3) प्रति व्यक्ति माहवार उपभोग खर्च के आधार पर (4) रोज़गार से प्राप्त आमदनी के आधार पर</p>
22.	<p>When was MGNREGA launched in India ?</p> <p>(1) February, 2005 (2) February, 2006 (3) February, 2004 (4) February, 2014</p> <p>भारत में मनरेगा कब शुरू किया गया था ?</p> <p>(1) फरवरी, 2005 (2) फरवरी, 2006 (3) फरवरी, 2004 (4) फरवरी, 2014</p>
23.	<p>The unemployment rate refers to</p> <p>(1) Proportion of unemployed in total population (2) Proportion of unemployed in total work force (3) Proportion of unemployed in total labour force (4) Ratio of unemployed to employed</p> <p>बेरोज़गारी की दर का अर्थ है</p> <p>(1) कुल जनसंख्या में बेरोज़गारों का अनुपात (2) कुल कार्यबल में बेरोज़गारों का अनुपात (3) कुल श्रमबल में बेरोज़गारों का अनुपात (4) कुल बेरोज़गारों और रोज़गार प्राप्त लोगों का अनुपात</p>

Question No.	Questions
24.	<p>During the last many labour force surveys, which state has the largest unemployment rate among all the age groups ?</p> <p>(1) Nagaland (2) Kerala (3) West Bengal (4) Punjab</p> <p>पिछले कई श्रमबल सर्वेक्षणों में सभी आयु वर्गों में कौन से राज्य की बेराजगारी की दर सबसे ज्यादा है ?</p> <p>(1) नागालैंड (2) केरल (3) पश्चिम बंगाल (4) पंजाब</p>
25.	<p>The nutrition based poverty line for rural areas refers to the calories consumption less than</p> <p>(1) 2400 calories (2) 2100 calories (3) 3500 calories (4) 1800 calories</p> <p>पोषक ज़रूरतों पर आधारित देहाती क्षेत्रों हेतु गरीबी रेखा कितनी कैलोरीज के उपभोग से नीचे आँकी जाती है ?</p> <p>(1) 2400 कैलोरीज (2) 2100 कैलोरीज (3) 3500 कैलोरीज (4) 1800 कैलोरीज</p>
26.	<p>Who is known as the father of Indian green revolution ?</p> <p>(1) Jawahar Lal Nehru (2) Swami Vivekanand (3) M.S. Swaminathan (4) N.E. Borlaug</p> <p>भारतीय हरित क्रांति का पितामह किसको माना जाता है ?</p> <p>(1) जवाहरलाल नेहरू (2) स्वामी विवेकानन्द (3) एम. एस. स्वामीनाथन (4) एन. ई. बोरलॉग</p>

Question No.	Questions
27.	<p>Initially the green revolution was concentrated in the states</p> <p>(1) Punjab, Haryana and U.P. (2) Punjab, H.P. and U.P. (3) Punjab, Haryana and M.P. (4) Haryana, H.P. and U.P.</p> <p>शुरुआती दौर में हरित क्रांति कौन से राज्यों तक सीमित थी ?</p> <p>(1) पंजाब, हरियाणा और उत्तर प्रदेश (2) पंजाब, हिमाचल प्रदेश और उत्तर प्रदेश (3) पंजाब, हरियाणा और मध्य प्रदेश (4) हरियाणा, हिमाचल प्रदेश और उत्तर प्रदेश</p>
28.	<p>Who introduced the Farmers (Empowerment and Protection) Agreement on Price Assurance and Farm Services Bill, 2020 and Farmers' Produce Trade and Commerce (Promotion and Facilitation) Bill, 2020 in the Indian Parliament ?</p> <p>(1) Narendra Modi (2) Narendra Tomar (3) Kailash Choudhary (4) Amit Shah</p> <p>भारतीय संसद में किसने कीमत आश्वासन और किसान सेवाओं का किसान (सशक्तिकरण और सुरक्षा) समझौता बिल, 2020 और किसानों की उपज के व्यापार तथा वाणिज्य (बढ़ावा और सहूलियत) बिल, 2020 पेश किए थे ?</p> <p>(1) नरेन्द्र मोदी (2) नरेन्द्र तोमर (3) कैलाश चौधरी (4) अमित शाह</p>
29.	<p>When agriculture was included in WTO agreements ?</p> <p>(1) 1995 (2) 2000 (3) 2005 (4) 2010</p> <p>विश्व व्यापार संगठन के समझौते में खेती क्षेत्र को कब शामिल किया गया था ?</p> <p>(1) 1995 (2) 2000 (3) 2005 (4) 2010</p>

Question No.	Questions
33.	<p>Sustainable development refers to</p> <ol style="list-style-type: none"> (1) A constant rate of growth, for present generation (2) A growth without government assistance for present generation at the cost of future generation (3) Higher growth for future generation at the sacrifice of needs of the present generation (4) A growth in present times without sacrificing the needs of the future generation <p>सतत विकास का अर्थ है</p> <ol style="list-style-type: none"> (1) वर्तमान पीढ़ी के लिए एक स्थिर विकास की दर (2) भविष्य की पीढ़ी की लागत पर, बिना सरकार की सहायता के प्राप्त की गई वर्तमान पीढ़ी की आर्थिक विकास दर (3) वर्तमान पीढ़ी की ज़रूरतों के त्याग से हासिल की जाने वाली भविष्य की पीढ़ी के लिए बेहतर आर्थिक विकास दर (4) भविष्य की पीढ़ी की ज़रूरतों के त्याग के बिना हासिल की गई वर्तमान समय की आर्थिक विकास दर
34.	<p>The UN conference on sustainable development is also known as</p> <ol style="list-style-type: none"> (1) Rio 2000 (2) Rio 2010 (3) Rio 2012 (4) Rio 2015 <p>सतत विकास की संयुक्त राष्ट्र संघ की कॉन्फ्रेंस को और किस नाम से जाना जाता है ?</p> <ol style="list-style-type: none"> (1) रियो 2000 (2) रियो 2010 (3) रियो 2012 (4) रियो 2015

Question No.	Questions
35.	<p>The Brundtland Commission Report referred to</p> <p>(1) Industrial development (2) Agricultural development (3) Sustainable development (4) Trade and development</p> <p>ब्रन्टलैंड कमिशन की रिपोर्ट किस से सम्बन्धित है ?</p> <p>(1) औद्योगिक विकास से (2) खेती के विकास से (3) सतत विकास से (4) व्यापार और विकास से</p>
36.	<p>When national income accounts incorporate the environment cost and natural resources, it is termed as</p> <p>(1) Social accounting (2) Grey accounting (3) Sustainable accounting (4) Green accounting</p> <p>जब राष्ट्रीय आमदनी लेखे में पर्यावरण की लागत और कुदरती संसाधनों को शामिल किया जाता है, तो इसे क्या कहा जाता है ?</p> <p>(1) समाजिक लेखांकन (2) स्लेटी लेखांकन (3) सतत लेखांकन (4) हरित लेखांकन</p>
37.	<p>The environment-Kuznet curve is</p> <p>(1) U-shaped (2) Upward sloping (3) Downward sloping (4) Inverted U-shaped</p> <p>कुज़नेट के पर्यावरण वक्र का आकार क्या होता है ?</p> <p>(1) अंग्रेजी भाषा के यू जैसा (2) ऊपर की तरफ बढ़ता हुआ (3) नीचे की तरफ गिरता हुआ (4) अंग्रेजी भाषा के यू का उलट</p>

Question No.	Questions
38.	<p>The recognition of the close link between an organisation's decisions and their impact on the natural environment is called</p> <p>(1) Global environment (2) Greening of management (3) Social responsibility (4) None of the above</p> <p>किसी संगठन के फैसले से पर्यावरण पर होने वाले प्रभाव के निकट सम्बन्ध की पहचान करने की प्रक्रिया को क्या नाम दिया जाता है ?</p> <p>(1) वैश्विक पर्यावरण (2) प्रबन्धन का हरितन (कायाकल्प) (3) समाजिक जिम्मेदारी (4) उपरोक्त में से कोई भी नहीं</p>
39.	<p>Which of the following phenomenon is associated with global warming</p> <p>(1) Southern oscillations (2) El Nino (3) La Nina (4) El Nino Modoki</p> <p>निम्नलिखित में से कौन सी घटना वैश्विक तापन से सम्बन्धित है ?</p> <p>(1) दक्षिण के उत्तार-चढ़ाव (2) एल नीनो (3) ला नीना (4) एल नीनो मोदोकी</p>
40.	<p>When did the Forest Conservation Act came in to force in India</p> <p>(1) 25 October, 1986 (2) 25 October, 1980 (3) 25 October, 1972 (4) 25 October, 1990</p> <p>भारत में वन संरक्षण अधिनियम कब लागू हुआ ?</p> <p>(1) 25 अक्तूबर, 1986 (2) 25 अक्तूबर, 1980 (3) 25 अक्तूबर, 1972 (4) 25 अक्तूबर, 1990</p>

Question No.	Questions
41.	<p>Positive net exports lead to</p> <ul style="list-style-type: none">(1) A rightward shift in aggregate supply(2) A leftward shift in aggregate supply(3) A rightward shift in aggregate demand(4) A leftward shift in aggregate demand <p>निवल निर्यात में धनात्मक तबदीली से</p> <ul style="list-style-type: none">(1) कुल पूर्ति दाईं तरफ खिसक जाती है(2) कुल पूर्ति बाईं तरफ खिसक जाती है(3) कुल मांग दाईं तरफ खिसक जाती है(4) कुल मांग बाईं तरफ खिसक जाती है
42.	<p>If the total receipts are less than the total expenditure of the government, the deficit is called</p> <ul style="list-style-type: none">(1) Fiscal deficit(2) Budget deficit(3) Revenue deficit(4) Income deficit <p>अगर सरकारी आमदनी की प्राप्तियां सरकारी खर्चों से कम हो तो घाटे को क्या कहा जाता है ?</p> <ul style="list-style-type: none">(1) राजकोषीय घाटा(2) बजट घाटा(3) राजस्व घाटा(4) आमदनी घाटा

Question No.	Questions
43.	<p>The value of multiplier can be found by :</p> <p>(1) Change in investment/change in income</p> <p>(2) $1/(1 - MPC)$</p> <p>(3) $1/MPC$</p> <p>(4) $1/(1 - MPS)$</p> <p>गुणक को नीचे दिए किस सूत्र से मापा जा सकता है ?</p> <p>(1) निवेश में तबदीली/आमदनी में तबदीली</p> <p>(2) $1/(1 - उपभोग की सीमांत प्रवृत्ति)$</p> <p>(3) $1/(उपभोग की सीमांत प्रवृत्ति)$</p> <p>(4) $1/(1 - बचत की सीमांत प्रवृत्ति)$</p>
44.	<p>In the short period the aggregate supply curve</p> <p>(1) Can be shifted to the rightward direction with help of the fixed factors only</p> <p>(2) Can be shifted to the rightward direction with help of the variable factors only</p> <p>(3) Can be shifted to the rightward direction with help of both the fixed and the variable factors</p> <p>(4) Can not be shifted at all</p> <p>थोड़े समय में पूर्ति वक्र को</p> <p>(1) सिर्फ स्थिर साधन को बढ़ा कर दाईं ओर खिसकाया जा सकता है</p> <p>(2) सिर्फ परिवर्तनशील साधन को बढ़ा कर दाईं तरफ खिसकाया जा सकता है</p> <p>(3) स्थिर और परिवर्तनशील दोनों साधनों को बढ़ा कर दाईं तरफ खिसकाया जा सकता है</p> <p>(4) बिलकुल ही नहीं खिसकाया जा सकता</p>

Question No.	Questions
45.	<p>The intersection of aggregate supply and aggregate demand shows</p> <p>(1) Full employment (2) Equilibrium of the market (3) Equilibrium of a firm (4) Effective demand</p> <p>कुल मांग और कुल पूर्ति का प्रतिच्छेद क्या दर्शाता है ?</p> <p>(1) पूर्ण रोजगार (2) मण्डी का सन्तुलन (3) किसी फर्म का सन्तुलन (4) प्रभावी मांग</p>
46.	<p>In the theory of liquidity preference, the passive balances refer to</p> <p>(1) Speculative demand for money (2) Transaction demand for money (3) Precautionary demand for money (4) Both (2) and (3)</p> <p>तरलता तरजीह सिद्धान्त में अक्रियाशील बकाए दर्शाते हैं ?</p> <p>(1) मुद्रा के लिए परिकल्पनीय मांग को (2) लेनदेन के उद्देश्य के लिए मुद्रा की मांग को (3) एहतियाती उद्देश्य के लिए मुद्रा की मांग को (4) (2) और (3) दोनों</p>

Question No.	Questions
47.	<p>Samuelson's business cycles are based on</p> <ol style="list-style-type: none">(1) The interaction of multiplier and accelerator(2) Interaction of demand and supply(3) Elasticity of demand and supply(4) Interaction of government expenditure and revenue <p>सैम्यूलसन के व्यापार चक्र किस आधार पर दर्शाए जाते हैं ?</p> <ol style="list-style-type: none">(1) गुणक और त्वरक की अंतःक्रिया से(2) मांग और पूर्ति की अंतःक्रिया से(3) मांग और पूर्ति की लचक के हिसाब से(4) राजस्व और सरकारी खर्च की अंतःक्रिया से
48.	<p>The dirty floating refers to</p> <ol style="list-style-type: none">(1) Depreciation or appreciation of currency(2) Devaluation or revaluation of currency(3) Illegal exchange of currency(4) None of the above <p>मैली परिवर्तनशीलता का अर्थ है</p> <ol style="list-style-type: none">(1) करन्सी के मूल्य का हास या सुधार हो जाना(2) करन्सी के मूल्य में गिरावट या बढ़ोत्तरी करना(3) करन्सी का गैरकानूनी तरीके से विनिमय करना(4) उपरोक्त में से कोई भी नहीं

Question No.	Questions
49.	<p>The theory of comparative advantage is originally named after</p> <p>(1) J.S. Mill (2) Bo Sodersten (3) Heckscher and Ohlin (4) Edgeworth</p> <p>तुलनात्मक लाभ का सिद्धान्त मूलतः किसके नाम से जाना जाता है ?</p> <p>(1) जे. एस. मिल (2) बो सोदरस्टेन (3) हेक्शर और ओह्लिन (4) एज्वर्थ</p>
50.	<p>The incidence of an indirect tax falls on</p> <p>(1) Producer (2) Consumer (3) Wholesaler (4) Retailer</p> <p>अप्रत्यक्ष कर का भार किस पर पड़ता है ?</p> <p>(1) उत्पादक पर (2) उपभोगी पर (3) थोक विक्रेता पर (4) परचून विक्रेता पर</p>
51.	<p>The concept of real per capita income means that</p> <p>(1) Per capita income has been adjusted to the inflation rate (2) Per capita income minus taxes (3) Per capita income minus depreciation (4) Net profits of the production sector</p> <p>असल प्रति व्यक्ति आमदनी की अवधारणा का अर्थ है कि</p> <p>(1) प्रति व्यक्ति आमदनी को मुद्रास्फीति दर के लिए समायोजित कर दिया गया है (2) प्रति व्यक्ति आमदनी में से कर घटा दिए गए हैं (3) प्रति व्यक्ति आमदनी में से घिसावट को घटा दिया गया है (4) उत्पादन क्षेत्र के शुद्ध लाभ</p>

Question No.	Questions
52.	<p>National income is also known as</p> <p>(1) GDP at market prices (2) GNP at market prices (3) GNP at factor prices (4) NNP at factor prices</p> <p>राष्ट्रीय आमदनी को यह भी कहा जाता है</p> <p>(1) बाज़ार कीमतों पर सकल घरेलू उत्पाद (2) बाज़ार कीमतों पर सकल राष्ट्रीय उत्पाद (3) साधन कीमतों पर सकल राष्ट्रीय उत्पाद (4) साधन कीमतों पर निवल राष्ट्रीय उत्पाद</p>
53.	<p>In an economy the value of multiplier is higher if</p> <p>(1) Propensity to save is higher (2) Propensity to invest is higher (3) Propensity to consume is higher (4) All of the above</p> <p>किसी भी अर्थव्यवस्था में गुणक का मूल्य अधिक होता है अगर</p> <p>(1) बचत की प्रवृत्ति अधिक हो (2) निवेश की प्रवृत्ति अधिक हो (3) उपभोग की प्रवृत्ति अधिक हो (4) उपरोक्त सभी</p>

Question No.	Questions
54.	<p>The MPC is equal to APC, if</p> <ol style="list-style-type: none">(1) The MPC is constant(2) APC is at its minimum(3) APC is at its maximum(4) MPC is at its maximum <p>उपभोग की सीमांत प्रवृत्ति उपभोग की औसत प्रवृत्ति के बराबर होती है अगर</p> <ol style="list-style-type: none">(1) उपभोग की सीमांत प्रवृत्ति स्थिर है(2) उपभोग की औसत प्रवृत्ति अपने न्यूनतम पर है(3) उपभोग की औसत प्रवृत्ति अपने अधिकतम पर है(4) उपभोग की सीमांत प्रवृत्ति अपने अधिकतम पर है
55.	<p>Autonomous investment means</p> <ol style="list-style-type: none">(1) An investment which grows automatically(2) An investment which grows along with income(3) An investment which is independent of income(4) An investment which is independent of rate of interest <p>स्वचालित निवेश का अर्थ है</p> <ol style="list-style-type: none">(1) ऐसा निवेश जो अपने आप बढ़ता है(2) ऐसा निवेश जो आमदनी के साथ बढ़ता है(3) ऐसा निवेश जो आमदनी से मुक्त है(4) ऐसा निवेश जो ब्याज की दर से मुक्त है

Question No.	Questions
56.	<p>The unemployment allowance by the government is counted in :</p> <p>(1) Household income (2) Household consumption expenditure (3) Government expenditure (4) Investment expenditure</p> <p>सरकार द्वारा दिया गया बेरोजगारी भत्ता किसमें शामिल किया जाता है ?</p> <p>(1) घरेलू आमदनी में (2) घरेलू उपभोग खर्च में (3) सरकारी खर्च में (4) निवेश खर्च में</p>
57.	<p>The interest payments on foreign loans are counted in :</p> <p>(1) Balance of payments on current account (2) Balance of payments on capital account (3) Both (1) and (2) (4) Neither (1) nor (2)</p> <p>विदेशी कर्जों पर ब्याज की अदायगी किसमें शामिल की जाती है ?</p> <p>(1) चालू खाते के भुगतान शेष में (2) पूंजी खाते के भुगतान शेष में (3) (1) तथा (2) दोनों (4) न तो (1) न ही (2)</p>
58.	<p>The effective demand necessarily refers to</p> <p>(1) Actual demand (2) Desired demand (3) Aggregate demand just equal to aggregate supply (4) Demand at the level of full employment</p> <p>प्रभावी मांग किस धारणा की तरफ इशारा करती है ?</p> <p>(1) असल मांग (2) वांछित मांग (3) कुल मांग का कुल पूर्ति के बिलकुल बराबर होना (4) पूर्ण रोजगार की स्थिति में होने वाली मांग</p>

Question No.	Questions
59.	<p>If MPC = MPS, then the value of multiplier is</p> <p>(1) Zero (2) One (3) Two (4) Infinite</p> <p>अगर उपभोग की सीमांत प्रवृत्ति बचत की सीमांत प्रवृत्ति के बराबर हो तो गुणक का मूल्य</p> <p>(1) सिर्फ होता है (2) एक के बराबर होता है (3) दो के बराबर होता है (4) अनिश्चित होता है</p>
60.	<p>An increase in tax may lead to</p> <p>(1) A rightward shift in LM curve (2) A leftward shift in LM curve (3) A leftward shift in IS curve (4) A rightward shift in both IS and LM curve</p> <p>कर में बढ़ोतरी होने से</p> <p>(1) LM वक्र दाईं तरफ खिसक जाता है (2) LM वक्र बाईं तरफ खिसक जाता है (3) IS वक्र बाईं तरफ खिसक जाता है (4) IS और LM दोनों ही वक्र दाईं तरफ खिसक जाता है</p>
61.	<p>Which of the following is not a component of vicious cycle from demand side</p> <p>(1) Income (2) Savings (3) Investment (4) Employment</p> <p>निम्नलिखित में से कौन-सी चर मांग पक्ष के कुचक्र का हिस्सा नहीं होती ?</p> <p>(1) आमदनी (2) बचत (3) निवेश (4) रोज़गार</p>

Question No.	Questions
62.	<p>According to most of the theories, fall in share of employment in agriculture indicates</p> <ol style="list-style-type: none">(1) Crisis in agriculture(2) Structural shifts related to development of the economy(3) Mass unemployment(4) Mass rural poverty <p>विकास के बहुतेरे सिद्धान्तों के अनुसार खेती क्षेत्र में रोजगार का हिस्सा गिरने का अर्थ है</p> <ol style="list-style-type: none">(1) खेती में संकट का होना(2) अर्थव्यवस्था के विकास से सम्बन्धित ढांचागत तबदीली का होना(3) व्यापक बेरोजगारी का होना(4) व्यापक देहाती गरीबी का होना
63.	<p>Which of the following is not a component of human development index</p> <ol style="list-style-type: none">(1) Knowledge(2) Life expectancy(3) Infant mortality(4) Standard of living <p>निम्नलिखित में से कौन-सा चर मानव विकास सूचकांक का अंग नहीं है ?</p> <ol style="list-style-type: none">(1) ज्ञान(2) प्रत्याशित जीवन अवधि(3) शिशु मृत्यु दर(4) जीवन स्तर

Question No.	Questions
64.	<p>Human development index was first formulated in</p> <p>(1) 1990 (2) 1970</p> <p>(3) 1965 (4) 1995</p> <p>मानव विकास सूचकांक सबसे पहले किस साल में सूत्रीकृत किया गया था ?</p> <p>(1) 1990 (2) 1970</p> <p>(3) 1965 (4) 1995</p>
65.	<p>For international comparison which of the following is considered a better measure</p> <p>(1) Comparing per capita incomes in US\$ terms</p> <p>(2) Comparing national incomes in US\$ terms</p> <p>(3) Comparing the government debt in PPP\$ terms</p> <p>(4) Comparing the per capita incomes in PPP\$ terms</p> <p>अन्तर्राष्ट्रीय तुलना के लिए कौन-सा माप सबसे बेहतर माना जाता है ?</p> <p>(1) अमरीकी डॉलर में प्रति व्यक्ति आमदनी की तुलना करना</p> <p>(2) अमरीकी डॉलर में राष्ट्रीय आमदनी की तुलना करना</p> <p>(3) खरीद शक्ति समता वाले डॉलर में सरकारी कर्ज की तुलना करना</p> <p>(4) खरीद शक्ति समता वाले डॉलर में प्रति व्यक्ति आमदनी की तुलना करना</p>

Question No.	Questions
66.	<p>The Unbalanced Growth Theory was given by</p> <p>(1) Rosenstein Rodan (2) Hirschman</p> <p>(3) Lewis (4) Harrod and Domar</p> <p>असंतुलित विकास का सिद्धान्त किसके द्वारा दिया गया है ?</p> <p>(1) रोसनेस्टीन रोडन (2) हर्शमैन</p> <p>(3) लेविस (4) हैरोड और डोमर</p>
67.	<p>Why the balanced growth is required in the underdeveloped economies ?</p> <p>(1) Due to indivisibilities in production</p> <p>(2) Due to indivisibilities in demand</p> <p>(3) Due to indivisibilities in supply of savings</p> <p>(4) All of the above</p> <p>अल्पविकसित अर्थव्यवस्थाओं के विकास के लिए संतुलित विकास की क्यों ज़रूरत पड़ती है ?</p> <p>(1) उत्पादन में अविभाजनताओं के कारण</p> <p>(2) मांग में अविभाजनताओं के कारण</p> <p>(3) बचत की पूर्ति में अविभाजनताओं के कारण</p> <p>(4) उपरोक्त सभी</p>

Question No.	Questions
68.	<p>According to Lewis, the wages in the modern sector are</p> <ol style="list-style-type: none"> (1) Just equal to that of the traditional sector (2) Greater by 30-35 per cent of the wages prevailing in the traditional sector (3) Greater by 50-60 per cent of the wages prevailing in the traditional sector (4) Greater by 10-15 per cent of the wages prevailing in the traditional sector <p>लेविस के अनुसार आधुनिक क्षेत्र में मज़दूरी की दर</p> <ol style="list-style-type: none"> (1) पारम्परिक क्षेत्र की मज़दूरी की दर के बिल्कुल बराबर होती है (2) पारम्परिक क्षेत्र की मज़दूरी की दर से 30-35 प्रतिशत अधिक होती है (3) पारम्परिक क्षेत्र की मज़दूरी की दर से 50-60 प्रतिशत अधिक होती है (4) पारम्परिक क्षेत्र की मज़दूरी की दर से 10-15 प्रतिशत अधिक होती है
69.	<p>The concept of disguised unemployed refers to the workers</p> <ol style="list-style-type: none"> (1) Who are voluntarily unemployed (2) Who are involuntarily unemployed (3) Who do not add to total demand (4) Who do not add to total production <p>छुपे हुए बेरोजगार की धारणा में किन मज़दूरों की बात की जाती है ?</p> <ol style="list-style-type: none"> (1) जो कि इच्छित रूप में बेरोजगार होते हैं (2) जो कि अनिच्छित रूप में बेरोजगार होते हैं (3) जो कि कुल मांग में कोई हिस्सा नहीं रखते (4) जो कि कुल उत्पादन में कोई हिस्सा नहीं रखते

Question No.	Questions
70.	<p>Below the critical minimum effort</p> <p>(1) Spread effects are greater than the backwash effects (2) Backwash effects are greater than the spread effects (3) Negative externalities are lower than the positive externalities (4) There is too much government interference</p> <p>गंभीर न्यूनतम प्रयास के नीचे वाले बिन्दुओं पर</p> <p>(1) फैलाव प्रभाव प्रक्षिप्त प्रभावों से बड़े होते हैं (2) प्रक्षिप्त प्रभाव फैलाव प्रभावों से बड़े होते हैं (3) ऋणात्मक बाह्यताएं धनात्मक बाह्यताओं से कम होती हैं (4) सरकारी हस्तक्षेप बहुत ज्यादा होता है</p>
71.	<p>Which plan is known as Mahalanobis plan</p> <p>(1) First plan (2) Second plan (3) Fourth plan (4) Eighth plan</p> <p>किस योजना को महालनोबिस योजना का भी नाम दिया जाता है ?</p> <p>(1) पहली योजना (2) दूसरी योजना (3) चौथी योजना (4) आठवीं योजना</p>
72.	<p>The initiation of 'Blue Revolution' is related with</p> <p>(1) Third plan (2) Fifth plan (3) Seventh plan (4) Ninth plan</p> <p>नीली क्रांति की शुरुआत किस योजना से सम्बन्धित है ?</p> <p>(1) तीसरी योजना (2) पांचवीं योजना (3) सातवीं योजना (4) नौवीं योजना</p>

Question No.	Questions
73.	<p>Which period is termed as the 'Plan Holiday' ?</p> <p>(1) 1947-50 (2) 1966-69 (3) 1990-92 (4) 2017 onwards</p> <p>किस काल को 'योजना छुट्टी' का काल माना जाता है ?</p> <p>(1) 1947-50 (2) 1966-69 (3) 1990-92 (4) 2017 के बाद का समय</p>
74.	<p>When did Niti Aayog came in to force ?</p> <p>(1) 2010 (2) 2015 (3) 2017 (4) 2014</p> <p>नीति आयोग ने कब से काम करना शुरू किया ?</p> <p>(1) 2010 (2) 2015 (3) 2017 (4) 2014</p>
75.	<p>Which plan was launched with the slogan of 'Garibi Hatao'</p> <p>(1) Third plan (2) Fifth plan (3) Seventh plan (4) Ninth plan</p> <p>कौन सी योजना 'गरीबी हटाओ' के नारे के साथ शुरू की गई थी ?</p> <p>(1) तीसरी योजना (2) पांचवीं योजना (3) सातवीं योजना (4) नौवीं योजना</p>

Question No.	Questions
76.	<p>Which of the following had the highest population density in Census, 2011</p> <p>(1) Delhi (2) Maharashtra (3) West Bengal (4) Uttar Pradesh</p> <p>2011 की जनगणना में किस राज्य की जनसंख्या सघनता सबसे ज्यादा थी ?</p> <p>(1) दिल्ली (2) महाराष्ट्र (3) पश्चिम बंगाल (4) उत्तर प्रदेश</p>
77.	<p>Sex ratio refers to</p> <p>(1) Proportion of females in total population (2) Number of females per thousand of population (3) Number of females per thousand of males (4) Number of males per thousand of females</p> <p>लिंगक अनुपात का अर्थ है</p> <p>(1) कुल जनसंख्या में स्त्रियों का अनुपात (2) प्रति हजार जनसंख्या के पीछे स्त्रियों की गिनती (3) प्रति हजार मर्दों के पीछे स्त्रियों की गिनती (4) प्रति हजार स्त्रियों के पीछे मर्दों की गिनती</p>
78.	<p>The Census 2011 was the ____ National Census Survey conducted by the Census Organisation of India.</p> <p>(1) 7th (2) 15th (3) 10th (4) 11th</p> <p>2011 की जनगणना, भारतीय जनगणना संगठन का कौन सा राष्ट्रीय जनगणना सर्वेक्षण बनता था ?</p> <p>(1) सातवां (2) पंद्रहवां (3) दसवां (4) ग्यारहवां</p>

Question No.	Questions								
81.	<p>Cross elasticity is defined as :</p> <ol style="list-style-type: none"> (1) Percentage change in demand for X commodity due to percentage change in income from Y commodity (2) Percentage change in demand of A consumer due to percentage change in income of B consumer (3) Percentage change in demand for X commodity due to percentage change in price of Y commodity. (4) Percentage change in demand for X commodity due to percentage change in price of X commodity. <p>माँग की तिरछी लोच का अर्थ है :</p> <ol style="list-style-type: none"> (1) Y वस्तु से आमदनी में प्रतिशत तबदीली के कारण X वस्तु की माँग में होने वाली प्रतिशत तबदीली (2) B उपभोगी की आमदनी में प्रतिशत तबदीली के कारण A उपभोगी की माँग में होने वाली प्रतिशत तबदीली (3) Y वस्तु की कीमत में प्रतिशत तबदीली के कारण X वस्तु की माँग में होने वाली प्रतिशत तबदीली (4) X वस्तु की कीमत में प्रतिशत तबदीली के कारण X वस्तु की माँग में होने वाली प्रतिशत तबदीली 								
82.	<p>The problem of scarcity and choice can be found in the definition by :</p> <table style="width: 100%; border: none;"> <tr> <td style="width: 50%;">(1) Alfred Marshall</td> <td style="width: 50%;">(2) Lionel Robbins</td> </tr> <tr> <td>(3) J. A. Schumpeter</td> <td>(4) Adam Smith</td> </tr> </table> <p>दुर्लभता और चुनाव की समस्या की चर्चा कौन सी परिभाषा में मिलती है ?</p> <table style="width: 100%; border: none;"> <tr> <td style="width: 50%;">(1) अल्फ्रेड मार्शल</td> <td style="width: 50%;">(2) लियोनेल रॉबिन्स</td> </tr> <tr> <td>(3) जे.ए. शुम्पीटर</td> <td>(4) एडम स्मिथ</td> </tr> </table>	(1) Alfred Marshall	(2) Lionel Robbins	(3) J. A. Schumpeter	(4) Adam Smith	(1) अल्फ्रेड मार्शल	(2) लियोनेल रॉबिन्स	(3) जे.ए. शुम्पीटर	(4) एडम स्मिथ
(1) Alfred Marshall	(2) Lionel Robbins								
(3) J. A. Schumpeter	(4) Adam Smith								
(1) अल्फ्रेड मार्शल	(2) लियोनेल रॉबिन्स								
(3) जे.ए. शुम्पीटर	(4) एडम स्मिथ								

Question No.	Questions
83.	<p>If the utility can not be measured in numbers, it is called</p> <ol style="list-style-type: none">(1) Ordinal utility(2) Cardinal utility(3) Ordinary utility(4) Optimum utility <p>अगर हम तुष्टीगुण को अँकों में न माप सकें तो इसे कौन सा नाम देते हैं ?</p> <ol style="list-style-type: none">(1) क्रमवाचक तुष्टीगुण(2) संख्यावाचक तुष्टीगुण(3) साधारण तुष्टीगुण(4) इष्टतम तुष्टीगुण
84.	<p>Consumer surplus can be defined as:</p> <ol style="list-style-type: none">(1) Difference of marginal utility and price(2) Difference of marginal utility and total utility(3) Difference of marginal utility and average utility(4) All of the above <p>उपभोक्ता अधिशेष का अर्थ है :</p> <ol style="list-style-type: none">(1) सीमांत तुष्टीगुण और कीमत में अन्तर(2) सीमांत तुष्टीगुण और कुल तुष्टीगुण में अन्तर(3) सीमांत तुष्टीगुण और औसत तुष्टीगुण में अन्तर(4) उपरोक्त सभी

Question No.	Questions
85.	<p>A consumer is in equilibrium where</p> <ol style="list-style-type: none"> (1) The indifference curve is tangent to the price line (2) The indifference curve is convex to the origin (3) Both (1) and (2) (4) None of the above <p>एक उपभोगी तभी संतुलन हासिल करेगा जब</p> <ol style="list-style-type: none"> (1) उदासीनता वक्र कीमत रेखा को स्पर्श करे (2) उदासीन वक्र मूल बिन्दु की तरफ उत्तल होता है (3) उपरोक्त (1) तथा (2) दोनों (4) उपरोक्त में से कोई नहीं
86.	<p>In case of the inferior goods, for a fall in price</p> <ol style="list-style-type: none"> (1) The price effect is negative due to negative income effect (2) The price effect is positive due to positive income effect (3) The price effect is negative due to negative substitution effect (4) The price effect is positive as positive substitution effect is higher than the negative income effect <p>घटिया वस्तुओं के मामले में कीमत के गिरने से</p> <ol style="list-style-type: none"> (1) आमदनी प्रभाव के ऋणात्मक होने के कारण कीमत प्रभाव भी ऋणात्मक होता है (2) आमदनी प्रभाव के धनात्मक होने के कारण कीमत प्रभाव भी धनात्मक होता है (3) स्थानापन्नता प्रभाव के ऋणात्मक होने के कारण कीमत प्रभाव भी ऋणात्मक होता है (4) धनात्मक स्थानापन्नता प्रभाव ऋणात्मक आमदनी प्रभाव से बड़ा होने के कारण कीमत प्रभाव धनात्मक होता है

Question No.	Questions
87.	<p>The area between the ridge lines show :</p> <ol style="list-style-type: none"> (1) Positive marginal productivity of both the factors (2) Negative marginal productivity of both the factors (3) Negative marginal productivity of factor on Y-axis (4) Negative marginal productivity of factor on X-axis <p>रिज रेखाओं के बीच का क्षेत्र</p> <ol style="list-style-type: none"> (1) दोनों साधनों की धनात्मक सीमांत उत्पादकता को दर्शाता है (2) दोनों साधनों की ऋणात्मक सीमांत उत्पादकता को दर्शाता है (3) Y-धुरे वाले साधन की ऋणात्मक सीमांत उत्पादकता को दर्शाता है (4) X-धुरे वाले साधन की ऋणात्मक सीमांत उत्पादकता को दर्शाता है
88.	<p>In the long run, the returns to scale are increasing because</p> <ol style="list-style-type: none"> (1) The production is experiencing only the economies of scale (2) The production is experiencing only the diseconomies of scale (3) The economies of scale are higher than the diseconomies of scale (4) The diseconomies of scale are higher than the economies of scale <p>लंबे समय में पैमाने के प्रतिफल इस लिए बढ़ते हैं क्योंकि</p> <ol style="list-style-type: none"> (1) उत्पादन में सिर्फ पैमाने की बचतें हासिल हो रही होती हैं (2) उत्पादन में सिर्फ पैमाने की हानियाँ हासिल हो रही होती हैं (3) उत्पादन में पैमाने की बचतें पैमाने की हानियों से अधिक होती हैं (4) उत्पादन में पैमाने की हानियाँ पैमाने की बचतों से अधिक होती हैं

Question No.	Questions
91.	<p>If January 1, 1996, was Monday, what day of the week was January 1, 1997?</p> <p>(1) Tuesday (2) Wednesday (3) Sunday (4) Friday</p> <p>अगर जनवरी 1, 1996 को सोमवार हो तो जनवरी 1, 1997 को कौन सा दिन होगा ?</p> <p>(1) मंगलवार (2) बुधवार (3) रविवार (4) शुक्रवार</p>
92.	<p>How many times, the hands of a clock coincide in a day?</p> <p>(1) 11 (2) 12 (3) 22 (4) 24</p> <p>एक दिन में घड़ी की दोनों सुईयों कितनी बार आपस में टकराती हैं ?</p> <p>(1) 11 (2) 12 (3) 22 (4) 24</p>
93.	<p>Including stoppages the speed of a bus is 60 km/hr and excluding stoppages its speed is 80 km/hr. For how long the bus stops in an hour?</p> <p>(1) 20 min. (2) 15 min. (3) 10 min. (4) 12 min.</p> <p>अलग-अलग जगहों पर ठहराव का समय मिला कर किसी बस की गति 60 कि.मी./घण्टा और ठहराव का समय निकालने से 80 कि.मी./घण्टा बनती है। एक घण्टे में उस बस के ठहराव का औसत कितना होगा ?</p> <p>(1) 20 मिनट (2) 15 मिनट (3) 10 मिनट (4) 12 मिनट</p>

Question No.	Questions
94.	<p>A man completes a journey in 5 hours. He completes the first half of the journey at a speed of 20 km/hr and the second half at a speed of 25 km/hr. What is the total journey in km ?</p> <p>(1) 5.4 Km (2) 6.4 Km (3) 2.7 Km (4) 3.2 Km</p> <p>एक आदमी एक सफर 5 घण्टों में पूरा करता है। वह उस सफर का पहला आधा हिस्सा 20 कि.मी./घण्टा के हिसाब से और दूसरा आधा हिस्सा 25 कि.मी./घण्टा की गति से पूरा करता है। उस आदमी का कि.मी. में कुल सफर कितना होगा ?</p> <p>(1) 5.4 कि.मी. (2) 6.4 कि.मी. (3) 2.7 कि.मी. (4) 3.2 कि.मी.</p>
95.	<p>A brother is twice as old as her sister. If 10 years ago, the age of the brother was 6 times the age of the sister, what is the present age of the brother ?</p> <p>(1) 25 yrs (2) 20 yrs (3) 15 yrs (4) 14 yrs</p> <p>एक लड़के की उम्र अपनी बहन की उम्र की दो गुना है। अगर 10 साल पहले उसकी उम्र अपनी बहन की उम्र की छः गुना थी। उसकी वर्तमान उम्र क्या होगी ?</p> <p>(1) 25 साल (2) 20 साल (3) 15 साल (4) 14 साल</p>
96.	<p>Look at this series : 8, 43, 11, 41, __, 39, 17. What number should fill in the blank ?</p> <p>(1) 42 (2) 8 (3) 14 (4) 19</p> <p>इस अंक श्रृंखला में खाली स्थान भरो : 8, 43, 11, 41, __, 39, 17</p> <p>(1) 42 (2) 8 (3) 14 (4) 19</p>

Question No.	Questions
97.	<p>In a bag, there are 8 red, 7 yellow and 6 green balls. If one ball is picked up at random, what is the probability that it is neither red nor green ?</p> <p>(1) $1/2$ (2) $1/8$ (3) $1/3$ (4) $1/7$</p> <p>एक थैले में 8 लाल, 7 पीली और 6 हरी गेंदें हैं। अगर बेतरतीब ढंग से एक गेंद उठाई जाए तो क्या सम्भावना है कि वो गेंद न लाल हो और न हरी ?</p> <p>(1) $1/2$ (2) $1/8$ (3) $1/3$ (4) $1/7$</p>
98.	<p>If all drink mixes are beverages; all beverages are drinkable and some beverages are red, then which of the following is true ?</p> <p>(1) All beverages are drink mixes (2) All mixes are drinkable (3) All red mixes are drinkable (4) All of the above</p> <p>अगर सब पेय मिश्रण पेय पदार्थ हों, सारे पेय पदार्थ पीने योग्य हों और कुछ पेय पदार्थ लाल हों, तो निम्नलिखित में कौन सा कथन ठीक है ?</p> <p>(1) सारे पेय पदार्थ, पेय मिश्रण होते हैं (2) सारे पेय मिश्रण, पीने योग्य होते हैं (3) सारे लाल मिश्रण पीने योग्य होते हैं (4) उपरोक्त सभी</p>

Question No.	Questions
99.	<p>A fort had provision of food for 150 men for 45 days. After 10 days, 25 men left the fort. The number of days for which the remaining food will last, is</p> <p>(1) 42 days (2) 54 days (3) 37.5 days (4) 47.25 days</p> <p>एक किले में 150 आदमियों के लिए 45 दिन का भोजन रखा है 10 दिन बाद अगर 25 आदमी किला छोड़ कर चले जाएँ तो बाकी बचे आदमियों के लिए बाकी भोजन कितने दिन चलेगा ?</p> <p>(1) 42 दिन (2) 54 दिन (3) 37.5 दिन (4) 47.25 दिन</p>
100.	<p>Fill the series 2, 4, 12, 48, 240,</p> <p>(1) 480 (2) 720 (3) 960 (4) 1440</p> <p>इस अंक श्रृंखला को पूरा करें 2, 4, 12, 48, 240,</p> <p>(1) 480 (2) 720 (3) 960 (4) 1440</p>



ANSWER KEYS OF ECONOMICS FOR SESSION 2022-23				
Q. NO.	A	B	C	D
1	3	3 ✓	3	4
2	2	2 ✓	2	2
3	1	3 ✓	3	4
4	1	1 ✓	1	4
5	3	1 ✓	4	1
6	4	3 ✓	2	1
7	1	1 ✓	4	3
8	3	2 ✓	2	3
9	3	1 ✓	4	3
10	1	1 ✓	2	4
11	4	3 ✓	1	1
12	2	1 ✓	4	1
13	4	4 ✓	3	2
14	4	3 ✓	1	1
15	1	3 ✓	3	2
16	1	3 ✓	3	1
17	3	4 ✓	1	2
18	3	2 ✓	3	3
19	3	2 ✓	3	4
20	4	2 ✓	3	1
21	1	2 ✓	3	3
22	4	3 ✓	2	2
23	3	2 ✓	1	3
24	1	1 ✓	1	1
25	3	1 ✓	3	1
26	3	3 ✓	4	3
27	1	3 ✓	1	1
28	3	3 ✓	3	2
29	3	1 ✓	3	1
30	3	4 ✓	1	1
31	3	4 ✓	1	3
32	2	2 ✓	1	1
33	2	4 ✓	2	4
34	4	4 ✓	1	3
35	4	1 ✓	2	3
36	1	1 ✓	1	3
37	1	3 ✓	2	4
38	2	3 ✓	3	2
39	3	3 ✓	4	2
40	2	4 ✓	1	2
41	3	1 ✓	2	3
42	2	1 ✓	3	2
43	3	2 ✓	2	2
44	1	1 ✓	2	4
45	4	2 ✓	2	4
46	2	1 ✓	1	1
47	4	2 ✓	3	1
48	2	3 ✓	2	2
49	4	4 ✓	3	3
50	2	1 ✓	3	2

Kiranaulaf Always
26/08/2022

Pune
26/08/2022

Bimbo
26/08/22

ANSWER KEYS OF ECONOMICS FOR SESSION 2022-23				
Q. NO.	A	B	C	D
51	3	2 ✓	3	1
52	1	3 ✓	2	4
53	4	2 ✓	2	3
54	3	2 ✓	4	1
55	3	2 ✓	4	3
56	3	1 ✓	1	3
57	4	3 ✓	1	1
58	2	2 ✓	2	3
59	2	3 ✓	3	3
60	2	3 ✓	2	3
61	2	3 ✓	3	3
62	3	2 ✓	2	2
63	2	2 ✓	3	3
64	2	4 ✓	1	1
65	2	4 ✓	1	4
66	1	1 ✓	3	2
67	3	1 ✓	1	4
68	2	2 ✓	2	2
69	3	3 ✓	1	4
70	3	2 ✓	1	2
71	3	3 ✓	2	2
72	2	2 ✓	3	3
73	3	3 ✓	2	2
74	1	1 ✓	1	2
75	1	4 ✓	1	2
76	3	2 ✓	3	1
77	1	4 ✓	3	3
78	2	2 ✓	3	2
79	1	4 ✓	1	3
80	1	2 ✓	4	3
81	2	1 ✓	4	3
82	3	4 ✓	2	2
83	2	3 ✓	4	1
84	1	1 ✓	4	1
85	1	3 ✓	1	3
86	3	3 ✓	1	4
87	3	1 ✓	3	1
88	3	3 ✓	3	3
89	1	3 ✓	3	3
90	4	3 ✓	4	1
91	1	3 ✓	3	2
92	1	2 ✓	1	3
93	2	1 ✓	4	2
94	1	1 ✓	3	1
95	2	3 ✓	3	1
96	1	4 ✓	3	3
97	2	1 ✓	4	3
98	3	3 ✓	2	3
99	4	3 ✓	2	1
100	1	1 ✓	2	4

Bimla
26/8/22

Kiranfa
26.08.2022

Bahari
28/8/22

Pooja
28/8/22